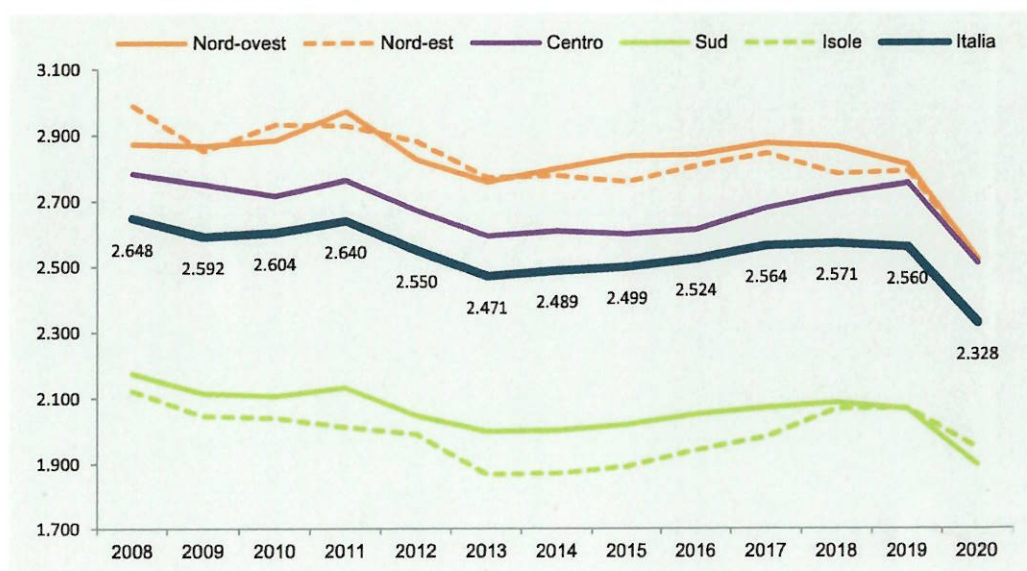


ID	domanda 1 - amm/ord	domanda 2 - lavoro	domanda 3 - contabilità	domanda 4 - stat
28	13. Il procedimento amministrativo	6. Le politiche attive del lavoro e la formazione professionale nell'ambito del Programma nazionale per la garanzia di occupabilità dei lavoratori (GOL).	14. Il principio dell'equilibrio di bilancio nel decreto legislativo 118/2011	15

15. Commentare il grafico

Figura 1.19 Spesa media mensile delle famiglie per ripartizione geografica. Anni 2008-2020 (valori in euro)



Fonte: Istat, Indagine sulle spese delle famiglie

Idoneità Informatica (id 28):

Si consideri la figura del documento del file "word_4":

- Che formato ha la figura inserita?
- Posso creare nel documento una tabella simile? Come?

Idoneità Inglese:

Natura/clima

ID	domanda 1 - amm/ord	domanda 2 - lavoro	domanda 3 - contabilità	domanda 4 - stat
27	2. I regolamenti	3. Quali sono i percorsi individuati dal Programma nazionale per la garanzia di occupabilità dei lavoratori (GOL)?	15. Il principio della competenza finanziaria nel decreto legislativo 118/2011	3

3. Si supponga di fare un'indagine medica in cui vengono raccolte le seguenti caratteristiche sugli individui del campione. Quali sono variabili categoriche e quali sono quantitative?

- Sesso (maschio o femmina)
- Età (anni)
- Etnia (asiatico, nero, bianco, altro)
- Fumatore/trice (si, no)
- Pressione sanguigna (millimetri di mercurio)
- Presenza di calcio nel sangue (microgrammi per millimetro)

Idoneità Informatica (id 27):

Si consideri il testo del documento del file "word_4" e si modifichi il testo:

- Si giustifichi il testo e si inserisca l'intestazione e il numero di pagina

Idoneità Inglese:

Amici

<i>traccia</i>	<i>domanda 1 - amm/ord</i>	<i>domanda 2 - lavoro</i>	<i>domanda 3 - contabilità</i>	<i>domanda 4 - stat</i>
16	1. L'interesse legittimo	14. Modalità attuative del Percorso 5 nel Piano attuativo del Programma nazionale per la garanzia di occupabilità dei lavoratori (GOL) della regione Friuli Venezia Giulia.	15. Il principio della competenza finanziaria nel decreto legislativo 118/2011	2

2. Una variabile è una caratteristica associata alle unità statistiche, che può assumere valori diversi sulle diverse unità. Si faccia un esempio di variabile **categorica** e di variabile **quantitativa**. Cosa si intende per distribuzione di una variabile?

Idoneità Informatica (id 16):

Si consideri la tabella nel foglio "tabella4" nel file "tabA", e si facciano le seguenti modifiche:

- copiare la tabella trasponendola
- creare un grafico a torta per le preferenze del genere maschile

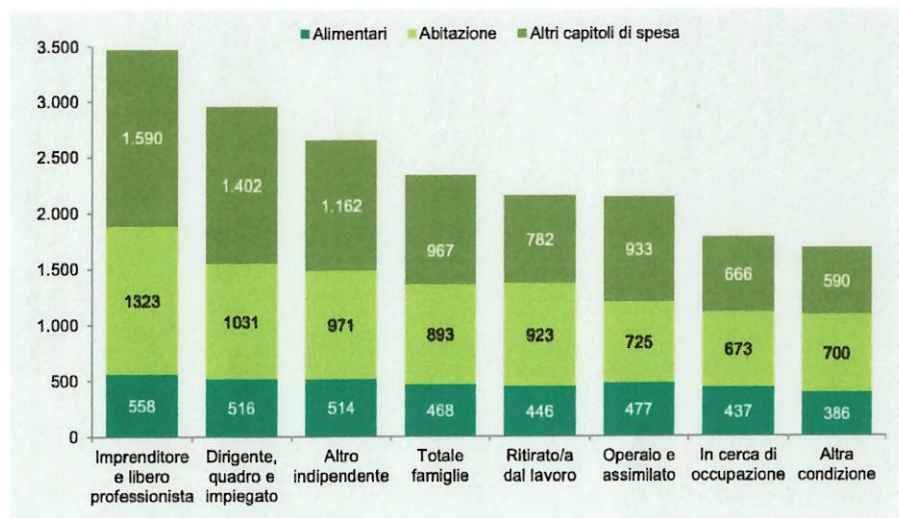
Idoneità Inglese:

Scuola e formazione

ID	domanda 1 - amm/ord	domanda 2 - lavoro	domanda 3 - contabilità	domanda 4 - stat
4	6. Amministrazione attiva, consultiva, di controllo	12. Modalità attuative del Percorso 3 nel Piano attuativo del Programma nazionale per la garanzia di occupabilità dei lavoratori (GOL) della regione Friuli Venezia Giulia.	**Le fasi del procedimento di spesa e, in particolare, l'ordinazione e il pagamento	14

14. Il grafico successivo cosa rappresenta? Come potremmo rappresentare gli stessi dati in modo alternativo

Figura 1.21 Spesa media mensile totale, per alimentari, per abitazione e per altri capitoli di spesa per condizione professionale della persona di riferimento. Anno 2020 (valori in euro)



Fonte: Istat, Indagine sulle spese delle famiglie

Idoneità Informatica (id 4):

Si consideri il testo del file "word_1":

- Si può inserire una tabella nel documento word? In che modo?
- Si divida il testo in paragrafi inserendo dei titoli in corsivo.

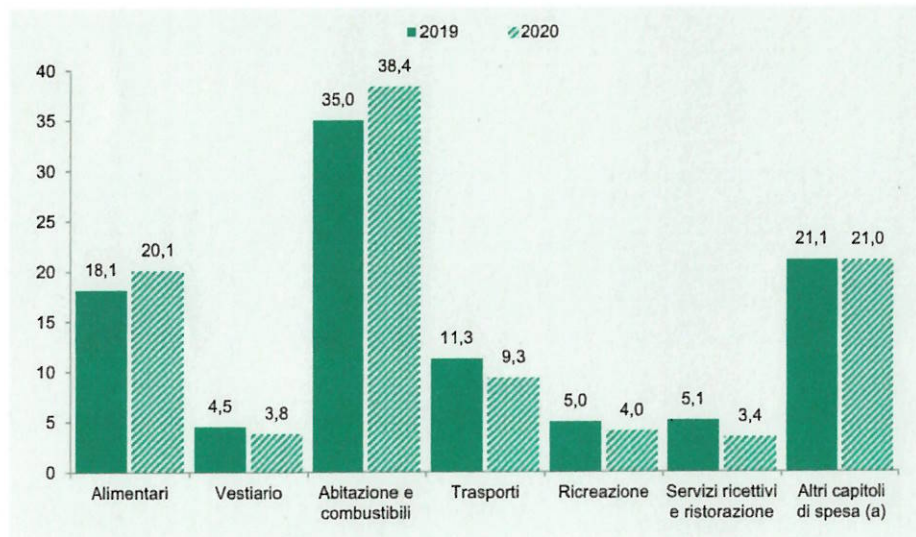
Idoneità Inglese:

Descrivi la tua giornata

ID	domanda 1 - amm/ord	domanda 2 - lavoro	domanda 3 - contabilità	domanda 4 - stat
20	*Obbligo di comunicazione di avvio del procedimento e intervento nel procedimento	12. Modalità attuative del Percorso 3 nel Piano attuativo del Programma nazionale per la garanzia di occupabilità dei lavoratori (GOL) della regione Friuli Venezia-Giulia.	9. Il bilancio pubblico: stanziamento della spesa e previsione dell'entrata	13

13. Il grafico successivo cosa rappresenta? Come potremmo rappresentare gli stessi dati in modo alternativo

Figura 1.20 Spesa media mensile per capitolo di spesa. Anni 2019-2020 (composizione percentuale rispetto al totale della spesa media mensile)



Fonte: Istat, Indagine sulle spese delle famiglie
(a) Bevande alcoliche e tabacchi; Mobili, articoli e servizi per la casa; Servizi sanitari e spese per la salute; Comunicazioni; Istruzione; Altri beni e servizi.

Idoneità Informatica (id 20):

Si consideri il testo del documento del file "word_2":

- si faccia il conteggio dei caratteri del testo, escluso il titolo
- si aumentino i margini e si orienti orizzontalmente la pagina

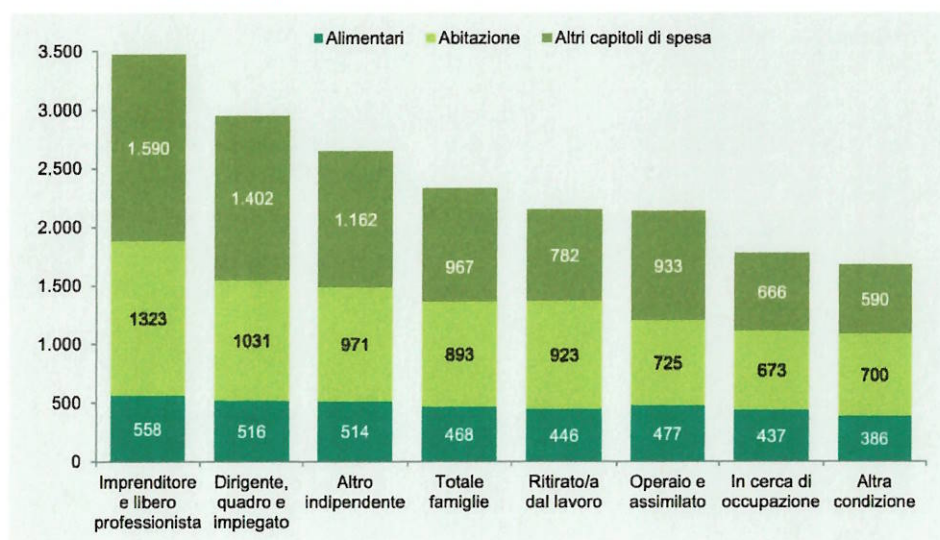
Idoneità Inglese:

Cinema

ID	domanda 1 - amm/ord	domanda 2 - lavoro	domanda 3 - contabilità	domanda 4 - stat
21	11. discrezionalità amministrativa	La 14. Modalità attuative del Percorso 5 nel Piano attuativo del Programma nazionale per la garanzia di occupabilità dei lavoratori (GOL) della regione Friuli Venezia-Giulia.	5. Principi costituzionali in materia di bilancio	14

14. Il grafico successivo cosa rappresenta? Come potremmo rappresentare gli stessi dati in modo alternativo

Figura 1.21 Spesa media mensile totale, per alimentari, per abitazione e per altri capitoli di spesa per condizione professionale della persona di riferimento. Anno 2020 (valori in euro)



Fonte: Istat, Indagine sulle spese delle famiglie

Idoneità Informatica (id 21):

Si consideri il testo del documento del file "word_3":

- cosa indicano le parti di testo colorate nei punti elenco?
- È possibile ridurre e modificare la posizione dell'immagine?

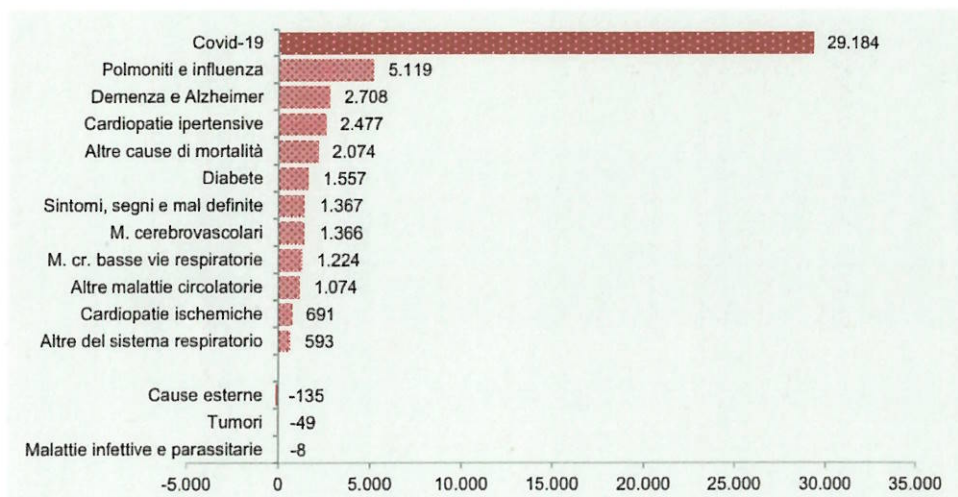
Idoneità Inglese:

Serie tv

ID	domanda 1 - amm/ord	domanda 2 - lavoro	domanda 3 - contabilità	domanda 4 - stat
13	15. Avvio e conclusione del procedimento amministrativo	5. L'assessment quale strumento per la personalizzazione delle misure previste dal Programma nazionale per la garanzia di occupabilità dei lavoratori (GOL).	11. I principi di annualità, unità e universalità nel decreto legislativo 118/2011	1

1. Si consideri un qualsiasi insieme di dati che contiene delle informazioni. Cosa si intende per **unità statistiche** e per **variabili**? Consideriamo l'esempio riportato in tabella, quali sono le unità statistiche rilevate e la variabile/caratteristica misurata?

Figura 2.11 Eccesso di mortalità: contributo delle cause all'incremento di marzo-aprile 2020 rispetto alla media 2015-2019 (valori assoluti)



Fonte: Istat, Rilevazione su decessi e cause di morte

Idoneità Informatica (id 13):

Si consideri la tabella nel foglio "tabella3" nel file "tabA", e si facciano le seguenti aggiunte:

- si calcolino le somme di riga e di colonna
- si calcolino le percentuali dei maschi e delle femmine

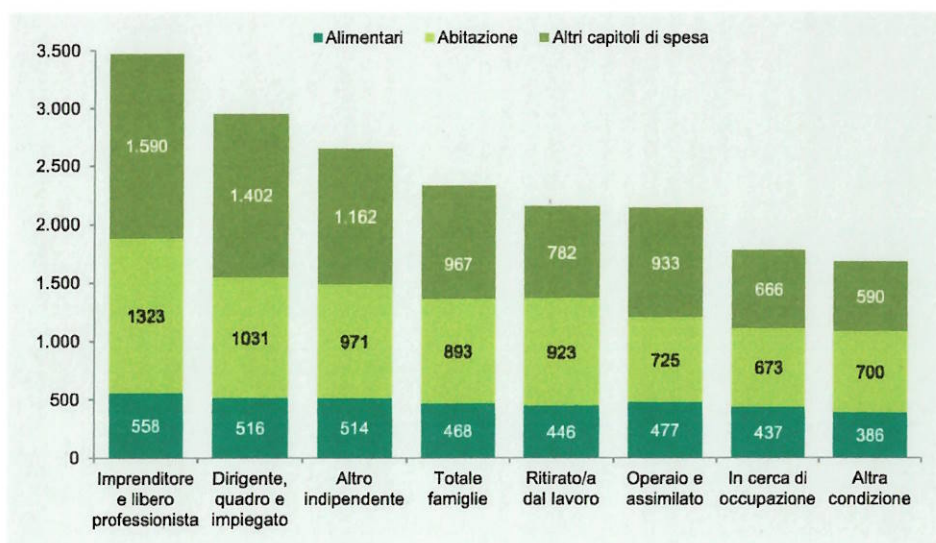
Idoneità Inglese:

Libri

ID	domanda 1 - amm/ord	domanda 2 - lavoro	domanda 3 - contabilità	domanda 4 - stat
12	14. Le fasi del procedimento amministrativo	7. La funzione dei Piani attuativi regionali nell'ambito del Programma nazionale per la garanzia di occupabilità dei lavoratori (GOL).	10. Bilancio di previsione finanziaria e bilancio finanziario gestionale nella legge regionale 26/2015	14

14. Il grafico successivo cosa rappresenta? Come potremmo rappresentare gli stessi dati in modo alternativo

Figura 1.21 Spesa media mensile totale, per alimentari, per abitazione e per altri capitoli di spesa per condizione professionale della persona di riferimento. Anno 2020 (valori in euro)



Fonte: Istat, Indagine sulle spese delle famiglie

Idoneità Informatica (id 12):

Si consideri la tabella nel foglio "tabella2" nel file "tabA", e si facciano le seguenti modifiche:

- si contino i maschi (funzione "CONTA.SE")
- si calcoli l'anno di nascita modale

Idoneità Inglese:

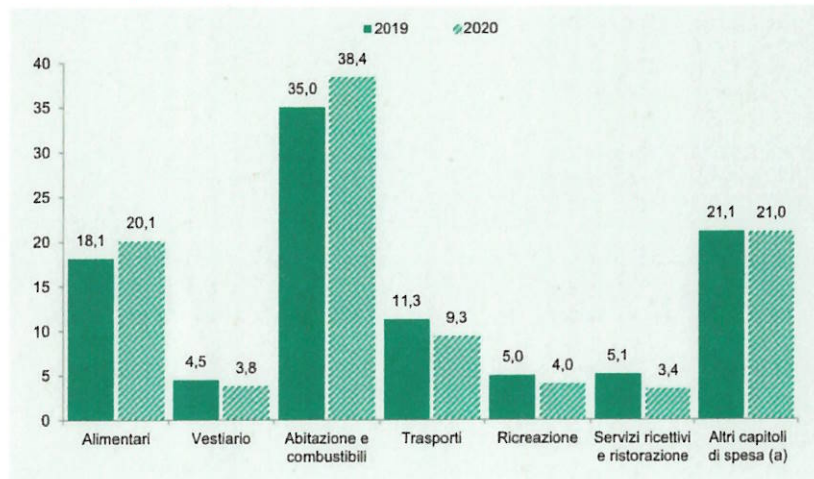
La tua città

ID	domanda 1 - amm/ord	domanda 2 - lavoro	domanda 3 - contabilità	domanda 4 - stat
19	^La motivazione del provvedimento amministrativo	2. Quali sono i beneficiari del Programma nazionale per la garanzia di occupabilità dei lavoratori (GOL)?	15. Il principio della competenza finanziaria nel decreto legislativo 118/2011	5

5. Nell'analisi esplorativa dei dati si utilizzano i grafici a barre.

- Cosa indica l'altezza delle barre?
- Possono essere escluse delle categorie nel grafico?
- Cosa indica il grafico sotto riportato?

Figura 1.20 Spesa media mensile per capitolo di spesa. Anni 2019-2020 (composizione percentuale rispetto al totale della spesa media mensile)



Fonte: Istat, Indagine sulle spese delle famiglie
(a) Bevande alcoliche e tabacchi; Mobili, articoli e servizi per la casa; Servizi sanitari e spese per la salute; Comunicazioni; Istruzione; Altri beni e servizi.

Idoneità Informatica (id 19):

Si consideri il testo del documento del file "word_2" modificandolo nel seguente modo:

- giustificando il testo
- inserendo (convertendo) il testo in tabella

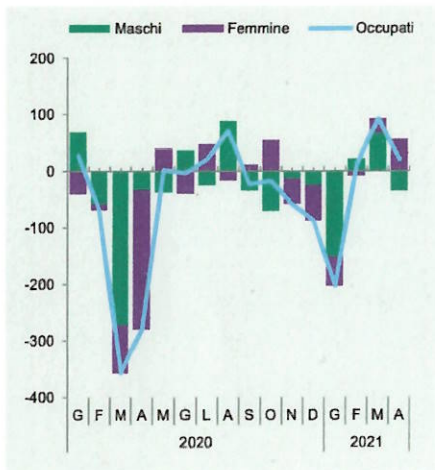
Idoneità Inglese:

Vacanze

ID	domanda 1 - amm/ord	domanda 2 - lavoro	domanda 3 - contabilità	domanda 4 - stat
29	5. La funzione amministrativa	6. Le politiche attive del lavoro e la formazione professionale nell'ambito del Programma nazionale per la garanzia di occupabilità dei lavoratori (GOL).	12. Il principio della veridicità, attendibilità, correttezza e comprensibilità nel decreto legislativo 118/2011	16

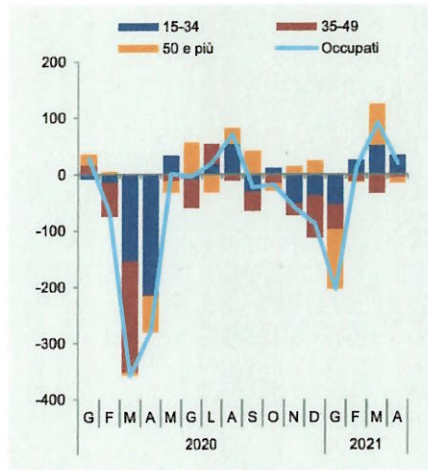
16. Commentare il grafico

Figura 1.11a Occupati per genere. Gennaio 2020-Aprile 2021 (variazioni congiunturali assolute, dati destagionalizzati) (a)



Fonte: Istat, Rilevazione sulle forze di lavoro (a) Dati provvisori.

Figura 1.11b Occupati per classe di età. Gennaio 2020-Aprile 2021 (variazioni congiunturali assolute, dati destagionalizzati) (a)



Fonte: Istat, Rilevazione sulle forze di lavoro (a) Dati provvisori.

Idoneità Informatica (id 29):

Si consideri il documento del file "word_4" e lo si modifichi:

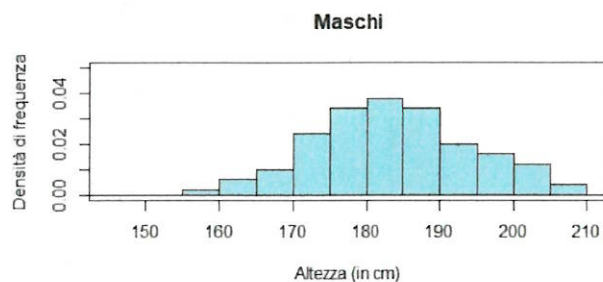
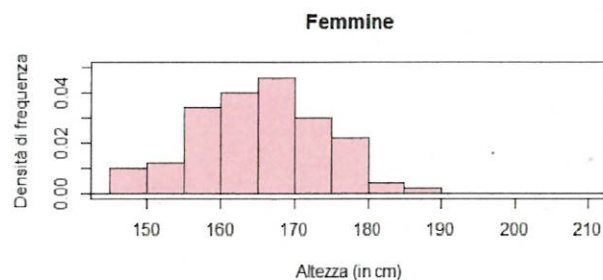
- Giustificando il testo
- Spostando la figura a fianco del testo

Idoneità Inglese:

Attualità

ID	domanda 1 - amm/ord	domanda 2 - lavoro	domanda 3 - contabilità	domanda 4 - stat
24	°I provvedimenti di autorizzazione e di concessione	8. La cooperazione tra i servizi pubblici per l'impiego e quelli privati nel Piano attuativo del Programma nazionale per la garanzia di occupabilità dei lavoratori (GOL) della regione Friuli Venezia Giulia.	2. La prenotazione delle risorse	6

6. L'istogramma, utilizzato per variabili quantitative, cosa rappresenta? In un istogramma l'altezza delle barre a cosa corrisponde? Commentare i seguenti istogrammi



Idoneità Informatica (id 24):

Si consideri il testo del documento del file "word_4" e si modifichi il testo:

- Si giustifichi il testo e lo si divida in punti elenco

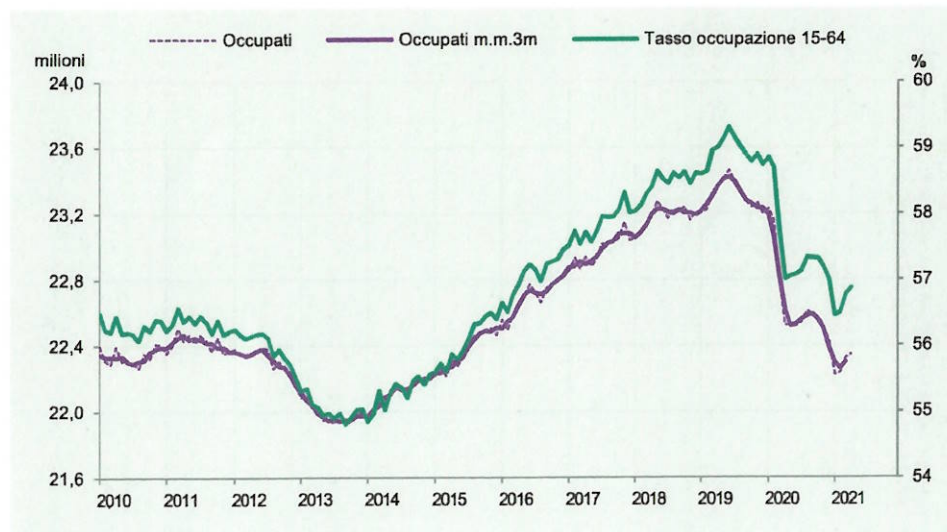
Idoneità Inglese:

Teatro/spettacoli

ID	domanda 1 - amm/ord	domanda 2 - lavoro	domanda 3 - contabilità	domanda 4 - stat
10	*Obbligo di comunicazione di avvio del procedimento e intervento nel procedimento	10. Modalità attuative del Percorso 1 nel Piano attuativo del Programma nazionale per la garanzia di occupabilità dei lavoratori (GOL) della regione Friuli Venezia Giulia.	11. I principi di annualità, unità e universalità nel decreto legislativo 118/2011	12

12. Che tipo di diagramma è il seguente? A cosa corrisponde il tasso di occupazione? Commentare il grafico

Figura 1.9 Andamento dell'occupazione in Italia. Occupati (milioni, scala sinistra) e tasso di occupazione (valori percentuali, scala destra) (a). Anni 2010-2021 (aprile)



Fonte: Istat, Rilevazione sulle forze di lavoro
(a) Dati provvisori.

Idoneità Informatica (id 10):

Si consideri la tabella nel foglio "tabella2" nel file "tabA", e si facciano le seguenti modifiche:

- Evidenziare la riga dei nomi delle colonne
- Ordinare i dati in base alla classe di età

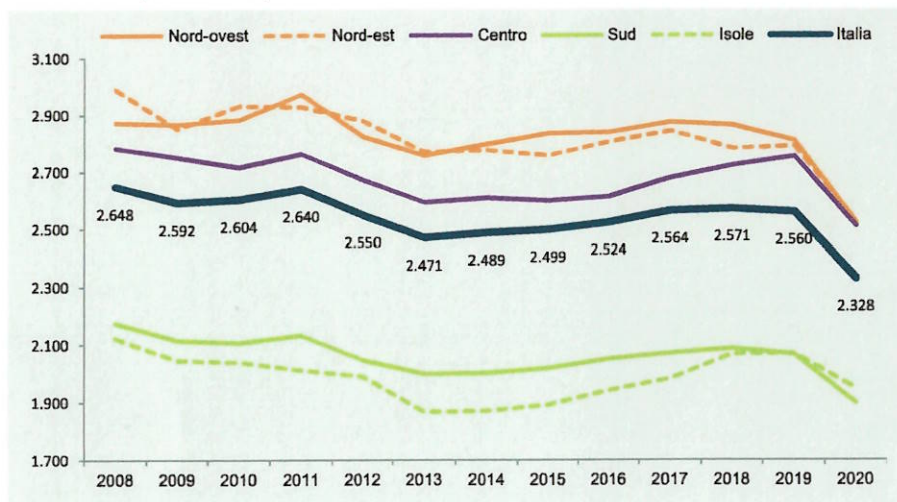
Idoneità Inglese:

Il meteo

ID	domanda 1 - amm/ord	domanda 2 - lavoro	domanda 3 - contabilità	domanda 4 - stat
30	°La conferenza di servizi	12. Modalità attuative del Percorso 3 nel Piano attuativo del Programma nazionale per la garanzia di occupabilità dei lavoratori (GOL) della regione Friuli Venezia Giulia.	3. I residui attivi	15

15. Commentare il grafico

Figura 1.19 Spesa media mensile delle famiglie per ripartizione geografica. Anni 2008-2020 (valori in euro)



Fonte: Istat, Indagine sulle spese delle famiglie

Idoneità Informatica (id 30):

Si consideri il documento del file "word_4" e lo si modifichi:

- Organizzando il testo in punti elenco numerati
- Spostando la figura a fianco del testo

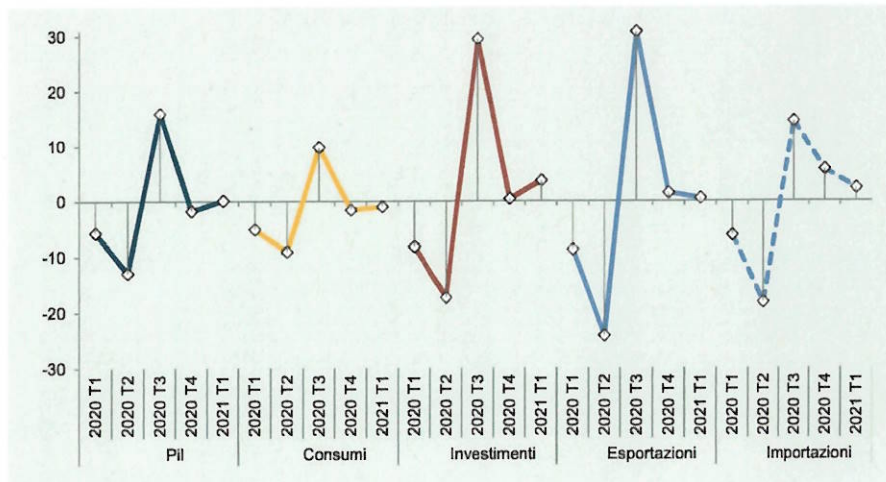
Idoneità Inglese:

Rapporti con le lingue straniere

ID	domanda 1 - amm/ord	domanda 2 - lavoro	domanda 3 - contabilità	domanda 4 - stat
17	9. La struttura del provvedimento amministrativo	1. Quali sono gli obiettivi del Programma nazionale per la garanzia di occupabilità dei lavoratori (GOL)?	15. Il principio della competenza finanziaria nel decreto legislativo 118/2011	9

9. Cosa si intende per diagramma temporale? Cosa indica l'asse orizzontale e quello verticale?
Si commenti la figura sotto riportata.

Figura 1.5 PIl e sue componenti in Italia. 1° trimestre 2020-1° trimestre 2021 (variazioni percentuali sul trimestre precedente)



Fonte: Istat, Conti nazionali

Idoneità Informatica (id 17):

Si consideri la tabella nel foglio "tabella5" nel file "tabA", e si facciano le seguenti aggiunte:

- calcolare le percentuali sui totali di riga
- aggiungere un grafico a torta sulle percentuali delle frequenze di consumo

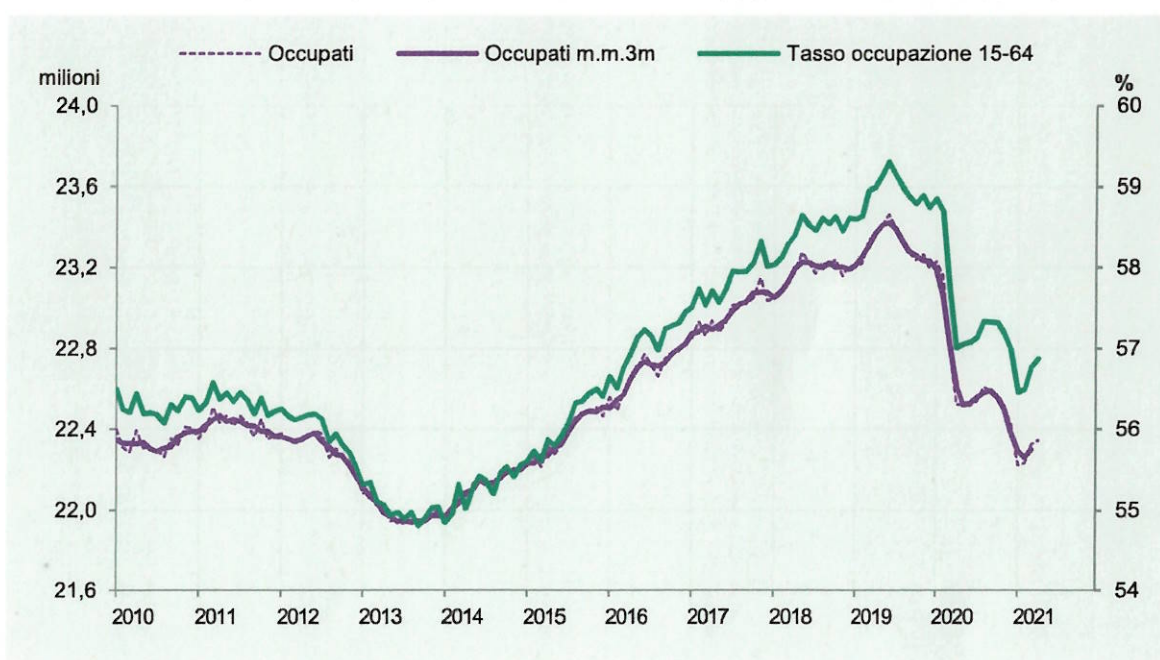
Idoneità Inglese:

Tempo libero

traccia	domanda 1 - amm/ord	domanda 2 - lavoro	domanda 3 - contabilità	domanda 4 - stat
10	*Obbligo di comunicazione di avvio del procedimento e intervento nel procedimento	10. Modalità attuative del Percorso 1 nel Piano attuativo del Programma nazionale per la garanzia di occupabilità dei lavoratori (GOL) della regione Friuli Venezia Giulia.	11. I principi di annualità, unità e universalità nel decreto legislativo 118/2011	12

12. Che tipo di diagramma è il seguente? A cosa corrisponde il tasso di occupazione? Commentare il grafico

Figura 1.9 Andamento dell'occupazione in Italia. Occupati (milioni, scala sinistra) e tasso di occupazione (valori percentuali, scala destra) (a). Anni 2010-2021 (aprile)



Fonte: Istat, Rilevazione sulle forze di lavoro
(a) Dati provvisori.

Idoneità Informatica (id 10):

Si consideri la tabella nel foglio "tabella2" nel file "tabA", e si facciano le seguenti modifiche:

- Evidenziare in grassetto la riga dei nomi delle colonne, mettere i bordi in tutte le celle
- Ordinare i dati in base al sesso e alla classe di età

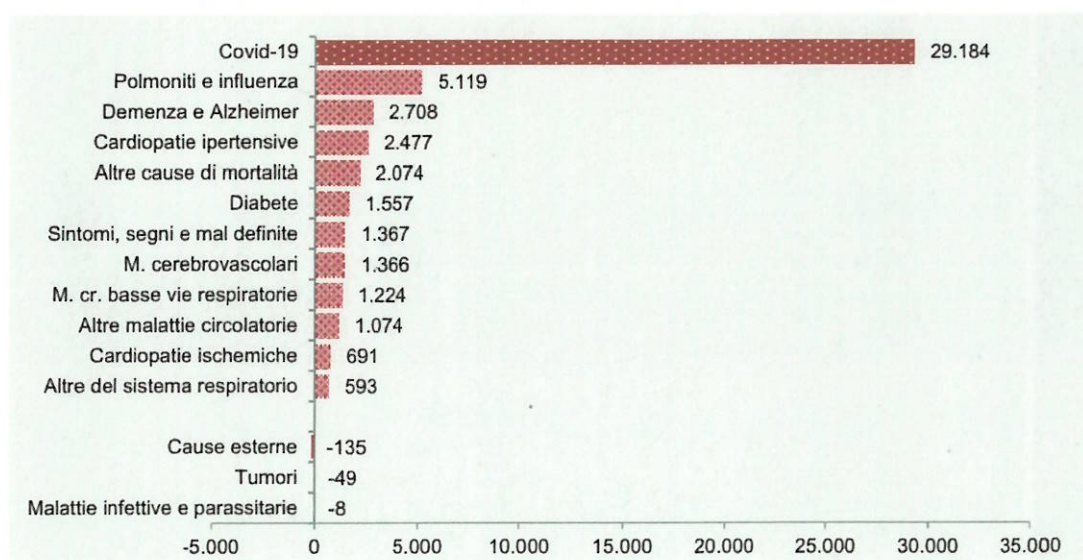
Idoneità Inglese:

Moda/vestiti

<i>traccia</i>	<i>domanda 1 - amm/ord</i>	<i>domanda 2 - lavoro</i>	<i>domanda 3 - contabilità</i>	<i>domanda 4 - stat</i>
18	I vizi di legittimità del provvedimento amministrativo e, in particolare, l'incompetenza	11. Modalità attuative del Percorso 2 nel Piano attuativo del Programma nazionale per la garanzia di occupabilità dei lavoratori (GOL) della regione Friuli Venezia Giulia.	Le fasi del procedimento di spesa e, in particolare, l'impegno	1

1. Si consideri un qualsiasi insieme di dati che contiene delle informazioni. Cosa si intende per **unità statistiche** e per **variabili**? Consideriamo l'esempio riportato in tabella, quali sono le unità statistiche rilevate e la variabile/caratteristica misurata?

Figura 2.11 Eccesso di mortalità: contributo delle cause all'incremento di marzo-aprile 2020 rispetto alla media 2015-2019 (valori assoluti)



Fonte: Istat, Rilevazione su decessi e cause di morte

Idoneità Informatica (id 15):

Si consideri il testo del documento del file "word_2" modificandolo nel seguente modo:

- Ordinando il testo del titolo centralmente e del testo giustificato
- riducendo il carattere del titolo
- cambiando il tipo di carattere

Idoneità Inglese:

Natura/clima

<i>traccia</i>	<i>domanda 1 - amm/ord</i>	<i>domanda 2 - lavoro</i>	<i>domanda 3 - contabilità</i>	<i>domanda 4 - stat</i>
23	11. La discrezionalità amministrativa	8. La cooperazione tra i servizi pubblici per l'impiego e quelli privati nel Piano attuativo del Programma nazionale per la garanzia di occupabilità dei lavoratori (GOL) della regione Friuli Venezia Giulia.	Le fasi del procedimento di spesa e, in particolare, la liquidazione	11

11. Si parli della media, della mediana e della moda

Idoneità Informatica (id 23):

Si consideri il testo del documento del file "word_3":

- Si inserisca il testo in colore nero in tutte le sue parti e il titolo in colore rosso
- Si cambino i punti elenco con numeri

Idoneità Inglese:

Attualità

<i>traccia</i>	<i>domanda 1 - amm/ord</i>	<i>domanda 2 - lavoro</i>	<i>domanda 3 - contabilità</i>	<i>domanda 4 - stat</i>
36	*Obbligo di comunicazione di avvio del procedimento e intervento nel procedimento	...I livelli essenziali delle prestazioni in materia di servizi per il lavoro	***Le fasi del procedimento di entrata e, in particolare, l'accertamento	10

10. Nella descrizione statistica della distribuzione di una variabile/caratteristica si valuta innanzitutto il centro della distribuzione; quali misure del centro si possono utilizzare?

Idoneità Informatica (id 36):

Si consideri la tabella nel foglio "tabella 6":

- si uniscano le celle iniziali riferite a corsi dello stesso dipartimento
- si distinguano le parti di tabella riferite allo stesso dipartimento

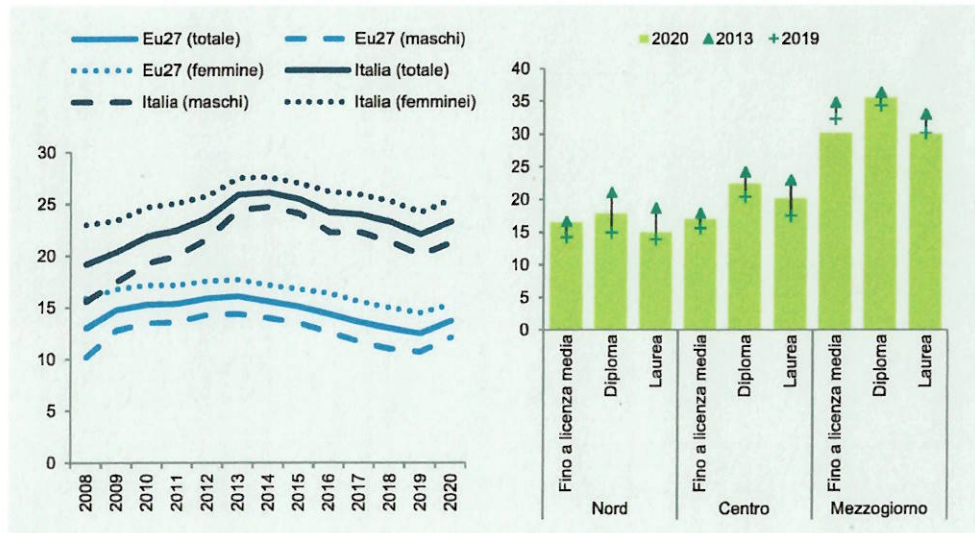
Idoneità Inglese:

Arte

traccia	domanda 1 - amm/ord	domanda 2 - lavoro	domanda 3 - contabilità	domanda 4 - stat
25	I vizi di legittimità del provvedimento amministrativo e, in particolare, la violazione di legge	7. La funzione dei Piani attuativi regionali nell'ambito del Programma nazionale per la garanzia di occupabilità dei lavoratori (GOL).	13. Il principio della flessibilità nel decreto legislativo 118/2011	9*

9*. Cosa si intende per diagramma temporale? Cosa indica l'asse orizzontale e quello verticale nella figura a sinistra? Che tipo di grafico invece è quello a destra?

Figura 3.11 Giovani di 15-29 anni che risultano non occupati né inseriti in un percorso di istruzione o formazione (NEET) in Italia e nell'Ue27, per sesso (sinistra) e per ripartizione geografica e titolo di studio (destra). Anni 2008-2020 (valori percentuali)



Fonte: Eurostat, Labour Force Survey; Istat, Rilevazione sulle forze di lavoro, vecchia serie

Idoneità Informatica (id 25):

Si consideri il testo del documento del file "word_4" e si modifichi il testo:

- Si giustifichi il testo e si evidenzino i numeri riportati nel testo

Idoneità Inglese:

Rapporti con le lingue straniere

<i>traccia</i>	<i>domanda 1 - amm/ord</i>	<i>domanda 2 - lavoro</i>	<i>domanda 3 - contabilità</i>	<i>domanda 4 - stat</i>
40	I vizi di legittimità del provvedimento amministrativo e, in particolare, l'eccesso di potere	13. Modalità attuative del Percorso 4 nel Piano attuativo del Programma nazionale per la garanzia di occupabilità dei lavoratori (GOL) della regione Friuli Venezia Giulia.	I residui passivi	13*

13*. Cosa si intende per distribuzione di frequenze? Applicare il concetto di distribuzione di frequenze al carattere titolo di studio nella tabella seguente.

N.id.	Sesso	Titolo di studio	Anno	Statura	Peso	Reddito
1	M	Licenza elementare	1971	182	79,8	14.300
2	M	Licenza elementare	1957	159	69,9	19.800
3	F	Diploma	1938	170	52,0	27.100
4	F	Licenza media	1939	171	56,4	23.200
5	F	Licenza media	1968	165	59,3	23.000
6	F	Licenza media	1973	167	59,6	22.400
7	F	Diploma	1940	173	63,9	23.600
8	F	Licenza media	1944	161	53,1	15.500
9	M	Licenza media	1965	172	80,4	17.600
10	F	Licenza elementare	1952	169	53,1	15.600
11	M	Licenza elementare	1979	180	81,7	18.600
12	M	Laurea	1972	187	68,4	49.700
13	F	Diploma	1985	161	56,5	21.000
14	M	Licenza media	1969	178	77,5	22.600
15	F	Diploma	1946	168	56,4	21.900
16	F	Laurea	1986	156	46,1	25.500
17	M	Diploma	1983	173	69,2	32.400
18	M	Diploma	1953	176	79,8	20.100
19	F	Licenza media	1963	175	59,6	19.800
20	M	Laurea	1982	170	65,0	34.200

Idoneità Informatica (id 40):

Si consideri la tabella nel foglio "tabella 6":

- si calcolino le somme totali, i valori medi e massimi delle tre colonne riportate

Idoneità Inglese:

Giochi/videogiochi

<i>traccia</i>	<i>domanda 1 - amm/ord</i>	<i>domanda 2 - lavoro</i>	<i>domanda 3 - contabilità</i>	<i>domanda 4 - stat</i>
22	L'autotutela	1. Quali sono gli obiettivi del Programma nazionale per la garanzia di occupabilità dei lavoratori (GOL)?	6. L'autonomia finanziaria della Regione Friuli Venezia Giulia	10

10. Nella descrizione statistica della distribuzione di una variabile/caratteristica si valuta innanzitutto il centro della distribuzione; quali misure del centro si possono utilizzare?

Idoneità Informatica (id 22):

Si consideri il testo del documento del file "word_3":

- Si inserisca il testo in colore nero in tutte le sue parti e il titolo in colore rosso
- Si cambino i punti elenco con numeri

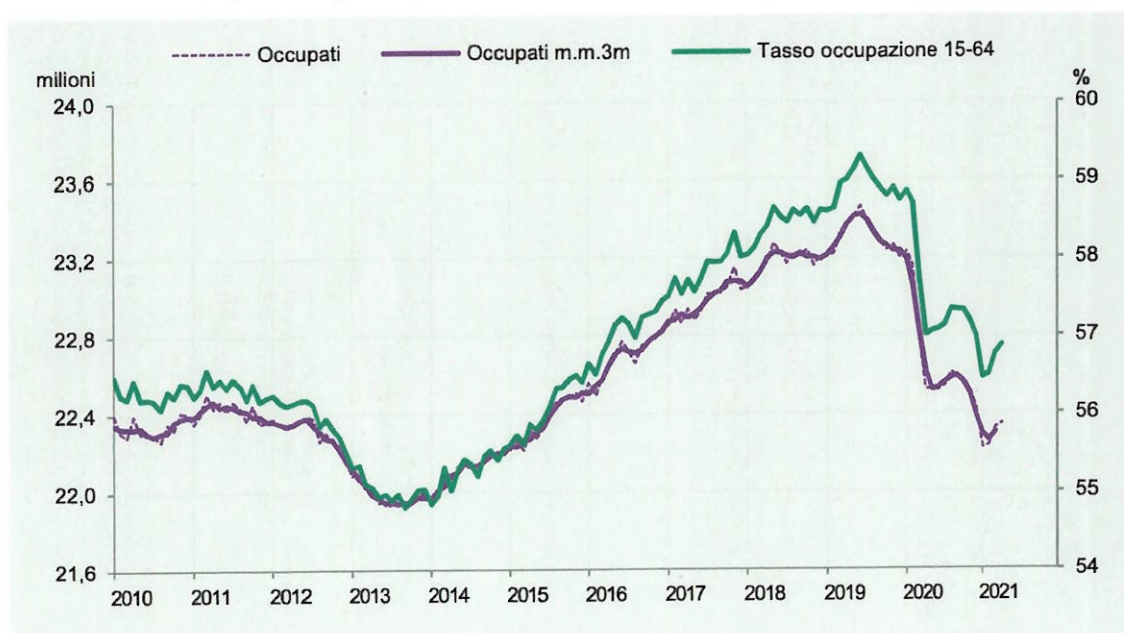
Idoneità Inglese:

Casa

<i>traccia</i>	<i>domanda 1 - amm/ord</i>	<i>domanda 2 - lavoro</i>	<i>domanda 3 - contabilità</i>	<i>domanda 4 - stat</i>
32	6. Amministrazione attiva, consultiva, di controllo	... Il principio di condizionalità nel rapporto fra politiche attive e passive del lavoro	1. Le fasi del procedimento di spesa e, in particolare, l'impegno	12

12. Che tipo di diagramma è il seguente? A cosa corrisponde il tasso di occupazione? Commentare il grafico

Figura 1.9 Andamento dell'occupazione in Italia. Occupati (milioni, scala sinistra) e tasso di occupazione (valori percentuali, scala destra) (a). Anni 2010-2021 (aprile)



Fonte: Istat, Rilevazione sulle forze di lavoro
(a) Dati provvisori.

Idoneità Informatica (id 32):

Si consideri la tabella nel foglio "tabella 1":

- Ordinare i dati in base al genere
- Distinguere le due parti della tabella dedicate ai due generi

Idoneità Inglese:

descrivi te stesso

<i>traccia</i>	<i>domanda 1 - amm/ord</i>	<i>domanda 2 - lavoro</i>	<i>domanda 3 - contabilità</i>	<i>domanda 4 - stat</i>
59	°° Efficacia ed esecutività del provvedimento amministrativo	... I livelli essenziali delle prestazioni in materia di servizi per il lavoro	7. I debiti fuori bilancio	10

10. Nella descrizione statistica della distribuzione di una variabile/caratteristica si valuta innanzitutto il centro della distribuzione; quali misure del centro si possono utilizzare?

Idoneità Informatica:

Si consideri la tabella nel foglio "tabella 6":

- si crei una tabella con i totali di laureati per dipartimento

Idoneità Inglese:

Il meteo

<i>traccia</i>	<i>domanda 1 - amm/ord</i>	<i>domanda 2 - lavoro</i>	<i>domanda 3 - contabilità</i>	<i>domanda 4 - stat</i>
53	La struttura del provvedimento amministrativo	12. Modalità attuative del Percorso 3 nel Piano attuativo del Programma nazionale per la garanzia di occupabilità dei lavoratori (GOL) della regione Friuli Venezia Giulia.	5. Principi costituzionali in materia di bilancio	11

11. Si parli della media, della mediana e della moda

Idoneità Informatica:

Si consideri la tabella nel foglio "tabella 1":

- COSTRUIRE UNA TABELLA PIVOT DI SINTESI

Idoneità Inglese:

Famiglia

<i>traccia</i>	<i>domanda 1 - amm/ord</i>	<i>domanda 2 - lavoro</i>	<i>domanda 3 - contabilità</i>	<i>domanda 4 - stat</i>
14	13. Il procedimento amministrativo	11. Modalità attuative del Percorso 2 nel Piano attuativo del Programma nazionale per la garanzia di occupabilità dei lavoratori (GOL) della regione Friuli Venezia Giulia.	11. I principi di annualità, unità e universalità nel decreto legislativo 118/2011	13*

13*. Cosa si intende per distribuzione di frequenze? Applicare il concetto di distribuzione di frequenze al carattere titolo di studio nella tabella seguente.

N.id.	Sesso	Titolo di studio	Anno	Statura	Peso	Reddito
1	M	Licenza elementare	1971	182	79,8	14.300
2	M	Licenza elementare	1957	159	69,9	19.800
3	F	Diploma	1938	170	52,0	27.100
4	F	Licenza media	1939	171	56,4	23.200
5	F	Licenza media	1968	165	59,3	23.000
6	F	Licenza media	1973	167	59,6	22.400
7	F	Diploma	1940	173	63,9	23.600
8	F	Licenza media	1944	161	53,1	15.500
9	M	Licenza media	1965	172	80,4	17.600
10	F	Licenza elementare	1952	169	53,1	15.600
11	M	Licenza elementare	1979	180	81,7	18.600
12	M	Laurea	1972	187	68,4	49.700
13	F	Diploma	1985	161	56,5	21.000
14	M	Licenza media	1969	178	77,5	22.600
15	F	Diploma	1946	168	56,4	21.900
16	F	Laurea	1986	156	46,1	25.500
17	M	Diploma	1983	173	69,2	32.400
18	M	Diploma	1953	176	79,8	20.100
19	F	Licenza media	1963	175	59,6	19.800
20	M	Laurea	1982	170	65,0	34.200

Idoneità Informatica (id 14):

Si consideri la tabella nel foglio "tabella4" nel file "tabA", e si facciano le seguenti aggiunte:

- si calcolino i totali di riga
- si calcolino le percentuali di riga

Idoneità Inglese:

Animali

<i>traccia</i>	<i>domanda 1 - amm/ord</i>	<i>domanda 2 - lavoro</i>	<i>domanda 3 - contabilità</i>	<i>domanda 4 - stat</i>
41	3. Regolamenti e riserva di legge	4. Nell'ambito del quadro attuale definitorio dei livelli essenziali delle prestazioni in materia di politiche attive del lavoro, quali prestazioni costituiscono i diritti e/o gli standard di servizio che dovranno essere garantiti a tutti i beneficiari del Programma nazionale per la garanzia di occupabilità dei lavoratori (GOL)?	12. Il principio della veridicità, attendibilità, correttezza e comprensibilità nel decreto legislativo 118/2011	3

3. Si supponga di fare un'indagine medica in cui vengono raccolte le seguenti caratteristiche sugli individui del campione. Quali sono variabili categoriche e quali sono quantitative?

- Sesso (maschio o femmina)
- Età (anni)
- Etnia (asiatico, nero, bianco, altro)
- Fumatore/trice (si, no)
- Pressione sanguigna (millimetri di mercurio)
- Presenza di calcio nel sangue (microgrammi per millimetro)

Idoneità Informatica (id 41):

Si consideri la tabella nel foglio "tabella 6":

- inserire una colonna con una funzione che concatena la colonna identificativa del dipartimento e quella relativa al corso
- si crei una nuova tabella utile per fare un grafico che descrive la distribuzione dei laureati per corso

Idoneità Inglese:

Cibo e cucina

<i>traccia</i>	<i>domanda 1 - amm/ord</i>	<i>domanda 2 - lavoro</i>	<i>domanda 3 - contabilità</i>	<i>domanda 4 - stat</i>
34	La motivazione del provvedimento amministrativo	7. La funzione dei Piani attuativi regionali nell'ambito del Programma nazionale per la garanzia di occupabilità dei lavoratori (GOL).	Il principio della competenza finanziaria nel decreto legislativo 118/2011	11

11. Si parli della media, della mediana e della moda

Idoneità Informatica (id 34):

Si consideri la tabella nel foglio "tabella 1":

- Aggiungere colonna per una nuova variabile 0,1 che prende 1 se l'età è superiore a 65

Idoneità Inglese:

Presenta te stesso

<i>traccia</i>	<i>domanda 1 - amm/ord</i>	<i>domanda 2 - lavoro</i>	<i>domanda 3 - contabilità</i>	<i>domanda 4 - stat</i>
55	1. L'interesse legittimo	... L'offerta di lavoro congrua;	I bilanci pubblici: bilancio finanziario di previsione e rendiconto	8*

8*. Osservate la tabella successiva:

- a. Che tipo di trend coi si attende per gli scostamenti?
- b. Su quale indicatore di occupazione ci si attende l'impatto maggiore?

Prospetto 1 L'impatto sull'occupazione del PNRR (scostamenti percentuali rispetto allo scenario base di assenza del Piano)

	2021	2022	2023	2024-2026
Occupazione totale	0,7	2,2	3,2	3,2
Occupazione femminile	0,9	2,6	3,4	3,7
Occupazione femminile nel Mezzogiorno	1,3	3,8	5,0	5,5
Occupazione giovanile	0,7	2,2	3,0	3,3
Occupazione giovanile nel Mezzogiorno	1,0	3,3	4,5	4,9

Fonte: PNRR

Idoneità Informatica:

Nel testo del documento "word_5" si scelga un titolo, cambiare formato testo del titolo, togliere parti evidenziati e riordinare in generale.

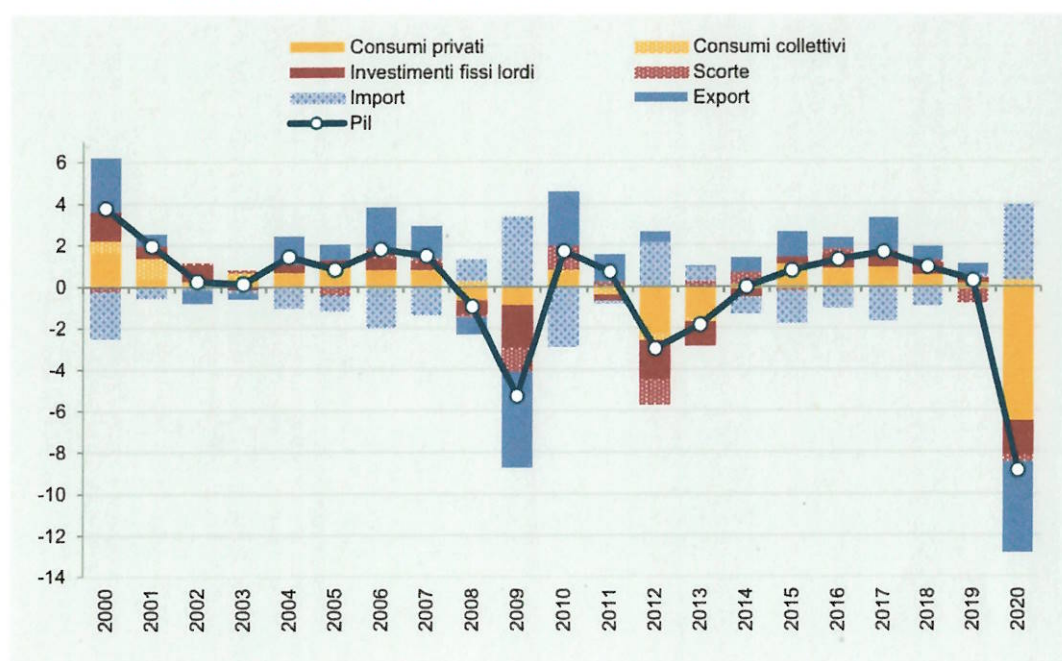
Idoneità Inglese:

Hobby

traccia	domanda 1 - amm/ord	domanda 2 - lavoro	domanda 3 - contabilità	domanda 4 - stat
145	La partecipazione al procedimento amministrativo	6. Le politiche attive del lavoro e la formazione professionale nell'ambito del Programma nazionale per la garanzia di occupabilità dei lavoratori (GOL).	Le fasi del procedimento di entrata e, in particolare, il versamento	17

17. Commentare il grafico

Figura 1.4 Andamento del Pil italiano e contributi delle componenti di domanda. Anni 2000-2020 (variazioni e punti percentuali)



Fonte: Istat, Conti nazionali

Idoneità Informatica:

Con riferimento al testo nel file "word_4", dividere il testo in punti e trasferire i punti in una presentazione powerpoint dedicando una pagina anche alla figura.

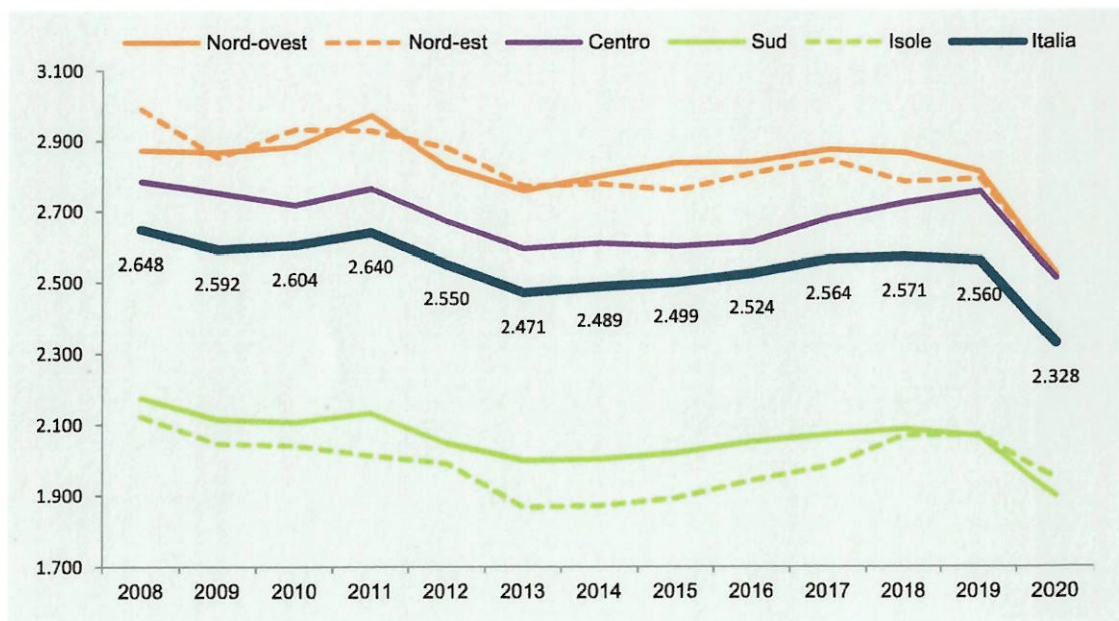
Idoneità Inglese:

Vacanze

<i>traccia</i>	<i>domanda 1 - amm/ord</i>	<i>domanda 2 - lavoro</i>	<i>domanda 3 - contabilità</i>	<i>domanda 4 - stat</i>
147	Atti e provvedimenti amministrativi	1. Quali sono gli obiettivi del Programma nazionale per la garanzia di occupabilità dei lavoratori (GOL)?	1. Le fasi del procedimento di spesa e, in particolare, l'impegno	15

15. Commentare il grafico

Figura 1.19 Spesa media mensile delle famiglie per ripartizione geografica. Anni 2008-2020 (valori in euro)



Fonte: Istat, Indagine sulle spese delle famiglie

Idoneità Informatica:

Si consideri la tabella nel foglio "tabella 6":

- si calcolino le somme totali, i valori medi e massimi delle tre colonne riportate

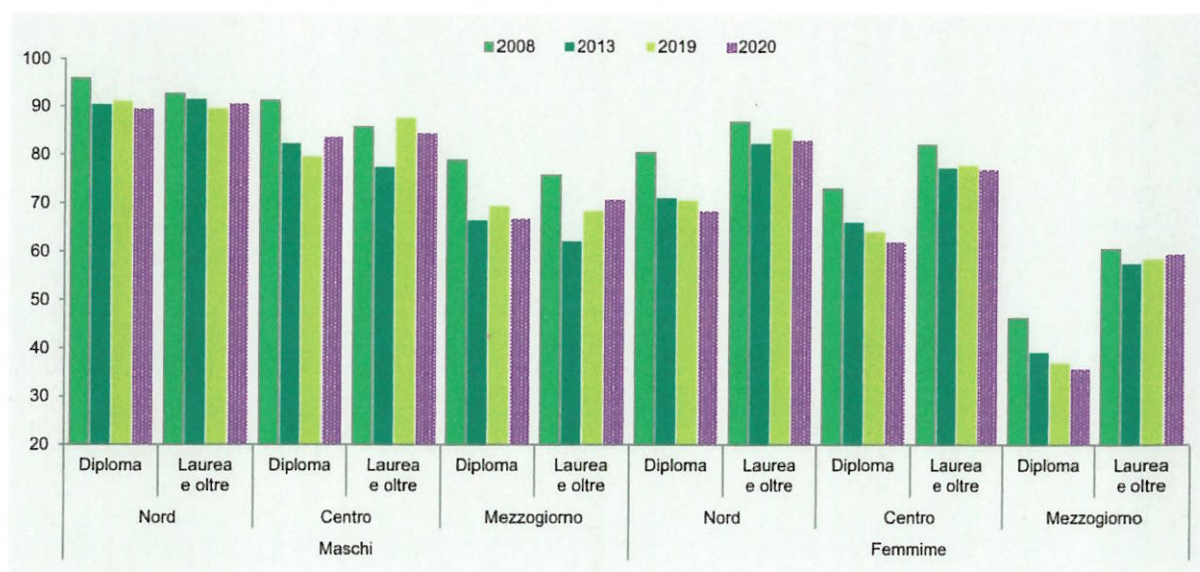
Idoneità Inglese:

Cinema

traccia	domanda 1 - amm/ord	domanda 2 - lavoro	domanda 3 - contabilità	domanda 4 - stat
84	12. Discrezionalità amministrativa e discrezionalità tecnica	9. Le azioni per la compatibilità del Programma nazionale per la garanzia di occupabilità dei lavoratori (GOL) e le misure regionali o nazionali a valere sul FSE + nel Piano attuativo della regione Friuli Venezia Giulia.	Il bilancio pubblico: stanziamento della spesa e previsione dell'entrata	7

7. Commentiamo insieme il seguente grafico

Figura 3.19 Tasso di occupazione dei giovani di 30-34 anni per sesso, titolo di studio e ripartizione geografica. Anni 2008, 2013, 2019 e 2020 (valori percentuali)



Fonte: Rilevazione sulle forze di lavoro, vecchia serie

Idoneità Informatica:

Si consideri la tabella nel foglio "tabella1" nel file "tabA", e si facciano le seguenti modifiche:

- Si allinei centralmente il testo nelle celle;
- Si calcoli l'età media degli individui in tabella
- Si calcoli il numero di maschi indicati con SEX=1

Idoneità Inglese:

Progetti per il futuro

<i>traccia</i>	<i>domanda 1 - amm/ord</i>	<i>domanda 2 - lavoro</i>	<i>domanda 3 - contabilità</i>	<i>domanda 4 - stat</i>
91	15. Avvio e conclusione del procedimento amministrativo	14. Modalità attuative del Percorso 5 nel Piano attuativo del Programma nazionale per la garanzia di occupabilità dei lavoratori (GOL) della regione Friuli Venezia Giulia.	Le fasi del procedimento di spesa e, in particolare, l'ordinazione e il pagamento	3*

3*. Si supponga di fare un'indagine su un campione di aziende produttive in cui vengono raccolte le seguenti caratteristiche. Quali sono variabili qualitative (nominali, ordinali) e quali sono quantitative?

- Numero dipendenti
- Età media dipendenti
- Età del manager
- Fatturato annuo
- Settore produttivo ATECO
- Quota export sulle vendite

Idoneità Informatica:

Si consideri la tabella nel foglio "tabella3" nel file "tabA", e si facciano le seguenti aggiunte:

- si calcolino le somme di riga e di colonna
- si calcolino le percentuali dei maschi e delle femmine

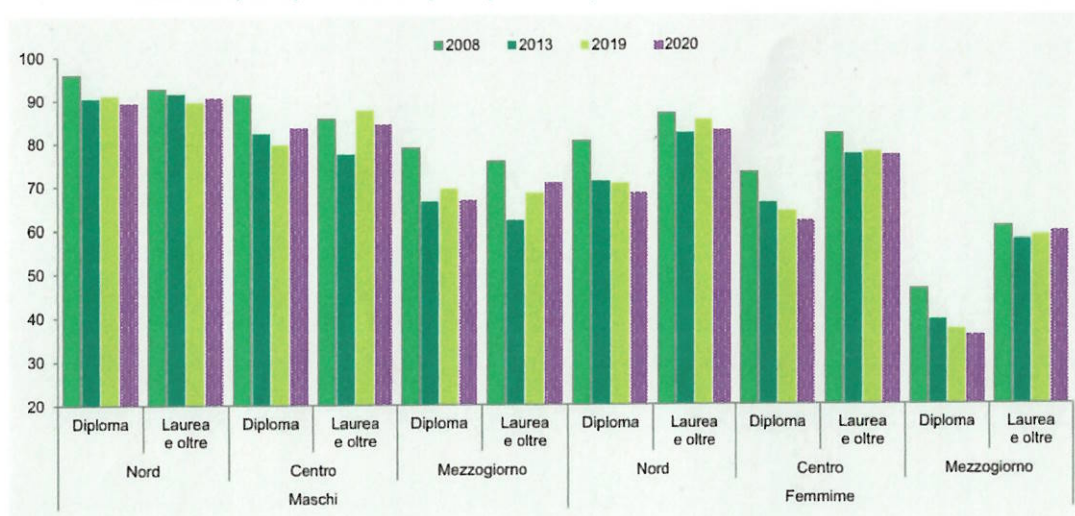
Idoneità Inglese:

Scuola e formazione

traccia	domanda 1 - amm/ord	domanda 2 - lavoro	domanda 3 - contabilità	domanda 4 - stat
109	+ I vizi di legittimità del provvedimento amministrativo e, in particolare, l'incompetenza	3. Quali sono i percorsi individuati dal Programma nazionale per la garanzia di occupabilità dei lavoratori (GOL)?	***Le fasi del procedimento di entrata e, in particolare, l'accertamento	7*

7*. Cosa ci dice il grafico successivo in termini di trend temporale, di gender gap, di eterogeneità geografica?

Figura 3.19 Tasso di occupazione dei giovani di 30-34 anni per sesso, titolo di studio e ripartizione geografica. Anni 2008, 2013, 2019 e 2020 (valori percentuali)



Fonte: Rilevazione sulle forze di lavoro, vecchia serie

Idoneità Informatica:

Nel testo del documento "word_5" si scelga un titolo e tagliare gli altri, contare i caratteri e sistemare il testo.

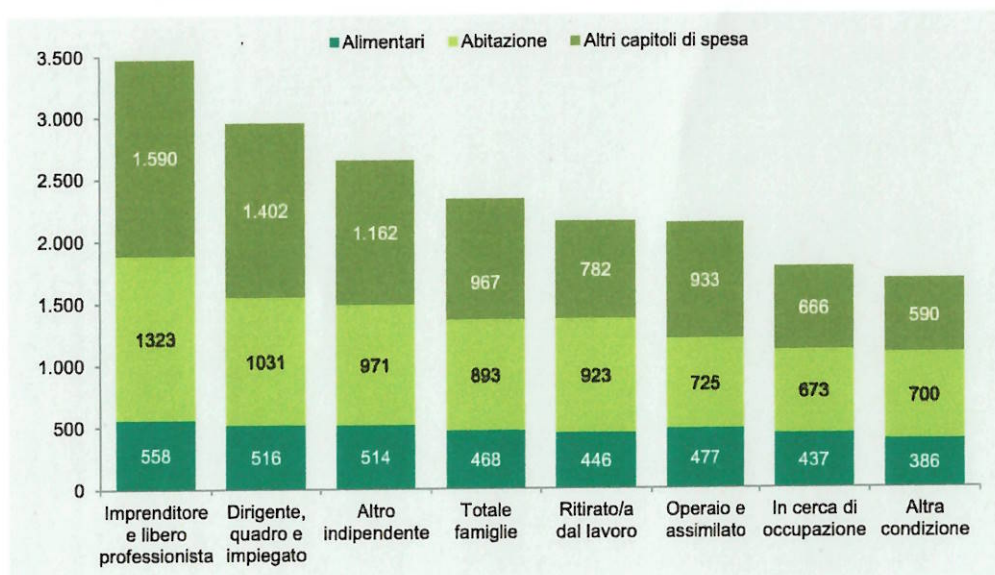
Idoneità Inglese:

Viaggi

<i>traccia</i>	<i>domanda 1 - amm/ord</i>	<i>domanda 2 - lavoro</i>	<i>domanda 3 - contabilità</i>	<i>domanda 4 - stat</i>
68	I provvedimenti di autorizzazione e concessione	1. Quali sono i beneficiari del Programma nazionale per la garanzia di occupabilità dei lavoratori (GOL)?	13. Il principio della flessibilità nel decreto legislativo 118/2011	14

14. Il grafico successivo cosa rappresenta? Come potremmo rappresentare gli stessi dati in modo alternativo

Figura 1.21 Spesa media mensile totale, per alimentari, per abitazione e per altri capitoli di spesa per condizione professionale della persona di riferimento. Anno 2020 (valori in euro)



Fonte: Istat, Indagine sulle spese delle famiglie

Idoneità Informatica:

Con riferimento al testo nel file "word_4", inserire una nuova tabella di sintesi con i valori totali delle retribuzioni pro-capite nei trimestri

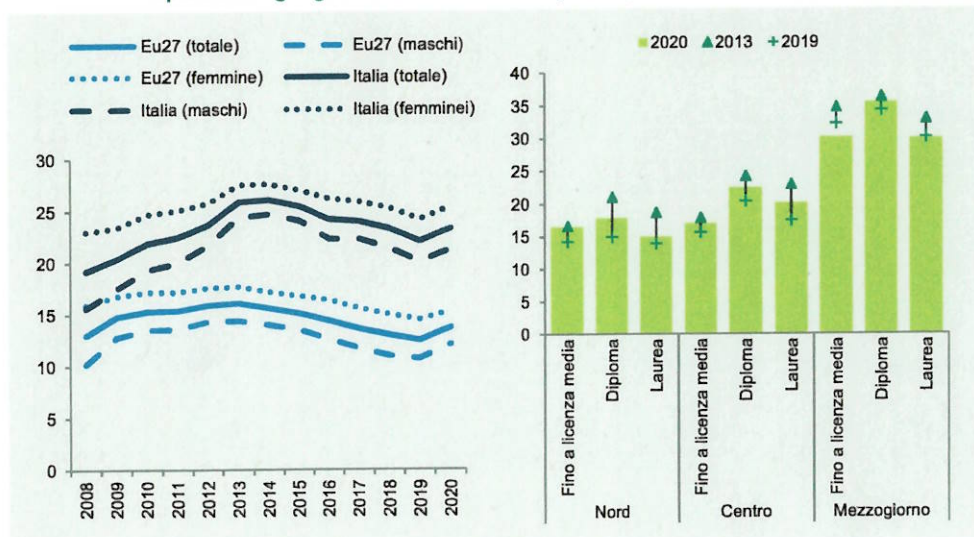
Idoneità Inglese:

Libri

traccia	domanda 1 - amm/ord	domanda 2 - lavoro	domanda 3 - contabilità	domanda 4 - stat
35	**La partecipazione al procedimento amministrativo	15. Modalità di attuazione dell'assessment nel Piano attuativo del Programma nazionale per la garanzia di occupabilità dei lavoratori (GOL) della regione Friuli Venezia Giulia.	Il principio della flessibilità nel decreto legislativo 118/2011	9*

9*. Cosa si intende per diagramma temporale? Cosa indica l'asse orizzontale e quello verticale nella figura a sinistra? Che tipo di grafico invece è quello a destra?

Figura 3.11 Giovani di 15-29 anni che risultano non occupati né inseriti in un percorso di istruzione o formazione (NEET) in Italia e nell'Ue27, per sesso (sinistra) e per ripartizione geografica e titolo di studio (destra). Anni 2008-2020 (valori percentuali)



Fonte: Eurostat, Labour Force Survey; Istat, Rilevazione sulle forze di lavoro, vecchia serie

Idoneità Informatica:

Si consideri la tabella nel foglio "tabella3" nel file "tabA", e si facciano le seguenti aggiunte:

- si calcolino le somme di riga e di colonna
- si calcolino le percentuali dei maschi e delle femmine

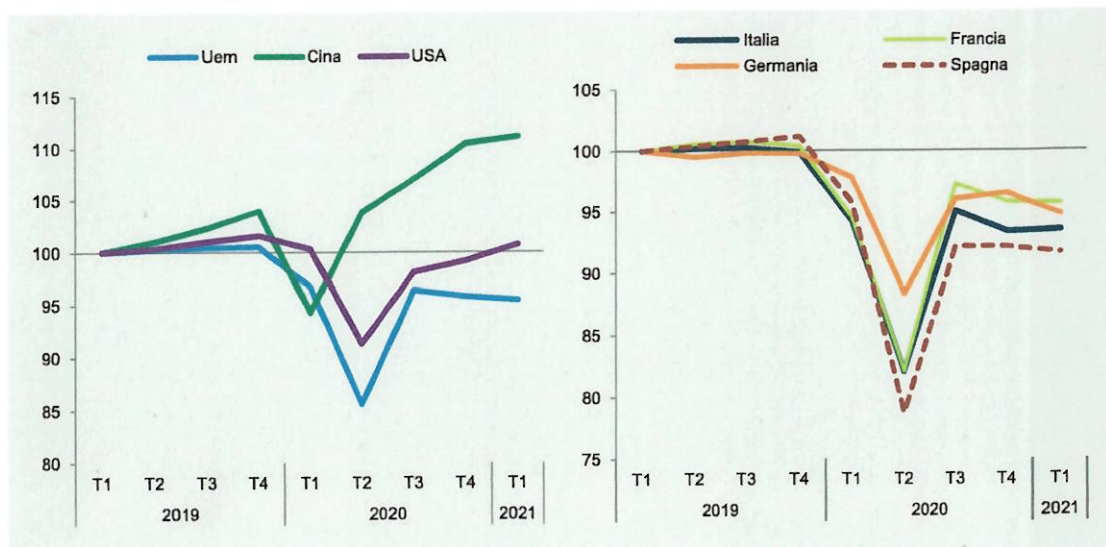
Idoneità Inglese:

Attualità

<i>traccia</i>	<i>domanda 1 - amm/ord</i>	<i>domanda 2 - lavoro</i>	<i>domanda 3 - contabilità</i>	<i>domanda 4 - stat</i>
163	15. Avvio e conclusione del procedimento amministrativo	L'offerta di lavoro congrua	I residui attivi	8

8. Cosa si intende per diagramma temporale? Cosa indica l'asse orizzontale e quello verticale? Cosa possiamo dire in merito agli impatti della pandemia sulle diverse aree geografiche

Figura 1.2 Prodotto interno lordo. 1° trimestre 2019-1° trimestre 2021 (valori destagionalizzati trimestrali 2019 T1 = 100)



Fonte: OCSE ed Eurostat

Idoneità Informatica (id 8):

Si consideri la tabella nel foglio "tabella1" nel file "tabA", e si facciano le seguenti modifiche:

- Si allinei centralmente il testo nelle celle;
- Si calcoli l'età media degli individui in tabella
- Si calcoli il numero di maschi indicati con SEX=1

Idoneità Inglese:

Amici

<i>traccia</i>	<i>domanda 1 - amm/ord</i>	<i>domanda 2 - lavoro</i>	<i>domanda 3 - contabilità</i>	<i>domanda 4 - stat</i>
165	10. La competenza	3. Quali sono i percorsi individuati dal Programma nazionale per la garanzia di occupabilità dei lavoratori (GOL)?	1. Le fasi del procedimento di spesa e, in particolare, l'impegno	19

19. Commentare la tabella

Tavola 1.2 Quote occupati dipendenti donne, temporanei, giovani per settore di attività economica. Anni 2019-2020 (a)

SETTORI DI ATTIVITÀ ECONOMICA	Dipendenti donne			Dipendenti contratto a tempo determinato			Dipendenti 15-34 anni		
	Quota 2019	Quota 2020	Differenza	Quota 2019	Quota 2020	Differenza	Quota 2019	Quota 2020	Differenza
	Agricoltura, silvicoltura e pesca	25,4	25,1	-0,3	64,5	63,9	-0,6	26,1	26,7
Industria in senso stretto	25,8	25,8	-0,0	12,7	10,3	-2,4	24,5	23,5	-1,1
Costruzioni	8,2	9,7	1,5	18,9	17,1	-1,8	23,9	23,5	-0,4
Commercio, alberghi e ristoranti	49,9	49,4	-0,5	24,6	20,4	-4,2	39,3	37,9	-1,4
Altre attività dei servizi	57,0	57,0	0,0	13,7	12,7	-1,0	18,4	18,0	-0,5
Totale servizi	55,2	55,1	-0,0	16,5	14,6	-1,9	23,7	22,9	-0,9
Totale	45,4	45,2	-0,2	17,0	15,1	-1,9	24,0	23,1	-0,8

Fonte: Istat, Rilevazione sulle forze di lavoro
(a) Dati provvisori.

Idoneità Informatica (id 7):

Si apra una nuova cartella di lavoro Excel e si attribuisca il nome "mia tabella" al primo foglio di lavoro, si inserisca la seguente tabella:

Nome	Punteggio
Mario	22
Sonia	30
Anna	18
Luigi	24

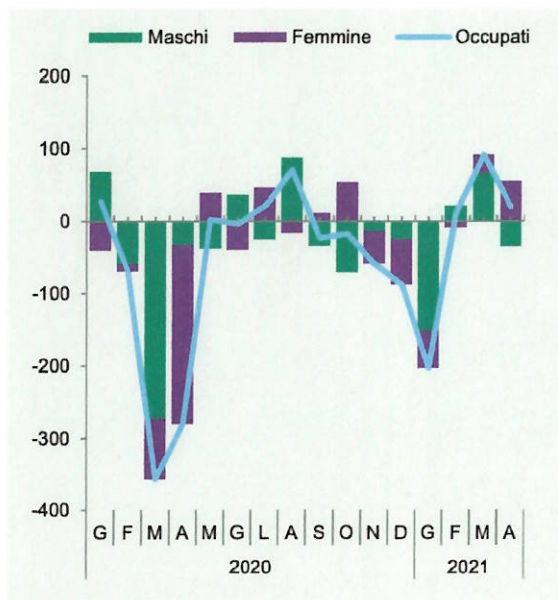
Idoneità Inglese:

Moda/vestiti

traccia	domanda 1 - amm/ord	domanda 2 - lavoro	domanda 3 - contabilità	domanda 4 - stat
31	1. L'interesse legittimo	8. La cooperazione tra i servizi pubblici per l'impiego e quelli privati nel Piano attuativo del Programma nazionale per la garanzia di occupabilità dei lavoratori (GOL) della regione Friuli-Venezia Giulia.	5. Principi costituzionali in materia di bilancio	16

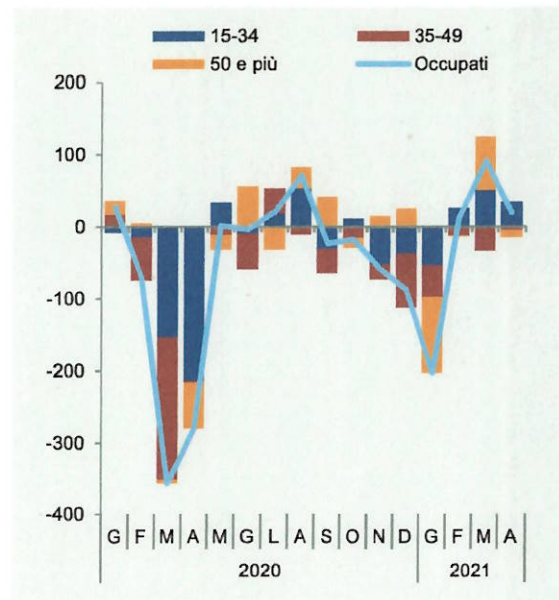
16. Cosa sono le variazioni congiunturali? Commentare il grafico nelle sue parti.

Figura 1.11a Occupati per genere. Gennaio 2020-Aprile 2021 (variazioni congiunturali assolute, dati destagionalizzati) (a)



Fonte: Istat, Rilevazione sulle forze di lavoro
(a) Dati provvisori.

Figura 1.11b Occupati per classe di età. Gennaio 2020-Aprile 2021 (variazioni congiunturali assolute, dati destagionalizzati) (a)



Fonte: Istat, Rilevazione sulle forze di lavoro
(a) Dati provvisori.

Idoneità Informatica (id 31):

Si consideri il documento del file "word_4" e lo importi in un file di presentazione powerpoint.

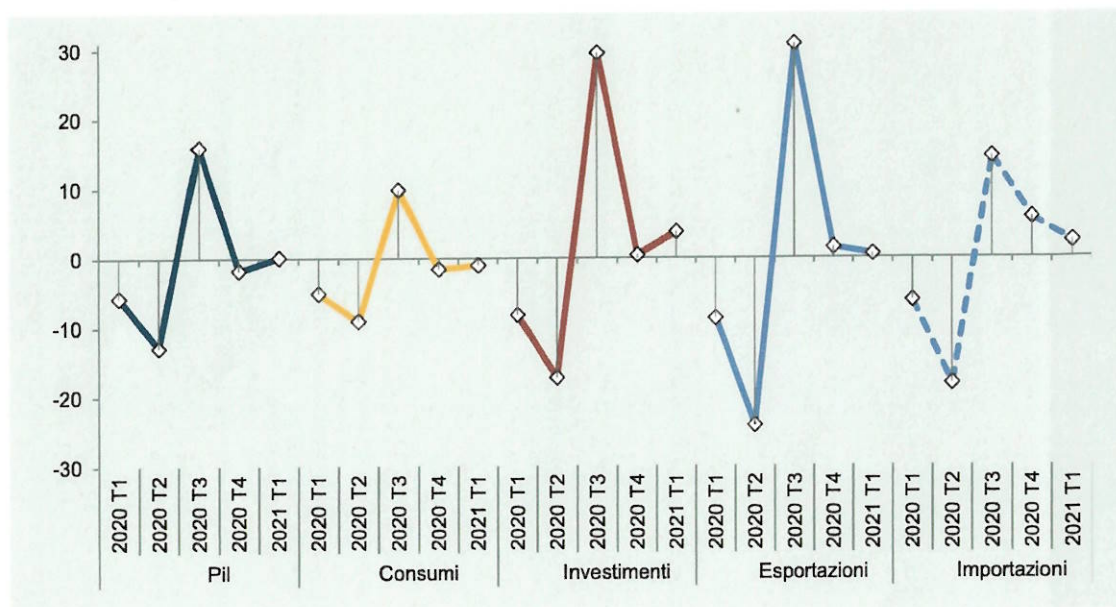
Idoneità Inglese:

Sport

<i>traccia</i>	<i>domanda 1 - amm/ord</i>	<i>domanda 2 - lavoro</i>	<i>domanda 3 - contabilità</i>	<i>domanda 4 - stat</i>
6	13. Il procedimento amministrativo	11. Modalità attuative del Percorso 2 nel Piano attuativo del Programma nazionale per la garanzia di occupabilità dei lavoratori (GOL) della regione Friuli-Venezia Giulia.	7. I debiti fuori bilancio	9

9. Cosa si intende per diagramma temporale? Cosa indica l'asse orizzontale e quello verticale?
 Si commenti la figura sotto riportata.

Figura 1.5 Pil e sue componenti in Italia. 1° trimestre 2020-1° trimestre 2021 (variazioni percentuali sul trimestre precedente)



Fonte: Istat, Conti nazionali

Idoneità Informatica (id 6):

A cosa serve il programma Microsoft Excel?
 Che cos'è una "cartella di lavoro" in Microsoft excel?

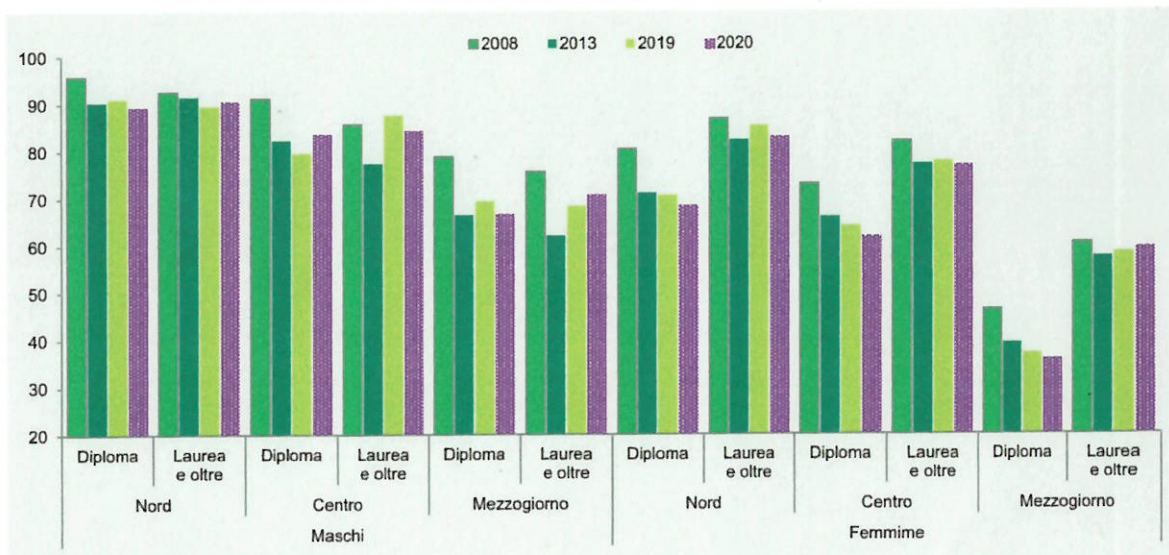
Idoneità Inglese:

Viaggi

<i>traccia</i>	<i>domanda 1 - amm/ord</i>	<i>domanda 2 - lavoro</i>	<i>domanda 3 - contabilità</i>	<i>domanda 4 - stat</i>
39	8. Elementi essenziali e accidentali del provvedimento amministrativo	10. Modalità attuative del Percorso 1 nel Piano attuativo del Programma nazionale per la garanzia di occupabilità dei lavoratori (GOL) della regione Friuli - Venezia Giulia.	2. La prenotazione delle risorse	7*

7*. Cosa ci dice il grafico successivo in termini di trend temporale, di gender gap, di eterogeneità geografica?

Figura 3.19 Tasso di occupazione dei giovani di 30-34 anni per sesso, titolo di studio e ripartizione geografica. Anni 2008, 2013, 2019 e 2020 (valori percentuali)



Fonte: Rilevazione sulle forze di lavoro, vecchia serie

Idoneità Informatica (id 39):

Si consideri la tabella nel foglio "tabella 6":

- si crei una tabella con i totali di laureati per dipartimento

Idoneità Inglese:

Musica

<i>traccia</i>	<i>domanda 1 - amm/ord</i>	<i>domanda 2 - lavoro</i>	<i>domanda 3 - contabilità</i>	<i>domanda 4 - stat</i>
26	6. Amministrazione attiva, consultiva, di controllo	I livelli essenziali delle prestazioni in materia di servizi per il lavoro	8. I bilanci pubblici: bilancio finanziario di previsione e rendiconto	10

10. Come posso calcolare la media, la mediana e la moda di una distribuzione di un carattere qualitativo? cosa indicano queste misure? Quale di esse risente meno di variazioni nei dati?

Idoneità Informatica (id 8):

Si consideri la tabella nel foglio "tabella2" nel file "tabA", e si facciano le seguenti modifiche:

- Evidenziare (testo in grassetto o celle colorate) la riga dei nomi delle colonne
- Ordinare i dati in base a due caratteristiche a piacere

Idoneità Inglese:

Natura e clima

<i>traccia</i>	<i>domanda 1 - amm/ord</i>	<i>domanda 2 - lavoro</i>	<i>domanda 3 - contabilità</i>	<i>domanda 4 - stat</i>
15	7. Atti e provvedimenti amministrativi	5. L'assessment quale strumento per la personalizzazione delle misure previste dal Programma nazionale per la garanzia di occupabilità dei lavoratori (GOL).	10. Bilancio di previsione finanziaria e bilancio finanziario gestionale nella legge regionale 26/2015	12*

12*. Si supponga di condurre una rilevazione su un campione di individui raccogliendo alcuni caratteri/variabili. Distinguere i caratteri qualitativi e quelli quantitativi.

N.id.	Sesso	Titolo di studio	Anno	Statura	Peso	Reddito
1	M	Licenza elementare	1971	182	79,8	14.300
2	M	Licenza elementare	1957	159	69,9	19.800
3	F	Diploma	1938	170	52,0	27.100
4	F	Licenza media	1939	171	56,4	23.200
5	F	Licenza media	1968	165	59,3	23.000
6	F	Licenza media	1973	167	59,6	22.400
7	F	Diploma	1940	173	63,9	23.600
8	F	Licenza media	1944	161	53,1	15.500
9	M	Licenza media	1965	172	80,4	17.600
10	F	Licenza elementare	1952	169	53,1	15.600
11	M	Licenza elementare	1979	180	81,7	18.600
12	M	Laurea	1972	187	68,4	49.700
13	F	Diploma	1985	161	56,5	21.000
14	M	Licenza media	1969	178	77,5	22.600
15	F	Diploma	1946	168	56,4	21.900
16	F	Laurea	1986	156	46,1	25.500
17	M	Diploma	1983	173	69,2	32.400
18	M	Diploma	1953	176	79,8	20.100
19	F	Licenza media	1963	175	59,6	19.800
20	M	Laurea	1982	170	65,0	34.200

Idoneità Informatica (id 15):

Si consideri la tabella nel foglio "tabella4" nel file "tabA", e si facciano le seguenti aggiunte:

- si calcoli il totale dei maschi e delle femmine
- si calcoli la percentuale di preferenze per il vino dei maschi e delle femmine

Idoneità Inglese:

Serie TV

<i>traccia</i>	<i>domanda 1 - amm/ord</i>	<i>domanda 2 - lavoro</i>	<i>domanda 3 - contabilità</i>	<i>domanda 4 - stat</i>
58	La conferenza di servizi	6. Le politiche attive del lavoro e la formazione professionale nell'ambito del Programma nazionale per la garanzia di occupabilità dei lavoratori (GOL).	1. Le fasi del procedimento di spesa e, in particolare, l'ordinazione e il pagamento	2

2. Una variabile è una caratteristica associata alle unità statistiche, che può assumere valori diversi sulle diverse unità. Si faccia un esempio di variabile **categorica** e di variabile **quantitativa**. Cosa si intende per distribuzione di una variabile?

Idoneità Informatica:

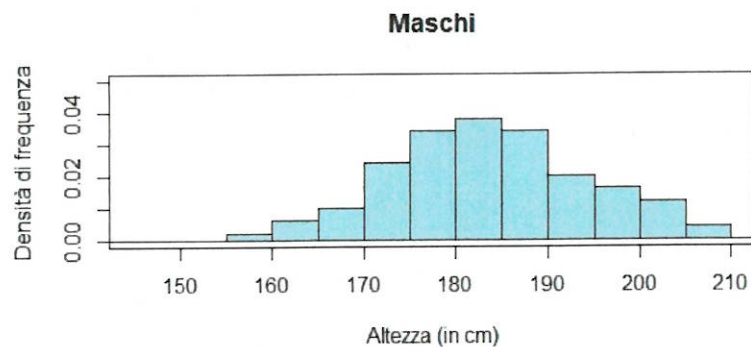
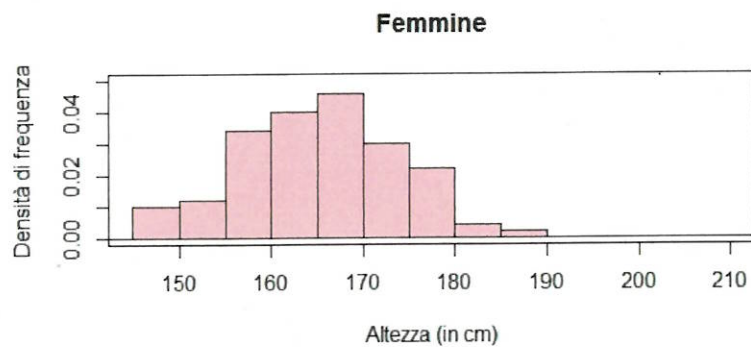
Si consideri il documento del file "word_4" e lo importi in un file di presentazione powerpoint.

Idoneità Inglese:

Descrivi la tua giornata

<i>traccia</i>	<i>domanda 1 - amm/ord</i>	<i>domanda 2 - lavoro</i>	<i>domanda 3 - contabilità</i>	<i>domanda 4 - stat</i>
37	Annullabilità del provvedimento amministrativo	1. Quali sono gli obiettivi del Programma nazionale per la garanzia di occupabilità dei lavoratori (GOL)?	I residui passivi	6

6. L'istogramma, utilizzato per variabili quantitative, cosa rappresenta? In un istogramma l'altezza delle barre a cosa corrisponde? Commentare i seguenti istogrammi



Idoneità Informatica:

Si consideri la tabella nel foglio "tabella4" nel file "tabA", e si facciano le seguenti aggiunte:

- si calcoli il totale dei maschi e delle femmine
- si calcoli la percentuale di preferenze per il vino dei maschi e delle femmine

Idoneità Inglese:

Rapporti con le lingue straniere

<i>traccia</i>	<i>domanda 1 - amm/ord</i>	<i>domanda 2 - lavoro</i>	<i>domanda 3 - contabilità</i>	<i>domanda 4 - stat</i>
158	I vizi di legittimità del provvedimento amministrativo e, in particolare, l'incompetenza	9. Le azioni per la compatibilità del Programma nazionale per la garanzia di occupabilità dei lavoratori (GOL) e le misure regionali o nazionali a valere sul FSE+ nel Piano attuativo della regione Friuli Venezia Giulia	15. Il principio della competenza finanziaria nel decreto legislativo 118/2011	18

18. Commentare la tabella

Tavola 1.1 Retribuzioni *pro capite*, Ula dipendenti. 1° trimestre 2020-1° trimestre 2021 (variazioni tendenziali percentuali)

	Retribuzioni <i>pro capite</i>					Unità di lavoro equivalente				
	T1-2020	T2-2020	T3-2020	T4-2020	T1-2021	T1-2020	T2-2020	T3-2020	T4-2020	T1-2021
A - Agricoltura, silvicoltura e pesca	1,6	2,2	-2,1	1,1	-1,5	-2,5	-7,9	1,1	-3,8	3,0
B-E - Industria in senso stretto	2,0	1,2	-1,6	1,3	1,8	-7,5	-20,0	-4,3	-6,2	4,7
F - Costruzioni	-2,2	-4,6	0,8	2,5	1,7	-6,2	-19,0	1,3	-0,8	14,1
G-T - Totale servizi	2,4	4,5	1,9	1,4	1,1	-6,0	-16,8	-8,1	-7,5	-3,2
Totale attività economiche	2,0	3,0	1,0	1,4	1,4	-6,2	-17,3	-6,6	-6,8	-0,7

Fonte: Istat, Conti nazionali

Idoneità Informatica:

Si consideri il testo del documento del file "word_4" e si modifichi il testo:

- Si giustifichi il testo e lo si divida in punti elenco

Idoneità Inglese:

Social Network

<i>traccia</i>	<i>domanda 1 - amm/ord</i>	<i>domanda 2 - lavoro</i>	<i>domanda 3 - contabilità</i>	<i>domanda 4 - stat</i>
146	12. Discrezionalità amministrativa e discrezionalità tecnica	I livelli essenziali delle prestazioni in materia di servizi per il lavoro	Le fasi del procedimento di spesa e, in particolare, la liquidazione	18

18. Commentare la tabella

Tavola 1.1 Retribuzioni *pro capite*, Ula dipendenti. 1° trimestre 2020-1° trimestre 2021 (variazioni tendenziali percentuali)

	Retribuzioni <i>pro capite</i>					Unità di lavoro equivalente				
	T1-2020	T2-2020	T3-2020	T4-2020	T1-2021	T1-2020	T2-2020	T3-2020	T4-2020	T1-2021
A - Agricoltura, silvicoltura e pesca	1,6	2,2	-2,1	1,1	-1,5	-2,5	-7,9	1,1	-3,8	3,0
B-E - Industria in senso stretto	2,0	1,2	-1,6	1,3	1,8	-7,5	-20,0	-4,3	-6,2	4,7
F - Costruzioni	-2,2	-4,6	0,8	2,5	1,7	-6,2	-19,0	1,3	-0,8	14,1
G-T - Totale servizi	2,4	4,5	1,9	1,4	1,1	-6,0	-16,8	-8,1	-7,5	-3,2
Totale attività economiche	2,0	3,0	1,0	1,4	1,4	-6,2	-17,3	-6,6	-6,8	-0,7

Fonte: Istat, Conti nazionali

Idoneità Informatica:

Si consideri il documento del file "word_4" e lo si modifichi:

- Organizzando il testo in punti elenco numerati
- Spostando la figura a fianco del testo

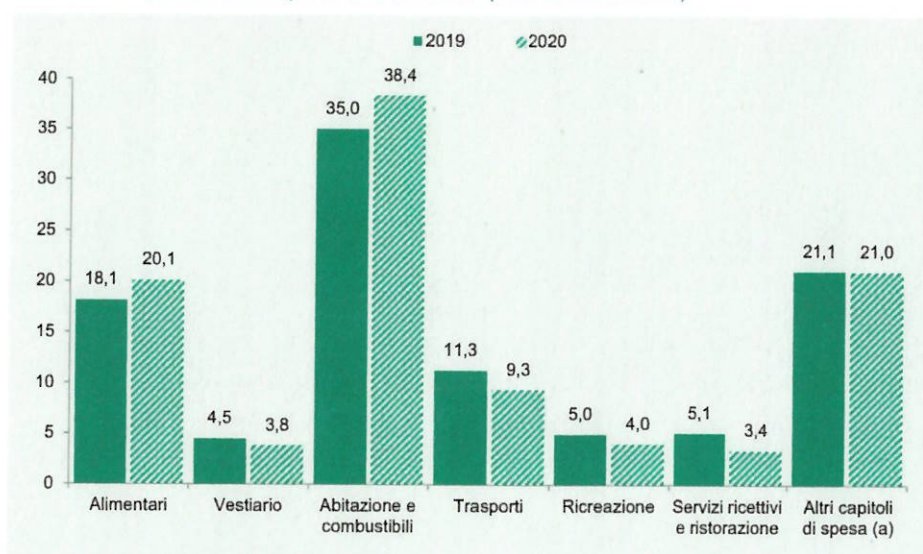
Idoneità Inglese:

Cibo e cucina

<i>traccia</i>	<i>domanda 1 - amm/ord</i>	<i>domanda 2 - lavoro</i>	<i>domanda 3 - contabilità</i>	<i>domanda 4 - stat</i>
161	La motivazione del provvedimento amministrativo	7. La funzione dei Piani attuativi regionali nell'ambito del Programma nazionale per la garanzia di occupabilità dei lavoratori (GOL)	12. Il principio della veridicità, attendibilità, correttezza e comprensibilità nel decreto legislativo 118/2011	13

13. Il grafico successivo cosa rappresenta? Come potremmo rappresentare gli stessi dati in modo alternativo

Figura 1.20 Spesa media mensile per capitolo di spesa. Anni 2019-2020 (composizione percentuale rispetto al totale della spesa media mensile)



Fonte: Istat, Indagine sulle spese delle famiglie
(a) Bevande alcoliche e tabacchi; Mobili, articoli e servizi per la casa; Servizi sanitari e spese per la salute; Comunicazioni; Istruzione; Altri beni e servizi.

Idoneità Informatica:

Si consideri il testo del documento del file "word_3" e si modifichi il testo:

- Inserendo il carattere corsivo
- Evidenziando parti di testo in diversi modi

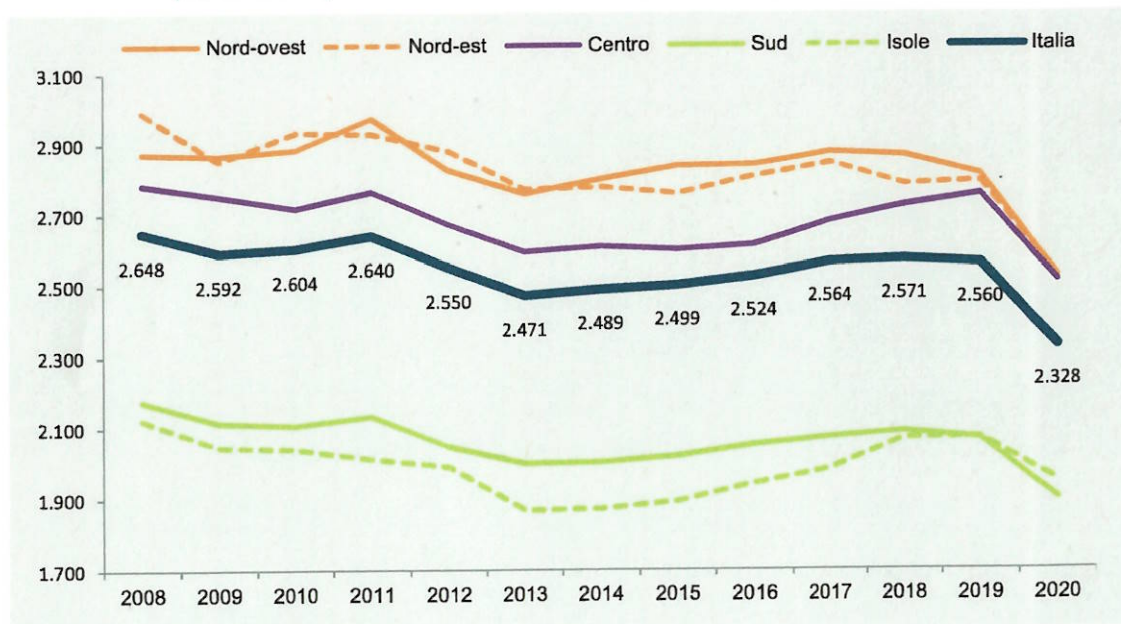
Idoneità Inglese:

Arte

<i>traccia</i>	<i>domanda 1 - amm/ord</i>	<i>domanda 2 - lavoro</i>	<i>domanda 3 - contabilità</i>	<i>domanda 4 - stat</i>
152	3. Regolamenti e riserva di legge	2. Quali sono i beneficiari del Programma nazionale per la garanzia di occupabilità dei lavoratori (GOL)?	Le fasi del procedimento di entrata e, in particolare, la riscossione	15

15. Commentare il grafico

Figura 1.19 Spesa media mensile delle famiglie per ripartizione geografica. Anni 2008-2020 (valori in euro)



Fonte: Istat, Indagine sulle spese delle famiglie

Idoneità Informatica:

Si consideri il documento del file "word_4" e lo si modifichi:

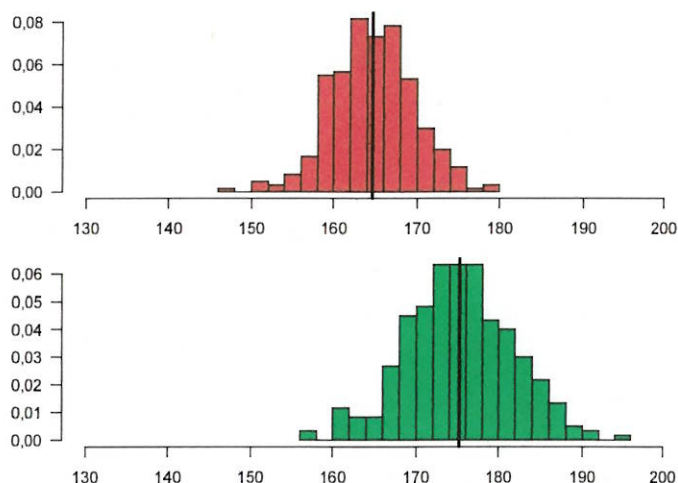
- Organizzando il testo in punti elenco numerati
- Spostando la figura a fianco del testo

Idoneità Inglese:

Cibo e cucina

<i>traccia</i>	<i>domanda 1 - amm/ord</i>	<i>domanda 2 - lavoro</i>	<i>domanda 3 - contabilità</i>	<i>domanda 4 - stat</i>
157	4. Organi e uffici in diritto amministrativo	Il principio di condizionalità nel rapporto tra politiche attive e passive del lavoro	I principi di annualità, unità e universalità nel decreto legislativo 118/2011	10

1. Confrontare le distribuzioni descritte dai due istogrammi; cosa indica la retta nera verticale? Riesco ad individuare la moda?



Idoneità Informatica:

Si consideri il documento del file "word_4" e lo si modifichi:

- Giustificando il testo
- Spostando la figura a fianco del testo

Idoneità Inglese:

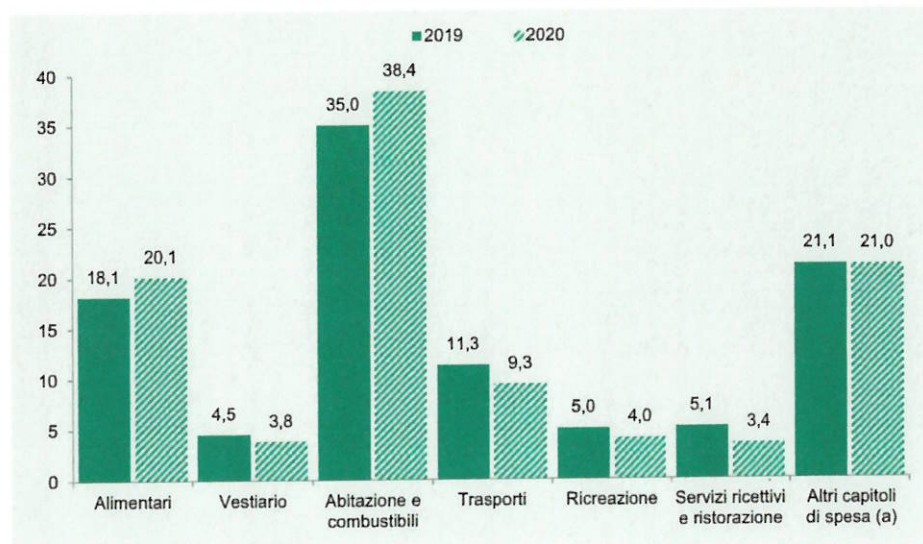
Animali

<i>traccia</i>	<i>domanda 1 - amm/ord</i>	<i>domanda 2 - lavoro</i>	<i>domanda 3 - contabilità</i>	<i>domanda 4 - stat</i>
70	I provvedimenti di autorizzazione e concessione	14. Modalità attuative del Percorso 5 nel Piano attuativo del Programma nazionale per la garanzia di occupabilità dei lavoratori (GOL) della regione Friuli Venezia Giulia.	Il riaccertamento dei residui	4

4. Nell'analisi esplorativa dei dati si utilizzano i diagrammi a torta.

- Come viene anche chiamato e cos'è?
- Cosa possiamo rappresentare con un diagramma a torta?
- I dati riportati sotto possono essere rappresentati da uno o più diagrammi a torta?

Figura 1.20 Spesa media mensile per capitolo di spesa. Anni 2019-2020 (composizione percentuale rispetto al totale della spesa media mensile)



Fonte: Istat, Indagine sulle spese delle famiglie
(a) Bevande alcoliche e tabacchi; Mobili, articoli e servizi per la casa; Servizi sanitari e spese per la salute; Comunicazioni; Istruzione; Altri beni e servizi.

Idoneità Informatica:

Si consideri la tabella nel foglio "tabella 6":

- si uniscano le celle iniziali riferite a corsi dello stesso dipartimento
- si distinguano le parti di tabella riferite a stesso dipartimento

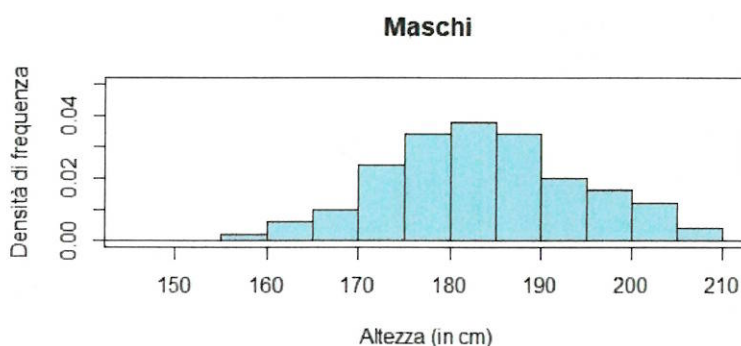
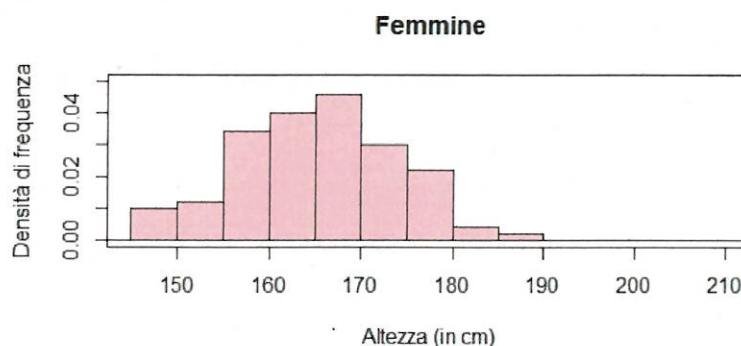
Idoneità Inglese:

Esperienze di lavoro

<i>traccia</i>	<i>domanda 1 - amm/ord</i>	<i>domanda 2 - lavoro</i>	<i>domanda 3 - contabilità</i>	<i>domanda 4 - stat</i>
80	La struttura del provvedimento amministrativo	13. Modalità attuative del Percorso 4 nel Piano attuativo del Programma nazionale per la garanzia di occupabilità dei lavoratori (GOL) della regione Friuli Venezia Giulia.	I debiti fuori bilancio	6

6.L'istogramma:

- per quali tipologie di variabili viene utilizzato?
- cosa rappresenta?
- l'altezza delle barre a cosa corrisponde?
- commentare i seguenti istogrammi



Idoneità Informatica:

Si apra una nuova cartella di lavoro Excel e si attribuisca il nome "mia tabella" al primo foglio di lavoro, si inserisca la seguente tabella:

Nome	Punteggio
Mario	22
Sonia	30
Anna	18
Luigi	24

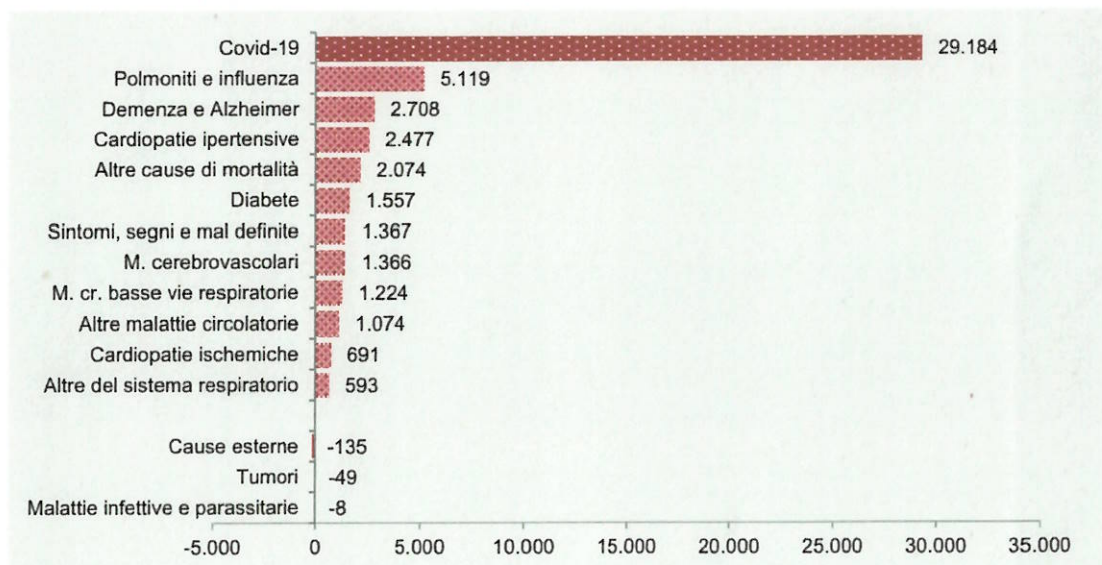
Idoneità Inglese:

La tua città

<i>traccia</i>	<i>domanda 1 - amm/ord</i>	<i>domanda 2 - lavoro</i>	<i>domanda 3 - contabilità</i>	<i>domanda 4 - stat</i>
166	15. Avvio e conclusione del procedimento amministrativo	1. Quali sono gli obiettivi del Programma nazionale per la garanzia di occupabilità dei lavoratori (GOL)?	11. I principi di annualità, unità e universalità nel decreto legislativo 118/2011	1

1. Nella tabella successiva le unità osservate sono i decessi, sui quali si osserva la causa di decesso. Come descriverebbe il grafico riportato? Come potrebbe essere descritto lo stesso fenomeno in modo alternativo?

Figura 2.11 Eccesso di mortalità: contributo delle cause all'incremento di marzo-aprile 2020 rispetto alla media 2015-2019 (valori assoluti)



Fonte: Istat, Rilevazione su decessi e cause di morte

Idoneità Informatica:

Si consideri il testo del file "word_1":

- a. Si modifichi la dimensione del carattere aumentando a 14pt
- b. Si modifichi il tipo di carattere scegliendo a piacere
- c. Si attivi il conteggio delle parole

Idoneità Inglese:

Progetti per il futuro

<i>traccia</i>	<i>domanda 1 - amm/ord</i>	<i>domanda 2 - lavoro</i>	<i>domanda 3 - contabilità</i>	<i>domanda 4 - stat</i>
46	10. La competenza	I livelli essenziali delle prestazioni in materia di servizi per il lavoro	6. L'autonomia finanziaria della Regione Friuli - Venezia Giulia	14*

14*. La tabella successiva riporta una distribuzione di frequenze. Che tipo di frequenze vengono riportate? Cosa si può dire nel confronto tra le distribuzioni del carattere titolo di studio nei due sessi?

titolo di studio	M	F	M	F
licenza elementare	3	1	0,33	0,09
licenza media	2	5	0,22	0,45
diploma	2	4	0,22	0,36
laurea	2	1	0,22	0,09
totale	9	11	1,00	1,00

Idoneità Informatica (id 46):

Nel testo del documento "word_5" si apportino le modifiche indicate in rosso.

Idoneità Inglese:

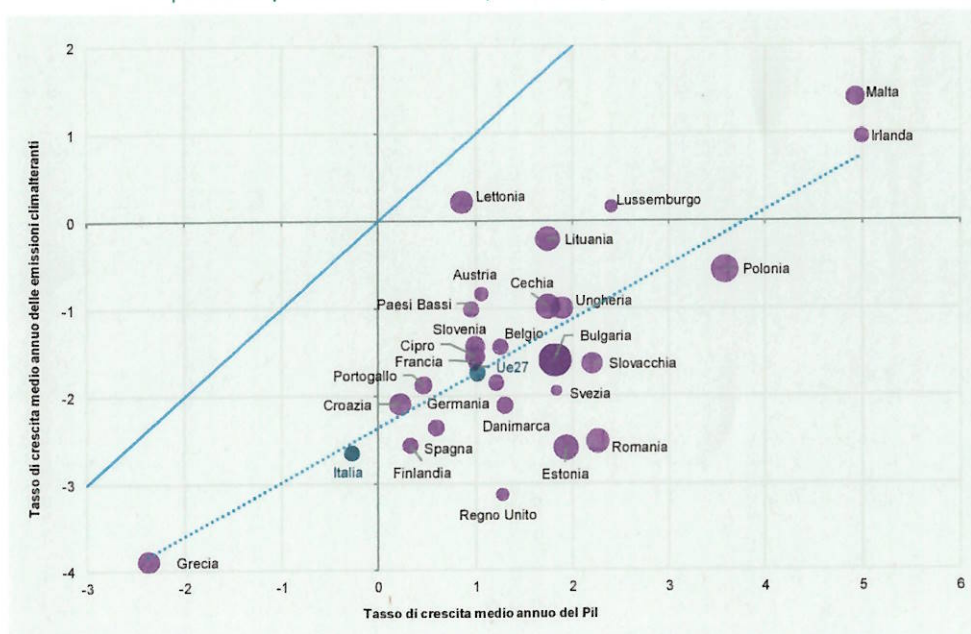
Hobby

<i>traccia</i>	<i>domanda 1 - amm/ord</i>	<i>domanda 2 - lavoro</i>	<i>domanda 3 - contabilità</i>	<i>domanda 4 - stat</i>
97	§ Annullabilità del provvedimento amministrativo	9. Le azioni per la compatibilità del Programma nazionale per la garanzia di occupabilità dei lavoratori (GOL) e le misure regionali o nazionali a valere sul FSE + nel Piano attuativo della regione Friuli Venezia Giulia.	Il riaccertamento dei residui	5*

5*. La figura successiva riporta un grafico a dispersione

a. Cosa ci consente di evidenziare? Cosa indica la retta tratteggiata?

Figura 5.15 Pil ed emissioni climalteranti nei paesi Ue e nel Regno Unito. Anni 2008-2019 (variazioni percentuali medie annue e intensità emissiva nel 2019 in tonnellate di CO₂ equivalente per milione di euro a prezzi 2015)



Fonte: Elaborazioni su dati Eurostat, Conti delle emissioni atmosferiche e Conti nazionali (a) L'intensità emissiva è rappresentata come area delle bolle (Italia=250 t eq.CO₂/mln €).

Idoneità Informatica:

Si consideri la tabella nel foglio "tabella4" nel file "tabA", e si facciano le seguenti modifiche:

- copiare la tabella trasponendola
- creare un grafico a torta per le preferenze del genere maschile

Idoneità Inglese:

Libri

<i>traccia</i>	<i>domanda 1 - amm/ord</i>	<i>domanda 2 - lavoro</i>	<i>domanda 3 - contabilità</i>	<i>domanda 4 - stat</i>
164	7. Atti e provvedimenti amministrativi	3. Quali sono i percorsi individuati dal Programma nazionale per la garanzia di occupabilità dei lavoratori (GOL)?	2. La prenotazione delle risorse	10

10. Come possiamo descrivere la distribuzione di una variabile/caratteristica: quali strumenti e quali misure si possono utilizzare?

Idoneità Informatica:

Si consideri la tabella nel foglio "tabella4" nel file "tabA", e si facciano le seguenti modifiche:

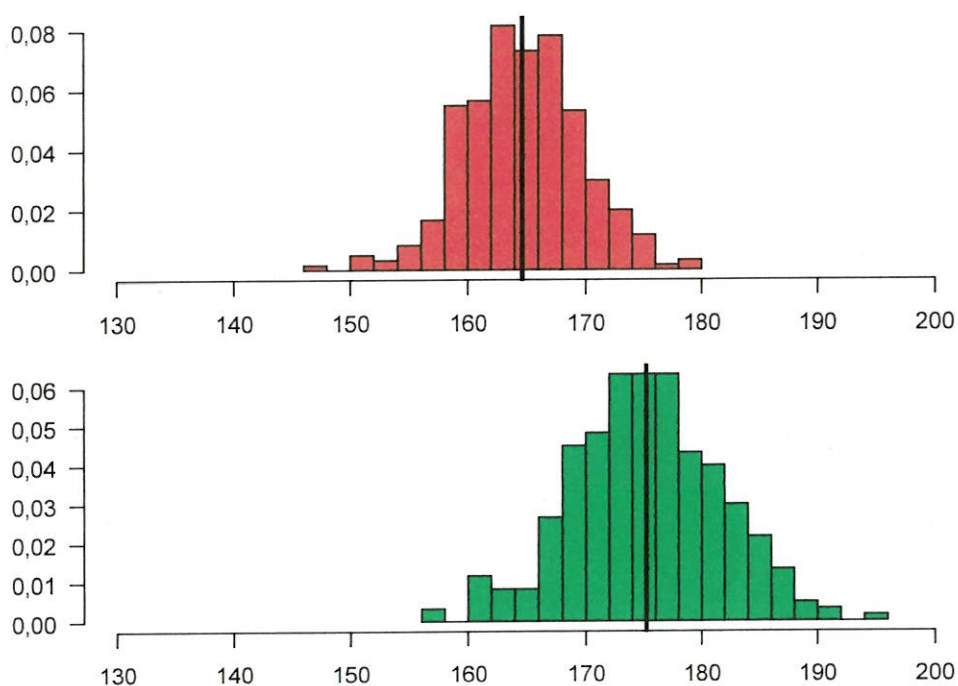
- creare una nuova tabella utile per creare un grafico a torta per le preferenze del genere maschile

Idoneità Inglese:

Giornali/riviste

<i>traccia</i>	<i>domanda 1 - amm/ord</i>	<i>domanda 2 - lavoro</i>	<i>domanda 3 - contabilità</i>	<i>domanda 4 - stat</i>
64	4. Organi e uffici in diritto amministrativo	11. Modalità attuative del Percorso 2 nel Piano attuativo del Programma nazionale per la garanzia di occupabilità dei lavoratori (GOL) della regione Friuli Venezia Giulia.	14. Il principio dell'equilibrio di bilancio nel decreto legislativo 118/2011	15*

15*. Confrontare le distribuzioni descritte dai due istogrammi



Idoneità Informatica:

Con riferimento al testo nel file "word_4", inserire una nuova tabella di sintesi con i valori del trimestre I 2021 delle retribuzioni pro-capite nei diversi settori

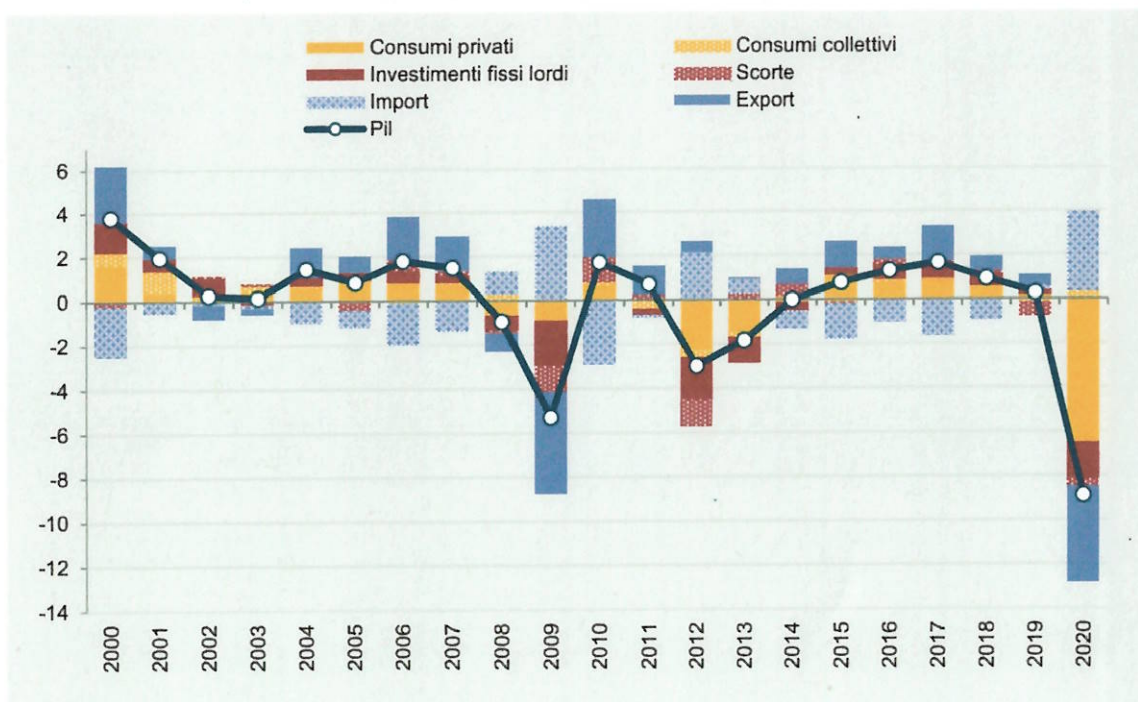
Idoneità Inglese:

Il tempo e le stagioni

<i>traccia</i>	<i>domanda 1 - amm/ord</i>	<i>domanda 2 - lavoro</i>	<i>domanda 3 - contabilità</i>	<i>domanda 4 - stat</i>
169	13. Il procedimento amministrativo	7. La funzione dei Piani attuativi regionali nell'ambito del Programma nazionale per la garanzia di occupabilità dei lavoratori (GOL).	15. Il principio della competenza finanziaria nel decreto legislativo 118/2011	17

17. Commentare il grafico

Figura 1.4 Andamento del Pil italiano e contributi delle componenti di domanda. Anni 2000-2020 (variazioni e punti percentuali)



Fonte: Istat, Conti nazionali

Idoneità Informatica:

Si consideri il testo del file "word_1":

- In che modo si possono aumentare i margini aumentandoli del documento
- Si inserisca l'intestazione con il proprio nome in corsivo e il numero di pagine

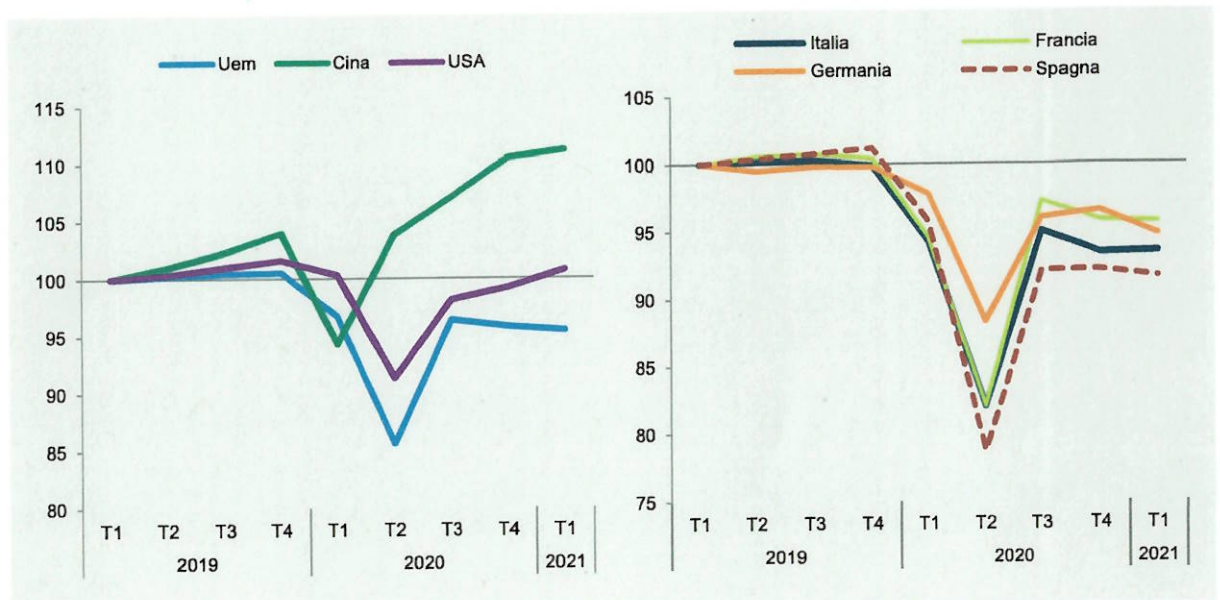
Idoneità Inglese:

Scuola e formazione

<i>traccia</i>	<i>domanda 1 - amm/ord</i>	<i>domanda 2 - lavoro</i>	<i>domanda 3 - contabilità</i>	<i>domanda 4 - stat</i>
42	La tutela giurisdizionale contro gli atti della pubblica amministrazione	L'offerta di lavoro congrua	4. I residui passivi	8

8. Cosa si intende per diagramma temporale? Quali evidenze ci indica il grafico?

Figura 1.2 Prodotto interno lordo. 1° trimestre 2019-1° trimestre 2021 (valori destagionalizzati trimestrali 2019 T1 = 100)



Fonte: OCSE ed Eurostat

Idoneità Informatica (id 42):

Con riferimento al testo nel file "word_4", inserire una nuova tabella di sintesi con i valori totali delle retribuzioni pro-capite nei trimestri

Idoneità Inglese:

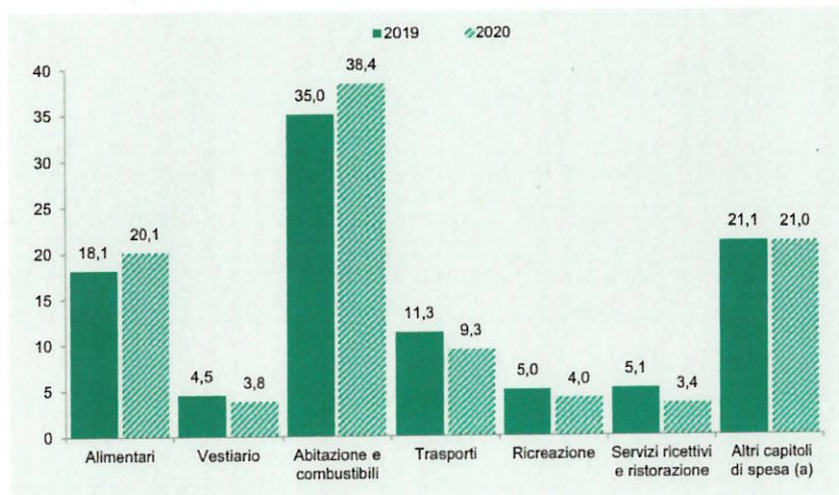
Famiglia

<i>traccia</i>	<i>domanda 1 - amm/ord</i>	<i>domanda 2 - lavoro</i>	<i>domanda 3 - contabilità</i>	<i>domanda 4 - stat</i>
153	L'autotutela	2. Quali sono i beneficiari del Programma nazionale per la garanzia di occupabilità dei lavoratori (GOL)?	*Le fasi del procedimento di spesa e, in particolare, la liquidazione	5

5. Nell'analisi esplorativa dei dati si utilizzano i grafici a barre.

- Cosa indica l'altezza delle barre?
- Possono essere escluse delle categorie nel grafico?
- Cosa indica il grafico sotto riportato?

Figura 1.20 Spesa media mensile per capitolo di spesa. Anni 2019-2020 (composizione percentuale rispetto al totale della spesa media mensile)



Fonte: Istat, Indagine sulle spese delle famiglie
(a) Bevande alcoliche e tabacchi; Mobili, articoli e servizi per la casa; Servizi sanitari e spese per la salute; Comunicazioni; Istruzione; Altri beni e servizi.

Idoneità Informatica:

Si consideri la tabella nel foglio "tabella1" nel file "tabA", e si facciano le seguenti modifiche:

- Ordinare i dati in senso crescente di anno di nascita
- Calcolare l'anno di nascita modale

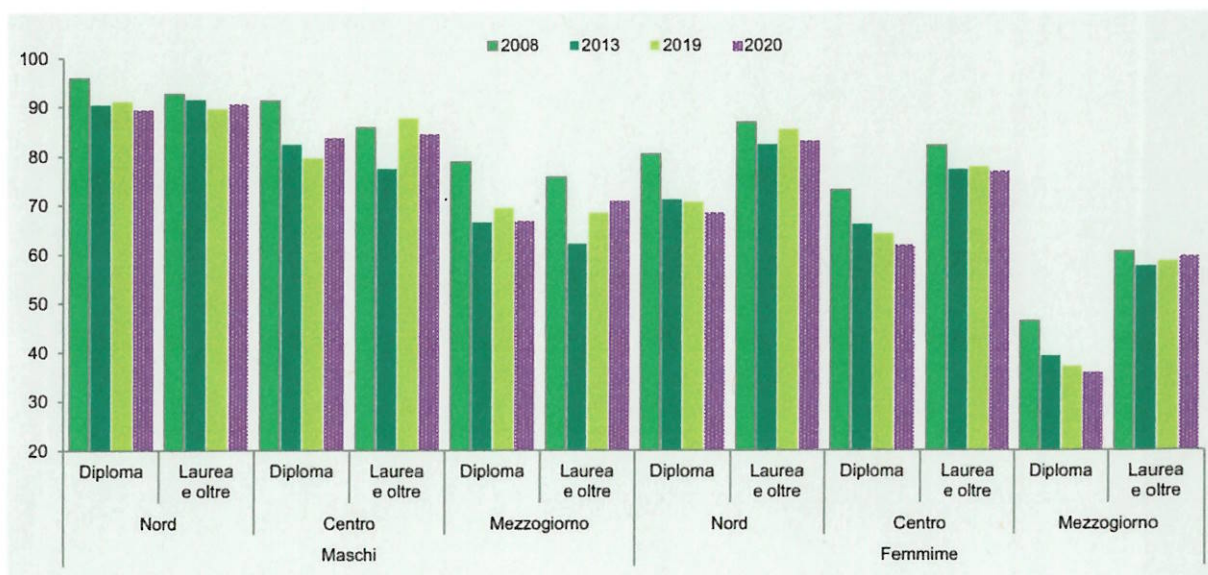
Idoneità Inglese:

Musica

<i>traccia</i>	<i>domanda 1 - amm/ord</i>	<i>domanda 2 - lavoro</i>	<i>domanda 3 - contabilità</i>	<i>domanda 4 - stat</i>
43	9. La struttura del provvedimento amministrativo	6. Le politiche attive del lavoro e la formazione professionale nell'ambito del Programma nazionale per la garanzia di occupabilità dei lavoratori (GOL).	Bilancio di previsione finanziaria e bilancio finanziario gestionale nella legge regionale 26/2015	7

7. Commentiamo insieme il seguente grafico

Figura 3.19 Tasso di occupazione dei giovani di 30-34 anni per sesso, titolo di studio e ripartizione geografica. Anni 2008, 2013, 2019 e 2020 (valori percentuali)



Fonte: Rilevazione sulle forze di lavoro, vecchia serie

Idoneità Informatica:

Si consideri il documento del file "word_3" e lo importi in un file di presentazione powerpoint.

Idoneità Inglese:

Vacanze

<i>traccia</i>	<i>domanda 1 - amm/ord</i>	<i>domanda 2 - lavoro</i>	<i>domanda 3 - contabilità</i>	<i>domanda 4 - stat</i>
154	?? Revoca e annullamento d'ufficio	10. Modalità attuative del Percorso 1 nel Piano attuativo del Programma nazionale per la garanzia di occupabilità dei lavoratori (GOL) della regione Friuli Venezia Giulia.	6. L'autonomia finanziaria della Regione Friuli - Venezia Giulia	11

10. Si parli della media, della mediana e della moda

Idoneità Informatica:

Si consideri la tabella nel foglio "tabella1" nel file "tabA", e si facciano le seguenti modifiche:

- Ordinare i dati in senso crescente di anno di nascita
- Calcolare l'anno di nascita modale

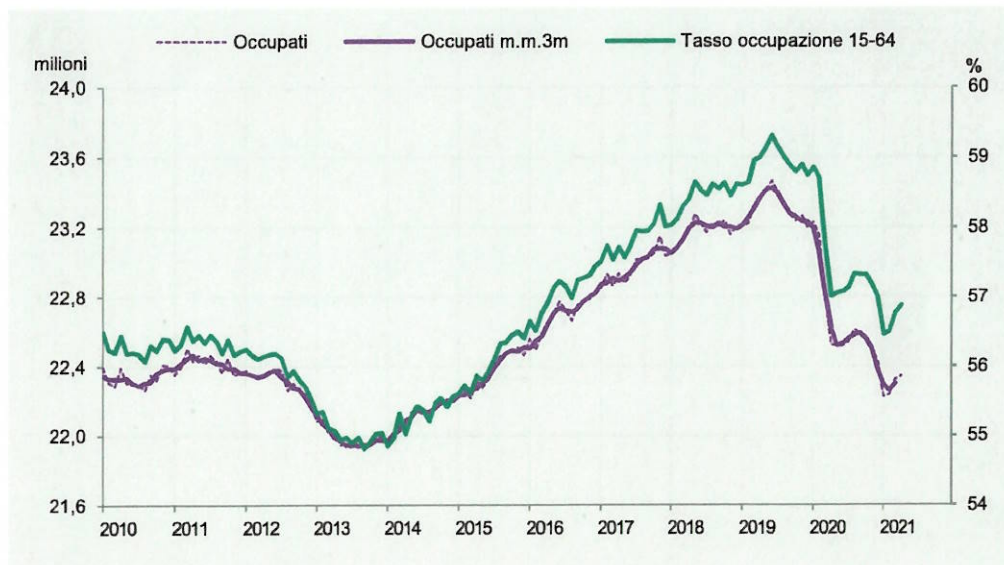
Idoneità Inglese:

Teatro/Spettacoli

traccia	domanda 1 - amm/ord	domanda 2 - lavoro	domanda 3 - contabilità	domanda 4 - stat
38	**La partecipazione al procedimento amministrativo	1. Quali sono gli obiettivi del Programma nazionale per la garanzia di occupabilità dei lavoratori (GOL)?	***Le fasi del procedimento di entrata e, in particolare, l'accertamento	12

12. Che tipo di diagramma è il seguente? A cosa corrisponde il tasso di occupazione? Commentare il grafico

Figura 1.9 Andamento dell'occupazione in Italia. Occupati (milioni, scala sinistra) e tasso di occupazione (valori percentuali, scala destra) (a). Anni 2010-2021 (aprile)



Fonte: Istat, Rilevazione sulle forze di lavoro
(a) Dati provvisori.

Idoneità Informatica:

Si consideri il documento del file "word_4" e lo importi in un file di presentazione powerpoint.

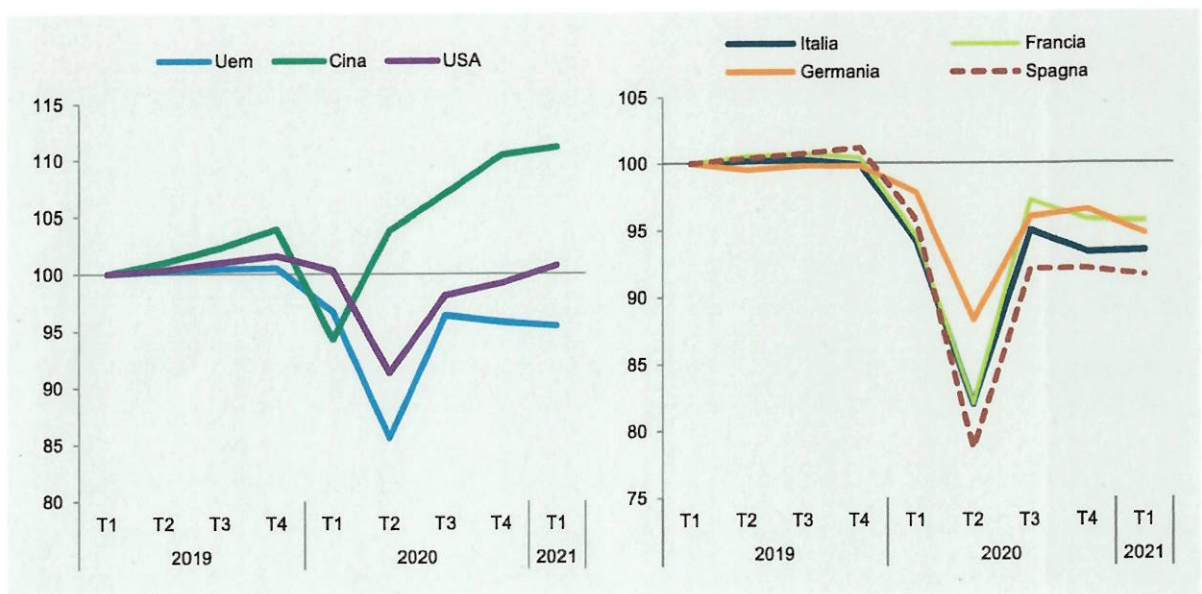
Idoneità Inglese:

Viaggi

traccia	domanda 1 - amm/ord	domanda 2 - lavoro	domanda 3 - contabilità	domanda 4 - stat
49	L'interesse legittimo	5. L'assessment quale strumento per la personalizzazione delle misure previste dal Programma nazionale per la garanzia di occupabilità dei lavoratori (GOL).	2. La prenotazione delle risorse	8

8. Cosa si intende per diagramma temporale? Cosa indica l'asse orizzontale e quello verticale? Commentare i due grafici

Figura 1.2 Prodotto interno lordo. 1° trimestre 2019-1° trimestre 2021 (valori destagionalizzati trimestrali 2019 T1 = 100)



Fonte: OCSE ed Eurostat

Idoneità Informatica:

Si consideri la tabella nel foglio "tabella3" nel file "tabA", e si facciano le seguenti aggiunte:

- si calcolino le somme di riga e di colonna
- si calcolino le percentuali dei maschi e delle femmine

Idoneità Inglese:

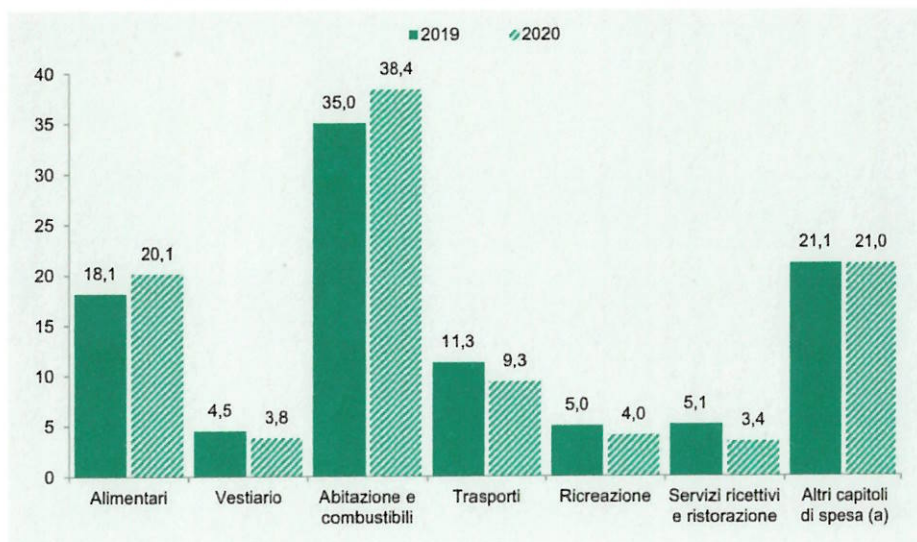
Moda/vestiti

<i>traccia</i>	<i>domanda 1 - amm/ord</i>	<i>domanda 2 - lavoro</i>	<i>domanda 3 - contabilità</i>	<i>domanda 4 - stat</i>
48	I regolamenti	7. La funzione dei Piani attuativi regionali nell'ambito del Programma nazionale per la garanzia di occupabilità dei lavoratori (GOL)	9. Il bilancio pubblico: stanziamento della spesa e previsione dell'entrata	4

4. Nell'analisi esplorativa dei dati si utilizzano i diagrammi a torta.

- Come viene anche chiamato e cos'è?
- Cosa possiamo rappresentare con un diagramma a torta?
- I dati riportati sotto possono essere rappresentati da uno o più diagrammi a torta?

Figura 1.20 Spesa media mensile per capitolo di spesa. Anni 2019-2020 (composizione percentuale rispetto al totale della spesa media mensile)



Fonte: Istat, Indagine sulle spese delle famiglie
(a) Bevande alcoliche e tabacchi; Mobili, articoli e servizi per la casa; Servizi sanitari e spese per la salute; Comunicazioni; Istruzione; Altri beni e servizi.

Idoneità Informatica:

Si consideri la tabella nel foglio "tabella2" nel file "tabA", e si facciano le seguenti modifiche:

- Si inserisca una nuova colonna con l'età calcolata in base all'anno di nascita

Idoneità Inglese:

Computer e tecnologia

<i>traccia</i>	<i>domanda 1 - amm/ord</i>	<i>domanda 2 - lavoro</i>	<i>domanda 3 - contabilità</i>	<i>domanda 4 - stat</i>
45	Obbligo di comunicazione di avvio del procedimento e intervento nel procedimento	13. Modalità attuative del Percorso 4 nel Piano attuativo del Programma nazionale per la garanzia di occupabilità dei lavoratori (GOL) della regione Friuli Venezia Giulia.	Il riaccertamento dei residui	3

3. Si supponga di fare un'indagine medica in cui vengono raccolte le seguenti caratteristiche sugli individui del campione. Quali sono variabili categoriche e quali sono quantitative?

- Sesso (maschio o femmina)
- Età (anni)
- Etnia (asiatico, nero, bianco, altro)
- Fumatore/trice (si, no)
- Pressione sanguigna (millimetri di mercurio)
- Presenza di calcio nel sangue (microgrammi per millimetro)

Idoneità Informatica:

Si consideri la tabella nel foglio "tabella4" nel file "tabA", e si facciano le seguenti aggiunte:

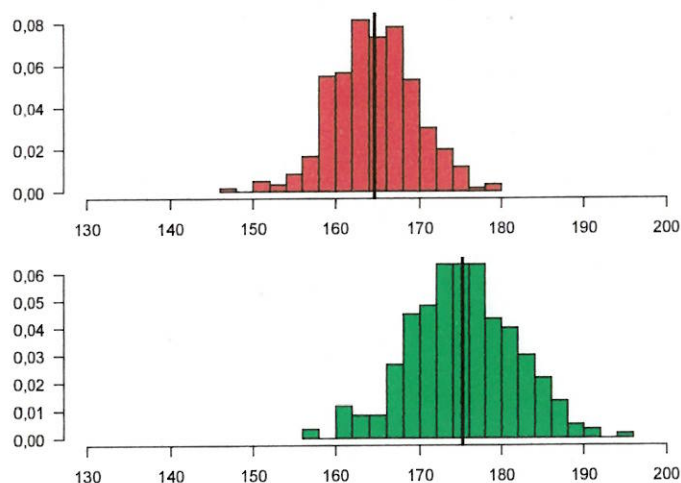
- si calcoli il totale dei maschi e delle femmine
- si calcoli la percentuale di preferenze per il vino dei maschi e delle femmine

Idoneità Inglese:

Moda/vestiti

<i>traccia</i>	<i>domanda 1 - amm/ord</i>	<i>domanda 2 - lavoro</i>	<i>domanda 3 - contabilità</i>	<i>domanda 4 - stat</i>
160	15. Avvio e conclusione del procedimento amministrativo	3. Quali sono i percorsi individuati dal Programma nazionale per la garanzia di occupabilità dei lavoratori (GOL)?	3. I residui attivi	15

15. Confrontare le distribuzioni descritte dai due istogrammi



Idoneità Informatica:

Si consideri il testo del file "word_1":

- a. Si organizzi la pagina in orizzontale
- b. Si centri il titolo e lo si metta in grassetto
- c. Si attivi il conteggio delle parole

Idoneità Inglese:

Viaggi

<i>traccia</i>	<i>domanda 1 - amm/ord</i>	<i>domanda 2 - lavoro</i>	<i>domanda 3 - contabilità</i>	<i>domanda 4 - stat</i>
47	4. Organi e uffici in diritto amministrativo	2. Quali sono i beneficiari del Programma nazionale per la garanzia di occupabilità dei lavoratori (GOL)?	6. L'autonomia finanziaria della Regione Friuli Venezia Giulia	11

11. Si parli della media, della mediana e della moda facendo un esempio

Idoneità Informatica:

Si consideri il testo del documento del file "word_2" modificandolo nel seguente modo:

- giustificando il testo
- riducendo il carattere del titolo
- cambiando il tipo di carattere

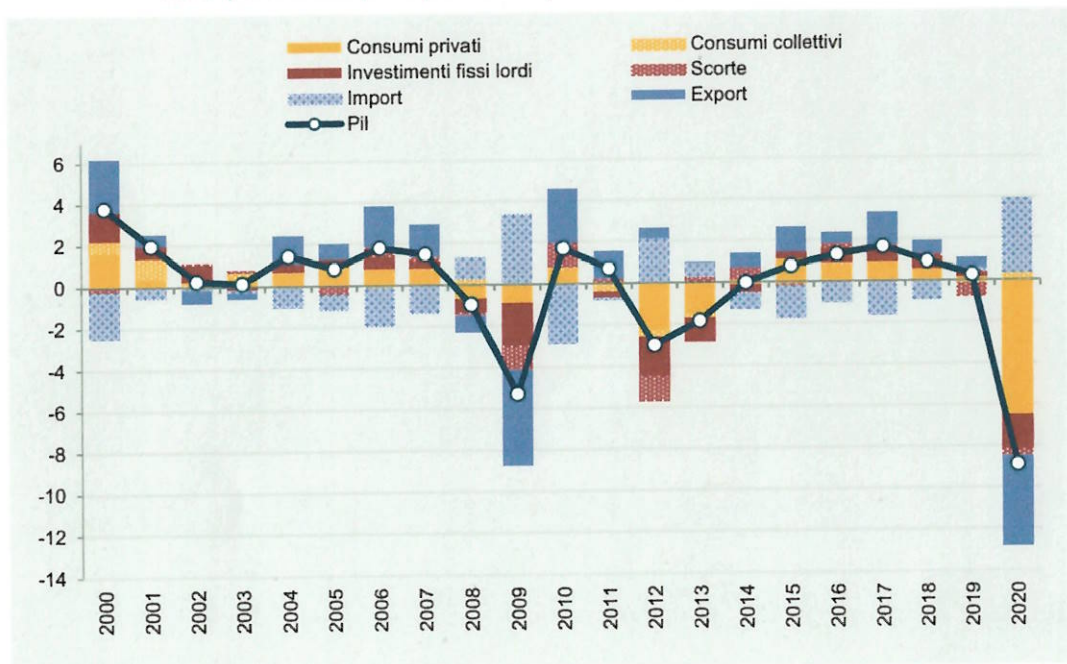
Idoneità Inglese:

Computer e tecnologia

<i>traccia</i>	<i>domanda 1 - amm/ord</i>	<i>domanda 2 - lavoro</i>	<i>domanda 3 - contabilità</i>	<i>domanda 4 - stat</i>
155	6. Amministrazione attiva, consultiva, di controllo	6. Le politiche attive del lavoro e la formazione professionale nell'ambito del Programma nazionale per la garanzia di occupabilità dei lavoratori (GOL).	15. Il principio della competenza finanziaria nel decreto legislativo 118/2011	17

17. Che tipo di osservazioni temporali abbiamo nel grafico successivo? Che tipo di diagramma abbiamo?

Figura 1.4 Andamento del Pil italiano e contributi delle componenti di domanda. Anni 2000-2020 (variazioni e punti percentuali)



Fonte: Istat, Conti nazionali

Idoneità Informatica:

Si consideri la tabella nel foglio "tabella4" nel file "tabA", e si facciano le seguenti aggiunte:

- si calcolino i totali di riga
- si calcolino le percentuali di riga

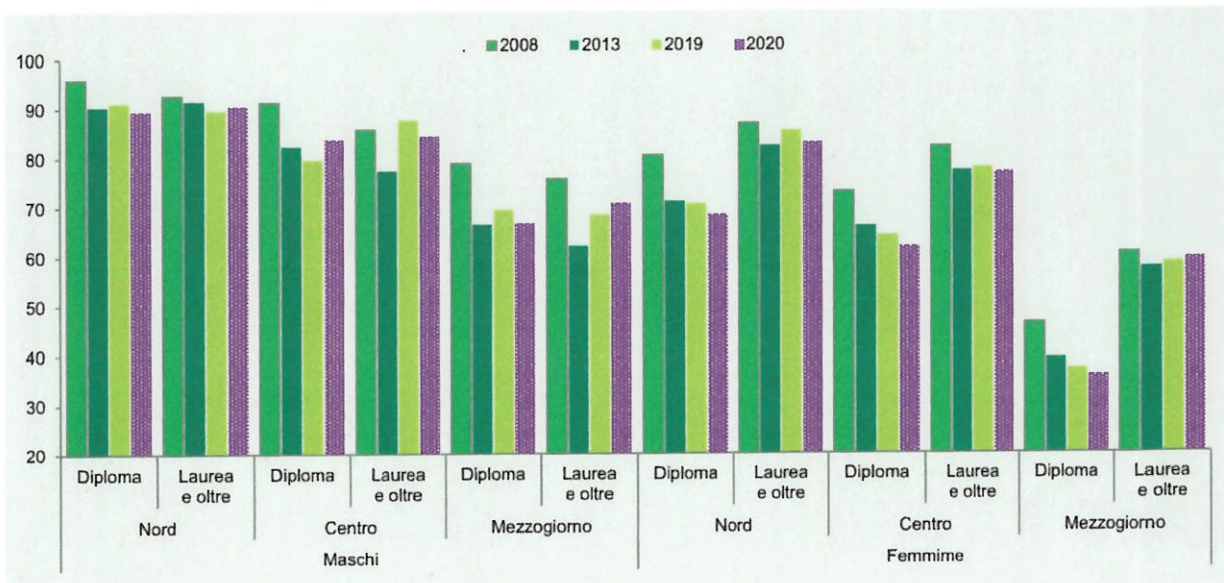
Idoneità Inglese:

Sport

<i>traccia</i>	<i>domanda 1 - amm/ord</i>	<i>domanda 2 - lavoro</i>	<i>domanda 3 - contabilità</i>	<i>domanda 4 - stat</i>
168	La motivazione del provvedimento amministrativo	4. Nell'ambito del quadro attuale definitorio dei livelli essenziali delle prestazioni in materia di politiche attive del lavoro, quali prestazioni costituiscono i diritti e/o gli standard di servizio che dovranno essere garantiti a tutti i beneficiari del Programma nazionale per la garanzia di occupabilità dei lavoratori (GOL)?	14. Il principio dell'equilibrio di bilancio nel decreto legislativo 118/2011	7

7. Commentiamo insieme il seguente grafico

Figura 3.19 Tasso di occupazione dei giovani di 30-34 anni per sesso, titolo di studio e ripartizione geografica. Anni 2008, 2013, 2019 e 2020 (valori percentuali)



Fonte: Rilevazione sulle forze di lavoro, vecchia serie

Idoneità Informatica:

Si consideri la tabella nel foglio "tabella2" nel file "tabA", e si facciano le seguenti modifiche:

- si calcoli l'anno di nascita modale, medio e mediano

Idoneità Inglese:

Cinema

<i>traccia</i>	<i>domanda 1 - amm/ord</i>	<i>domanda 2 - lavoro</i>	<i>domanda 3 - contabilità</i>	<i>domanda 4 - stat</i>
112	1. L'interesse legittimo	15. Modalità di attuazione dell'assessment nel Piano attuativo del Programma nazionale per la garanzia di occupabilità dei lavoratori (GOL) della regione Friuli Venezia Giulia.	1. Le fasi del procedimento di spesa e, in particolare, l'impegno	18

18.Commentare la tabella

Tavola 1.1 Retribuzioni *pro capite*, Ula dipendenti. 1° trimestre 2020-1° trimestre 2021 (variazioni tendenziali percentuali)

	Retribuzioni <i>pro capite</i>					Unità di lavoro equivalente				
	T1-2020	T2-2020	T3-2020	T4-2020	T1-2021	T1-2020	T2-2020	T3-2020	T4-2020	T1-2021
A - Agricoltura, silvicoltura e pesca	1,6	2,2	-2,1	1,1	-1,5	-2,5	-7,9	1,1	-3,8	3,0
B-E - Industria in senso stretto	2,0	1,2	-1,6	1,3	1,8	-7,5	-20,0	-4,3	-6,2	4,7
F - Costruzioni	-2,2	-4,6	0,8	2,5	1,7	-6,2	-19,0	1,3	-0,8	14,1
G-T - Totale servizi	2,4	4,5	1,9	1,4	1,1	-6,0	-16,8	-8,1	-7,5	-3,2
Totale attività economiche	2,0	3,0	1,0	1,4	1,4	-6,2	-17,3	-6,6	-6,8	-0,7

Fonte: Istat, Conti nazionali

Idoneità Informatica:

Si consideri il testo del file "word_1":

- A cosa serve la funzione Thesaurus?
- Si supponga di voler cambiare interlinea, si metta interlinea doppia e di inserire la numerazione delle righe

Idoneità Inglese:

Tempo libero

<i>traccia</i>	<i>domanda 1 - amm/ord</i>	<i>domanda 2 - lavoro</i>	<i>domanda 3 - contabilità</i>	<i>domanda 4 - stat</i>
150	L'autotutela	12. Modalità attuative del Percorso 3 nel Piano attuativo del Programma nazionale per la garanzia di occupabilità dei lavoratori (GOL) della regione Friuli Venezia Giulia.	12. Il principio della veridicità, attendibilità, correttezza e comprensibilità nel decreto legislativo 118/2011	3

3. Si supponga di fare un'indagine su un campione di aziende produttive in cui vengono raccolte le seguenti caratteristiche. Quali sono variabili qualitative (nominali, ordinali) e quali sono quantitative?

- Numero dipendenti
- Età media dipendenti
- Età del manager
- Fatturato annuo
- Settore produttivo ATECO
- Quota export sulle vendite

Idoneità Informatica:

Si apra una nuova cartella di lavoro Excel e si attribuisca il nome "mia tabella" al primo foglio di lavoro, si inserisca la seguente tabella, calcolare il punteggio medio:

Nome	Punteggio
Mario	22
Sonia	30
Anna	18
Luigi	24

Idoneità Inglese:

Serie TV

<i>traccia</i>	<i>domanda 1 - amm/ord</i>	<i>domanda 2 - lavoro</i>	<i>domanda 3 - contabilità</i>	<i>domanda 4 - stat</i>
47bis	14. La conferenza dei servizi	14. Modalità attuative del Percorso 5 nel Piano attuativo del Programma nazionale per la garanzia di occupabilità dei lavoratori (GOL) della regione Friuli Venezia Giulia.	5. Principi costituzionali in materia di bilancio	8

8. Osservate la tabella successiva:

- a. Che tipo di trend voi si attende per gli scostamenti?
- b. Su quale indicatore di occupazione ci si attende l'impatto maggiore?

Prospetto 1 L'impatto sull'occupazione del PNRR (scostamenti percentuali rispetto allo scenario base di assenza del Piano)

	2021	2022	2023	2024-2026
Occupazione totale	0,7	2,2	3,2	3,2
Occupazione femminile	0,9	2,6	3,4	3,7
Occupazione femminile nel Mezzogiorno	1,3	3,8	5,0	5,5
Occupazione giovanile	0,7	2,2	3,0	3,3
Occupazione giovanile nel Mezzogiorno	1,0	3,3	4,5	4,9

Fonte: PNRR

Idoneità Informatica:

Si consideri il testo del documento del file "word_2":

- si faccia il conteggio dei caratteri del testo, escluso il titolo
- si aumentino i margini e si orienti orizzontalmente la pagina

Idoneità Inglese:

Hobby

52	I provvedimenti di autorizzazione e concessione	4. Nell'ambito del quadro attuale definitorio dei livelli essenziali delle prestazioni in materia di politiche attive del lavoro, quali prestazioni costituiscono i diritti e/o gli standard di servizio che dovranno essere garantiti a tutti i beneficiari del Programma nazionale per la garanzia di occupabilità dei lavoratori (GOL)?	^Le fasi del procedimento di entrata e, particolare, riscossione in la	2
----	---	--	--	---

2. Una variabile è una caratteristica associata alle unità statistiche, che può assumere valori diversi sulle diverse unità. Si faccia un esempio di variabile **categorica** e di variabile **quantitativa**. Cosa si intende per distribuzione di una variabile?

Idoneità Informatica:

Si consideri il testo del documento del file "word_4" e si modifichi il testo:

- Si giustifichi il testo e lo si organizzi in 2 colonne cambiando i margini

Idoneità Inglese:

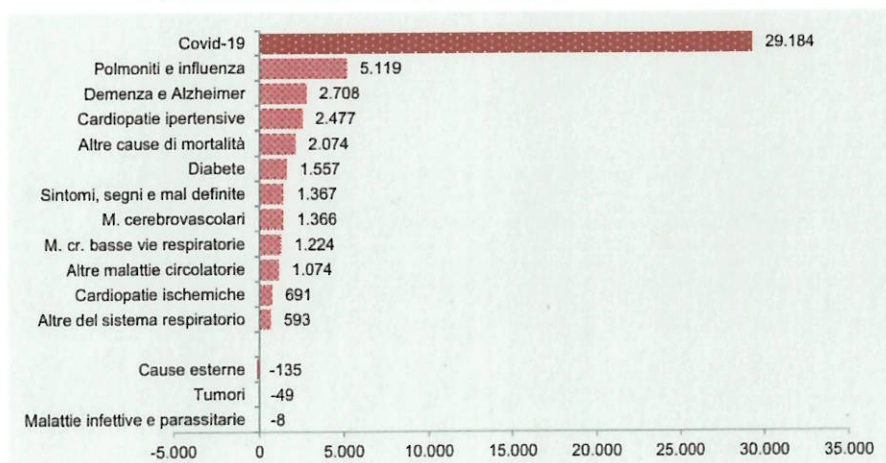
Libri

<i>traccia</i>	<i>domanda 1 - amm/ord</i>	<i>domanda 2 - lavoro</i>	<i>domanda 3 - contabilità</i>	<i>domanda 4 - stat</i>
----------------	----------------------------	---------------------------	--------------------------------	-------------------------

<i>traccia</i>	<i>domanda 1 - amm/ord</i>	<i>domanda 2 - lavoro</i>	<i>domanda 3 - contabilità</i>	<i>domanda 4 - stat</i>
33	8. Elementi essenziali e accidentali del provvedimento amministrativo	L'offerta di lavoro congrua	**Le fasi del procedimento di spesa e, in particolare, l'ordinazione e il pagamento	1

1. Nella tabella successiva le unità osservate sono i decessi, sui quali si osserva la causa di decesso. Come descriverebbe il grafico riportato? Come potrebbe essere descritto lo stesso fenomeno in modo alternativo?

Figura 2.11 Eccesso di mortalità: contributo delle cause all'incremento di marzo-aprile 2020 rispetto alla media 2015-2019 (valori assoluti)



Fonte: Istat, Rilevazione su decessi e cause di morte

Idoneità Informatica:

Si consideri il testo del file "word_1":

- Si modifichi la dimensione del carattere aumentando a 14pt
- Si modifichi il tipo di carattere scegliendo a piacere
- Si attivi il conteggio delle parole

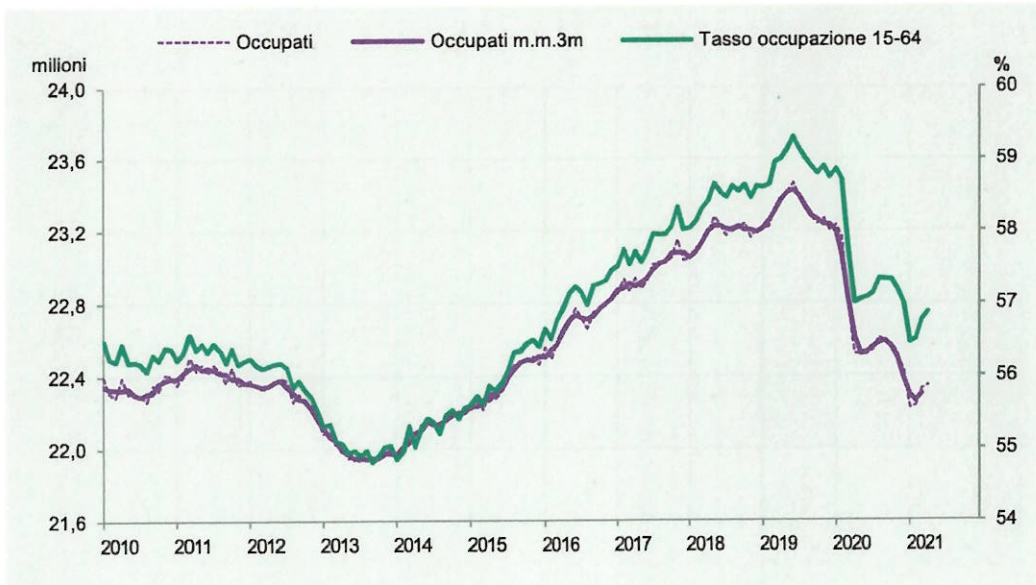
Idoneità Inglese:

Tempo libero

50	9. La struttura del provvedimento amministrativo	7. La funzione dei Piani attuativi regionali nell'ambito del Programma nazionale per la garanzia di occupabilità dei lavoratori (GOL)..	La prenotazione delle risorse	12
----	--	---	-------------------------------	----

11. Che tipo di diagramma è il seguente? A cosa corrisponde il tasso di occupazione? Commentare il grafico

Figura 1.9 Andamento dell'occupazione in Italia. Occupati (milioni, scala sinistra) e tasso di occupazione (valori percentuali, scala destra) (a). Anni 2010-2021 (aprile)



Fonte: Istat, Rilevazione sulle forze di lavoro
(a) Dati provvisori.

Idoneità Informatica:

Si consideri il testo del documento del file "word_4" e si modifichi il testo:

- Si giustifichi il testo e si evidenzino i numeri riportati nel testo

Idoneità Inglese:

La tua città

traccia	domanda 1 - amm/ord	domanda 2 - lavoro	domanda 3 - contabilità	domanda 4 - stat
---------	---------------------	--------------------	-------------------------	------------------

<i>traccia</i>	<i>domanda 1 - amm/ord</i>	<i>domanda 2 - lavoro</i>	<i>domanda 3 - contabilità</i>	<i>domanda 4 - stat</i>
73	La tutela giurisdizionale contro gli atti della pubblica amministrazione	5. L'assessment quale strumento per la personalizzazione delle misure previste dal Programma nazionale per la garanzia di occupabilità dei lavoratori (GOL).	I principi di annualità, unità e universalità nel decreto legislativo 118/2011	1

1. La tabella successiva riporta una distribuzione di frequenze. Che tipo di frequenze vengono riportate? Cosa si può dire nel confronto tra le distribuzioni del carattere titolo di studio nei due sessi?

titolo di studio	M	F	M	F
licenza elementare	3	1	0,33	0,09
licenza media	2	5	0,22	0,45
diploma	2	4	0,22	0,36
laurea	2	1	0,22	0,09
totale	9	11	1,00	1,00

Idoneità Informatica:

Si consideri il documento del file "word_4" e lo si modifichi:

- Organizzando il testo in punti elenco numerati
- Spostando la figura a fianco del testo

Idoneità Inglese:

Amicizie/ parentele all'estero

<i>traccia</i>	<i>domanda 1 - amm/ord</i>	<i>domanda 2 - lavoro</i>	<i>domanda 3 - contabilità</i>	<i>domanda 4 - stat</i>
57	11. La discrezionalità amministrativa	10. Modalità attuative del Percorso 1 nel Piano attuativo del Programma nazionale per la garanzia di occupabilità dei lavoratori (GOL) della regione Friuli Venezia Giulia.	Le fasi del procedimento di spesa e, in particolare, la liquidazione	1

2. Cosa si intende per distribuzione di frequenze? Applicare il concetto di distribuzione di frequenze al carattere titolo di studio nella tabella seguente.

N.id.	Sesso	Titolo di studio	Anno	Statura	Peso	Reddito
1	M	Licenza elementare	1971	182	79,8	14.300
2	M	Licenza elementare	1957	159	69,9	19.800
3	F	Diploma	1938	170	52,0	27.100
4	F	Licenza media	1939	171	56,4	23.200
5	F	Licenza media	1968	165	59,3	23.000
6	F	Licenza media	1973	167	59,6	22.400
7	F	Diploma	1940	173	63,9	23.600
8	F	Licenza media	1944	161	53,1	15.500
9	M	Licenza media	1965	172	80,4	17.600
10	F	Licenza elementare	1952	169	53,1	15.600
11	M	Licenza elementare	1979	180	81,7	18.600
12	M	Laurea	1972	187	68,4	49.700
13	F	Diploma	1985	161	56,5	21.000
14	M	Licenza media	1969	178	77,5	22.600
15	F	Diploma	1946	168	56,4	21.900
16	F	Laurea	1986	156	46,1	25.500
17	M	Diploma	1983	173	69,2	32.400
18	M	Diploma	1953	176	79,8	20.100
19	F	Licenza media	1963	175	59,6	19.800
20	M	Laurea	1982	170	65,0	34.200

Idoneità Informatica:

Si consideri il documento del file "word_4" e lo si modifichi:

- Giustificando il testo
- Spostando la figura a fianco del testo

Idoneità Inglese:

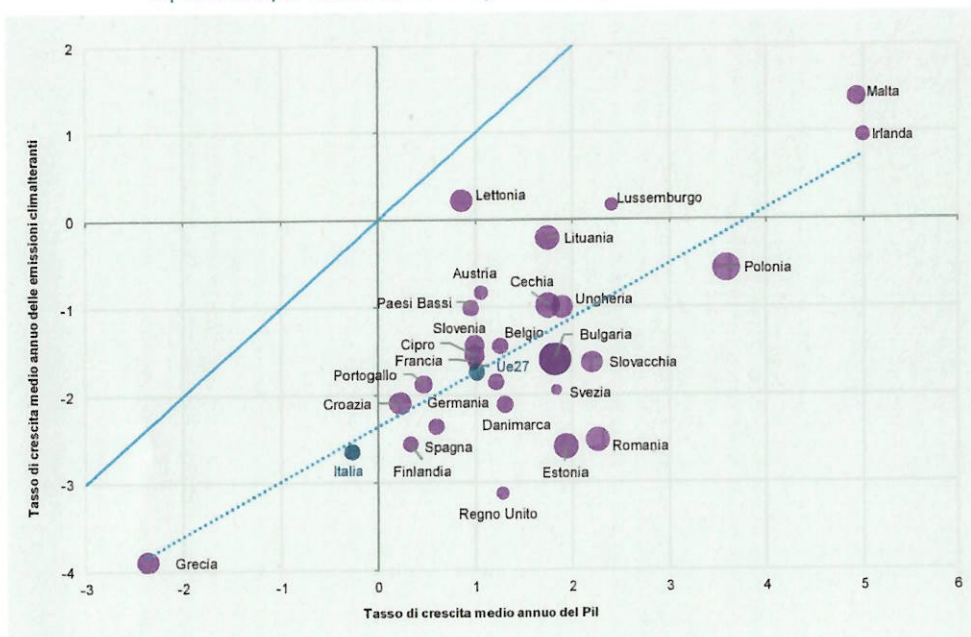
Scuola e formazione

<i>traccia</i>	<i>domanda 1 - amm/ord</i>	<i>domanda 2 - lavoro</i>	<i>domanda 3 - contabilità</i>	<i>domanda 4 - stat</i>
33bis	**La partecipazione al procedimento amministrativo	I livelli essenziali delle prestazioni in materia di servizi per il lavoro	I residui passivi	9

9. La figura successiva riporta un grafico a dispersione

a. Cosa ci consente di evidenziare? Cosa indica la retta tratteggiata?

Figura 5.15 Pil ed emissioni climalteranti nei paesi Ue e nel Regno Unito. Anni 2008-2019 (variazioni percentuali medie annue e intensità emissiva nel 2019 in tonnellate di CO₂ equivalente per milione di euro a prezzi 2015)



Fonte: Elaborazioni su dati Eurostat, Conti delle emissioni atmosferiche e Conti nazionali (a) L'intensità emissiva è rappresentata come area delle bolle (Italia=250 t eq.CO₂/mln €).

Idoneità Informatica:

Si consideri il testo del documento del file "word_2" modificandolo nel seguente modo:

- giustificando il testo
- riducendo il carattere del titolo
- cambiando il tipo di carattere

Idoneità Inglese:

Famiglia

<i>traccia</i>	<i>domanda 1 - amm/ord</i>	<i>domanda 2 - lavoro</i>	<i>domanda 3 - contabilità</i>	<i>domanda 4 - stat</i>
151	7. Atti e provvedimenti amministrativi	10. Modalità attuative del Percorso 1 nel Piano attuativo del Programma nazionale per la garanzia di occupabilità dei lavoratori (GOL) della regione Friuli Venezia Giulia.	7. Debiti fuori bilancio	18

18. Commentare la tabella

Tavola 1.1 Retribuzioni *pro capite*, Ula dipendenti. 1° trimestre 2020-1° trimestre 2021 (variazioni tendenziali percentuali)

	Retribuzioni <i>pro capite</i>					Unità di lavoro equivalente				
	T1-2020	T2-2020	T3-2020	T4-2020	T1-2021	T1-2020	T2-2020	T3-2020	T4-2020	T1-2021
A - Agricoltura, silvicoltura e pesca	1,6	2,2	-2,1	1,1	-1,5	-2,5	-7,9	1,1	-3,8	3,0
B-E - Industria in senso stretto	2,0	1,2	-1,6	1,3	1,8	-7,5	-20,0	-4,3	-6,2	4,7
F - Costruzioni	-2,2	-4,6	0,8	2,5	1,7	-6,2	-19,0	1,3	-0,8	14,1
G-T - Totale servizi	2,4	4,5	1,9	1,4	1,1	-6,0	-16,8	-8,1	-7,5	-3,2
Totale attività economiche	2,0	3,0	1,0	1,4	1,4	-6,2	-17,3	-6,6	-6,8	-0,7

Fonte: Istat, Conti nazionali

Idoneità Informatica:

Si consideri la tabella nel foglio "tabella1" nel file "tabA", e si facciano le seguenti modifiche:

- Si allinei centralmente il testo nelle celle;
- Si calcoli l'età media degli individui in tabella
- Si calcoli il numero di maschi indicati con SEX=1

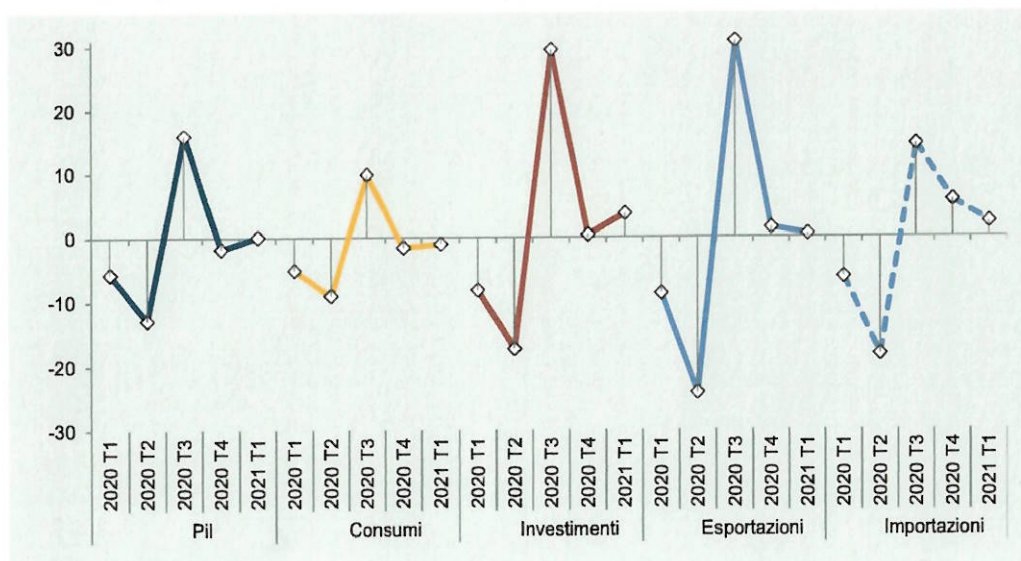
Idoneità Inglese:

Film e documentari

<i>traccia</i>	<i>domanda 1 - amm/ord</i>	<i>domanda 2 - lavoro</i>	<i>domanda 3 - contabilità</i>	<i>domanda 4 - stat</i>
72	Avvio e conclusione del procedimento amministrativo	I livelli essenziali delle prestazioni in materia di servizi per il lavoro.	11. I principi di annualità, unità e universalità nel decreto legislativo 118/2011	9

9. Cosa si intende per diagramma temporale? Cosa indica l'asse orizzontale e quello verticale? Si commenti la figura sotto riportata.

Figura 1.5 Pil e sue componenti in Italia. 1° trimestre 2020-1° trimestre 2021 (variazioni percentuali sul trimestre precedente)



Fonte: Istat, Conti nazionali

Idoneità Informatica:

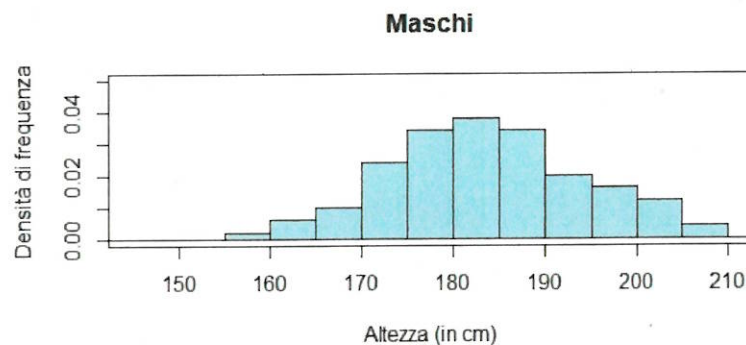
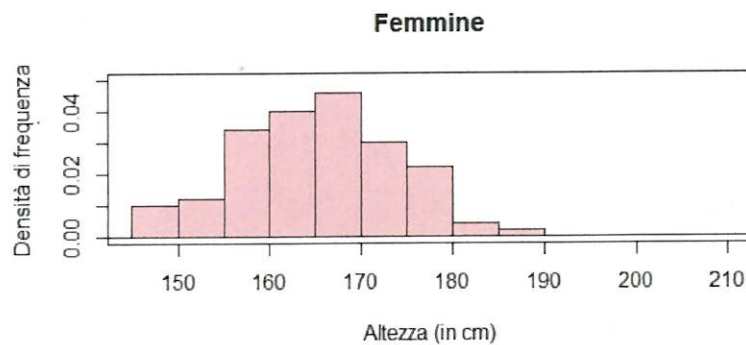
Si consideri il documento del file "word_4" e lo importi in un file di presentazione powerpoint.

Idoneità Inglese:

Serie TV

<i>traccia</i>	<i>domanda 1 - amm/ord</i>	<i>domanda 2 - lavoro</i>	<i>domanda 3 - contabilità</i>	<i>domanda 4 - stat</i>
79	Nullità e del provvedimento amministrativo	7. La funzione dei Piani attuativi regionali nell'ambito del Programma nazionale per la garanzia di occupabilità dei lavoratori (GOL).	6. L'autonomia finanziaria della Regione Friuli Venezia Giulia	6

6. L'istogramma, utilizzato per variabili quantitative, cosa rappresenta? In un istogramma l'altezza delle barre a cosa corrisponde? Commentare i seguenti istogrammi



Idoneità Informatica:

Si consideri la tabella nel foglio "tabella 6":

- si crei una tabella con i totali di laureati per dipartimento

Idoneità Inglese:

Sport

<i>traccia</i>	<i>domanda 1 - amm/ord</i>	<i>domanda 2 - lavoro</i>	<i>domanda 3 - contabilità</i>	<i>domanda 4 - stat</i>
44	13. Il procedimento amministrativo	Il principio di condizionalità nel rapporto tra politiche attive e passive del lavoro	La prenotazione delle risorse	2

2. Una variabile è una caratteristica associata alle unità statistiche, che può assumere valori diversi sulle diverse unità. Si faccia esempi di variabili **qualitative** e di variabili **quantitative**. Cosa si intende per distribuzione di una variabile?

Idoneità Informatica:

Si consideri il testo del file "word_1":

- a. Si evidenzino parti del testo:
 - a. Con evidenziatore
 - b. Con sottolineatura
 - c. Con testo in grassetto

Idoneità Inglese:

Teatro e spettacoli

<i>traccia</i>	<i>domanda 1 - amm/ord</i>	<i>domanda 2 - lavoro</i>	<i>domanda 3 - contabilità</i>	<i>domanda 4 - stat</i>
83	6. Amministrazione attiva, consultiva, di controllo	6. Le politiche attive del lavoro e la formazione professionale nell'ambito del Programma nazionale per la garanzia di occupabilità dei lavoratori (GOL).	5. Principi costituzionali in materia di bilancio	3

3. Si supponga di fare un'indagine medica in cui vengono raccolte le seguenti caratteristiche sugli individui del campione. Quali sono variabili qualitative e quali sono quantitative?

- Sesso (maschio o femmina)
- Età (anni)
- Etnia (asiatico, nero, bianco, altro)
- Fumatore/trice (sì, no)
- Pressione sanguigna (millimetri di mercurio)
- Presenza di calcio nel sangue (microgrammi per millimetro)

Idoneità Informatica:

Si consideri il testo del file "word_1":

- In che modo si possono aumentare i margini aumentandoli del documento
- Si inserisca l'intestazione con il proprio nome in corsivo e il numero di pagine

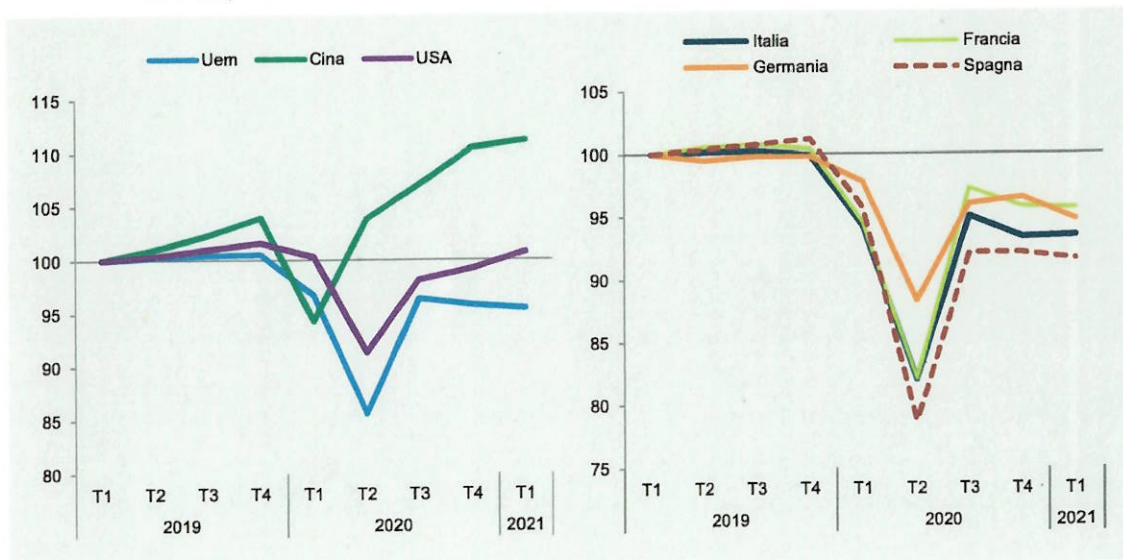
Idoneità Inglese:

Musica

traccia	domanda 1 - amm/ord	domanda 2 - lavoro	domanda 3 - contabilità	domanda 4 - stat
51	13. La struttura del provvedimento amministrativo	14. Modalità attuative del Percorso 5 nel Piano attuativo del Programma nazionale per la garanzia di occupabilità dei lavoratori (GOL) della regione Friuli Venezia Giulia.	^^Le fasi del procedimento di spesa e, in particolare, l'impegno	8

8. Cosa si intende per diagramma temporale? Cosa indica l'asse orizzontale e quello verticale? Si commenti la figura sotto riportata.

Figura 1.2 Prodotto interno lordo. 1° trimestre 2019-1° trimestre 2021 (valori destagionalizzati trimestrali 2019 T1 = 100)



Fonte: OCSE ed Eurostat

Idoneità Informatica:

A cosa serve il programma Microsoft Excel?

Che cos'è una "cartella di lavoro" in Microsoft excel?

Come posso dare un nome ad un foglio ed eliminare un foglio di lavoro?

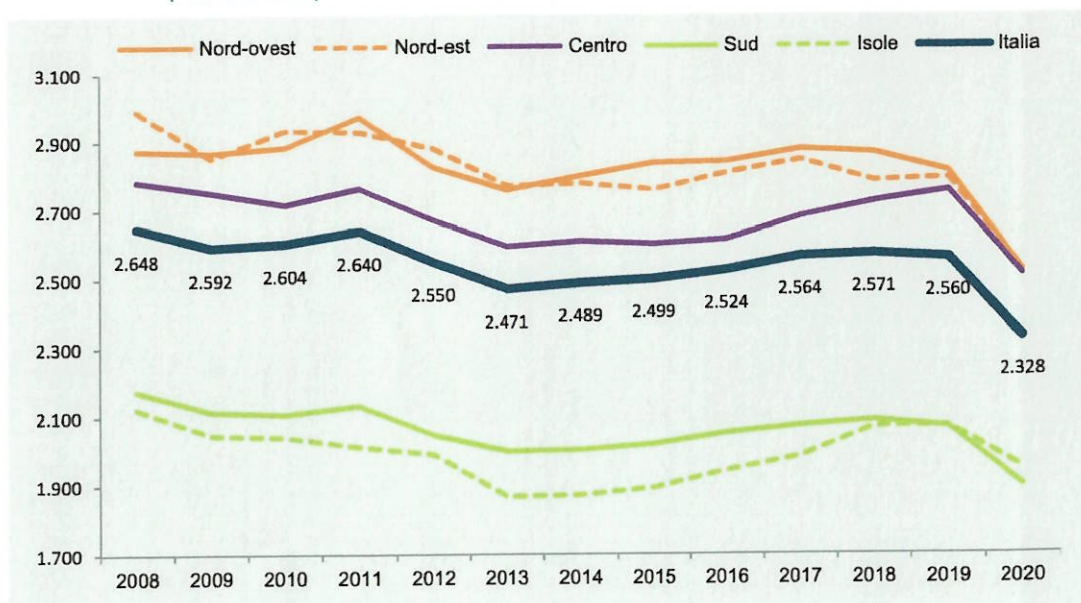
Idoneità Inglese:

Viaggi

traccia	domanda 1 - amm/ord	domanda 2 - lavoro	domanda 3 - contabilità	domanda 4 - stat
159	10. La competenza	1. Quali sono gli obiettivi del Programma nazionale per la garanzia di occupabilità dei lavoratori (GOL)?	***Le fasi del procedimento di entrata e, in particolare, l'accertamento	15

15. Commentare il grafico

Figura 1.19 Spesa media mensile delle famiglie per ripartizione geografica. Anni 2008-2020 (valori in euro)



Fonte: Istat, Indagine sulle spese delle famiglie

Idoneità Informatica:

Si consideri il testo del file "word_1":

- Si modifichi la dimensione del carattere aumentando a 14pt
- Si modifichi il tipo di carattere scegliendo a piacere
- Si attivi il conteggio delle parole

Idoneità Inglese:

Vacanze

<i>traccia</i>	<i>domanda 1 - amm/ord</i>	<i>domanda 2 - lavoro</i>	<i>domanda 3 - contabilità</i>	<i>domanda 4 - stat</i>
54	I vizi di legittimità del provvedimento amministrativo	9. Le azioni per la compatibilità del Programma nazionale per la garanzia di occupabilità dei lavoratori (GOL) e le misure regionali o nazionali a valere sul FSE + nel Piano attuativo della regione Friuli Venezia Giulia.	14. Il principio dell'equilibrio di bilancio nel decreto legislativo 118/2011	12

11. Si supponga di condurre una rilevazione su un campione di individui raccogliendo alcuni caratteri/variabili. Distinguere i caratteri qualitativi e quelli quantitativi.

N.id.	Sesso	Titolo di studio	Anno	Statura	Peso	Reddito
1	M	Licenza elementare	1971	182	79,8	14.300
2	M	Licenza elementare	1957	159	69,9	19.800
3	F	Diploma	1938	170	52,0	27.100
4	F	Licenza media	1939	171	56,4	23.200
5	F	Licenza media	1968	165	59,3	23.000
6	F	Licenza media	1973	167	59,6	22.400
7	F	Diploma	1940	173	63,9	23.600
8	F	Licenza media	1944	161	53,1	15.500
9	M	Licenza media	1965	172	80,4	17.600
10	F	Licenza elementare	1952	169	53,1	15.600
11	M	Licenza elementare	1979	180	81,7	18.600
12	M	Laurea	1972	187	68,4	49.700
13	F	Diploma	1985	161	56,5	21.000
14	M	Licenza media	1969	178	77,5	22.600
15	F	Diploma	1946	168	56,4	21.900
16	F	Laurea	1986	156	46,1	25.500
17	M	Diploma	1983	173	69,2	32.400
18	M	Diploma	1953	176	79,8	20.100
19	F	Licenza media	1963	175	59,6	19.800
20	M	Laurea	1982	170	65,0	34.200

Idoneità Informatica:

Si consideri il testo del documento del file "word_4" e si modifichi il testo:

- Si giustifichi il testo e si inserisca l'intestazione e il numero di pagina

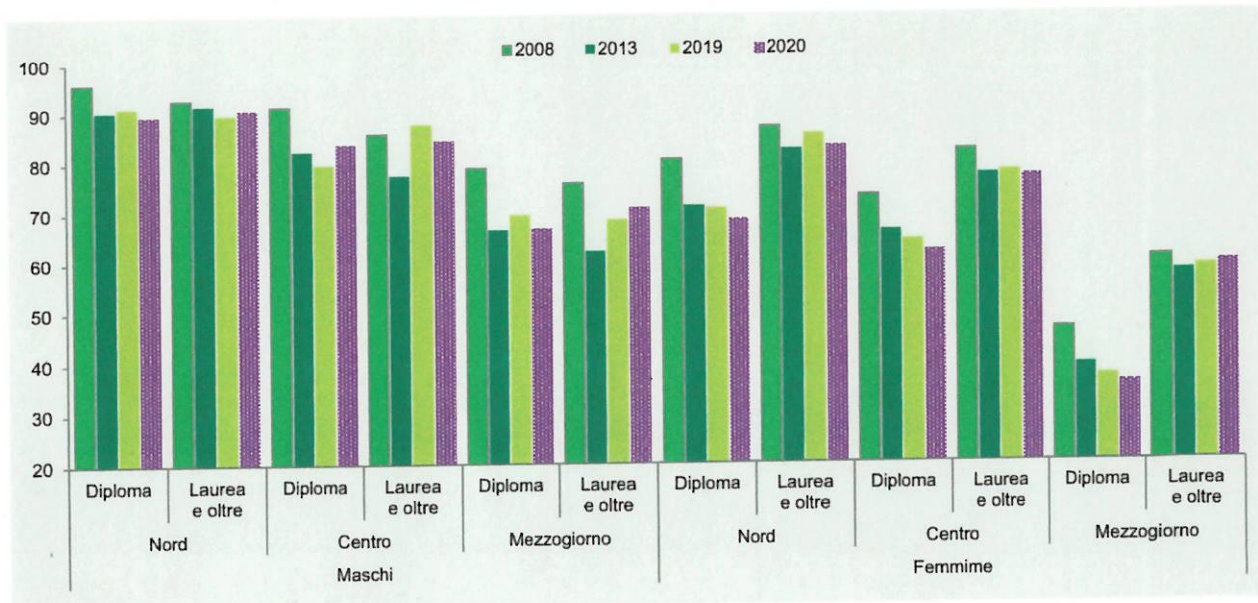
Idoneità Inglese:

Giornali e riviste

traccia	domanda 1 - amm/ord	domanda 2 - lavoro	domanda 3 - contabilità	domanda 4 - stat
67	14. Le fasi del procedimento amministrativo	I livelli essenziali delle prestazioni in materia di servizi per il lavoro	I residui attivi	7

7. Commentiamo insieme il seguente grafico

Figura 3.19 Tasso di occupazione dei giovani di 30-34 anni per sesso, titolo di studio e ripartizione geografica. Anni 2008, 2013, 2019 e 2020 (valori percentuali)



Fonte: Rilevazione sulle forze di lavoro, vecchia serie

Idoneità Informatica:

Si consideri la tabella nel foglio "tabella3" nel file "tabA", e si facciano le seguenti aggiunte:

- si calcolino le somme di riga e di colonna
- si calcolino le percentuali dei maschi e delle femmine

Idoneità Inglese:

Attualità

<i>traccia</i>	<i>domanda 1 - amm/ord</i>	<i>domanda 2 - lavoro</i>	<i>domanda 3 - contabilità</i>	<i>domanda 4 - stat</i>
56	L'autotutela	14. Modalità attuative del Percorso 5 nel Piano attuativo del Programma nazionale per la garanzia di occupabilità dei lavoratori (GOL) della regione Friuli -Venezia Giulia.	10. Bilancio di previsione finanziaria e bilancio finanziario gestionale nella legge regionale 26/2015	12*

12*. Si supponga di condurre una rilevazione su un campione di individui raccogliendo alcuni caratteri/variabili. Distinguere i caratteri qualitativi e quelli quantitativi.

N.id.	Sesso	Titolo di studio	Anno	Statura	Peso	Reddito
1	M	Licenza elementare	1971	182	79,8	14.300
2	M	Licenza elementare	1957	159	69,9	19.800
3	F	Diploma	1938	170	52,0	27.100
4	F	Licenza media	1939	171	56,4	23.200
5	F	Licenza media	1968	165	59,3	23.000
6	F	Licenza media	1973	167	59,6	22.400
7	F	Diploma	1940	173	63,9	23.600
8	F	Licenza media	1944	161	53,1	15.500
9	M	Licenza media	1965	172	80,4	17.600
10	F	Licenza elementare	1952	169	53,1	15.600
11	M	Licenza elementare	1979	180	81,7	18.600
12	M	Laurea	1972	187	68,4	49.700
13	F	Diploma	1985	161	56,5	21.000
14	M	Licenza media	1969	178	77,5	22.600
15	F	Diploma	1946	168	56,4	21.900
16	F	Laurea	1986	156	46,1	25.500
17	M	Diploma	1983	173	69,2	32.400
18	M	Diploma	1953	176	79,8	20.100
19	F	Licenza media	1963	175	59,6	19.800
20	M	Laurea	1982	170	65,0	34.200

Idoneità Informatica:

Si consideri la tabella nel foglio "tabella4" nel file "tabA", e si facciano le seguenti aggiunte:

- si calcoli il totale dei maschi e delle femmine
- si calcoli la percentuale di preferenze per il vino dei maschi e delle femmine

Idoneità Inglese:

Serie TV

<i>traccia</i>	<i>domanda 1 - amm/ord</i>	<i>domanda 2 - lavoro</i>	<i>domanda 3 - contabilità</i>	<i>domanda 4 - stat</i>
66	9. La struttura del provvedimento amministrativo	L'offerta di lavoro congrua	6. L'autonomia finanziaria della Regione Friuli Venezia Giulia	3

3. Si supponga di fare un'indagine medica in cui vengono raccolte le seguenti caratteristiche sugli individui del campione. Quali sono variabili categoriche e quali sono quantitative?

- Sesso (maschio o femmina)
- Età (anni)
- Etnia (asiatico, nero, bianco, altro)
- Fumatore/trice (si, no)
- Pressione sanguigna (millimetri di mercurio)
- Presenza di calcio nel sangue (microgrammi per millimetro)

Idoneità Informatica (id 8):

Si consideri la tabella nel foglio "tabella2" nel file "tabA", e si facciano le seguenti modifiche:

- Evidenziare (testo in grassetto o celle colorate) la riga dei nomi delle colonne
- Ordinare i dati in base a due caratteristiche a piacere

Idoneità Inglese:

Natura e clima

<i>traccia</i>	<i>domanda 1 - amm/ord</i>	<i>domanda 2 - lavoro</i>	<i>domanda 3 - contabilità</i>	<i>domanda 4 - stat</i>
65	6. Amministrazione attiva, consultiva, di controllo	3. Quali sono i percorsi individuati dal Programma nazionale per la garanzia di occupabilità dei lavoratori (GOL)?	^^Le fasi del procedimento di entrata e, in particolare, il versamento	19

19.Commentare la tabella

Tavola 1.2 Quote occupati dipendenti donne, temporanei, giovani per settore di attività economica. Anni 2019-2020 (a)

SETTORI DI ATTIVITÀ ECONOMICA	Dipendenti donne			Dipendenti contratto a tempo determinato			Dipendenti 15-34 anni		
	Quota 2019	Quota 2020	Differenza	Quota 2019	Quota 2020	Differenza	Quota 2019	Quota 2020	Differenza
Agricoltura, silvicoltura e pesca	25,4	25,1	-0,3	64,5	63,9	-0,6	26,1	26,7	0,6
Industria in senso stretto	25,8	25,8	-0,0	12,7	10,3	-2,4	24,5	23,5	-1,1
Costruzioni	8,2	9,7	1,5	18,9	17,1	-1,8	23,9	23,5	-0,4
Commercio, alberghi e ristoranti	49,9	49,4	-0,5	24,6	20,4	-4,2	39,3	37,9	-1,4
Altre attività dei servizi	57,0	57,0	0,0	13,7	12,7	-1,0	18,4	18,0	-0,5
Totale servizi	55,2	55,1	-0,0	16,5	14,6	-1,9	23,7	22,9	-0,9
Totale	45,4	45,2	-0,2	17,0	15,1	-1,9	24,0	23,1	-0,8

Fonte: Istat, Rilevazione sulle forze di lavoro
(a) Dati provvisori.

Idoneità Informatica (id 8):

Si consideri la tabella nel foglio "tabella1" nel file "tabA", e si facciano le seguenti modifiche:

- Si allinei centralmente il testo nelle celle;
- Si calcoli l'età media degli individui in tabella
- Si calcoli il numero di maschi indicati con SEX=1

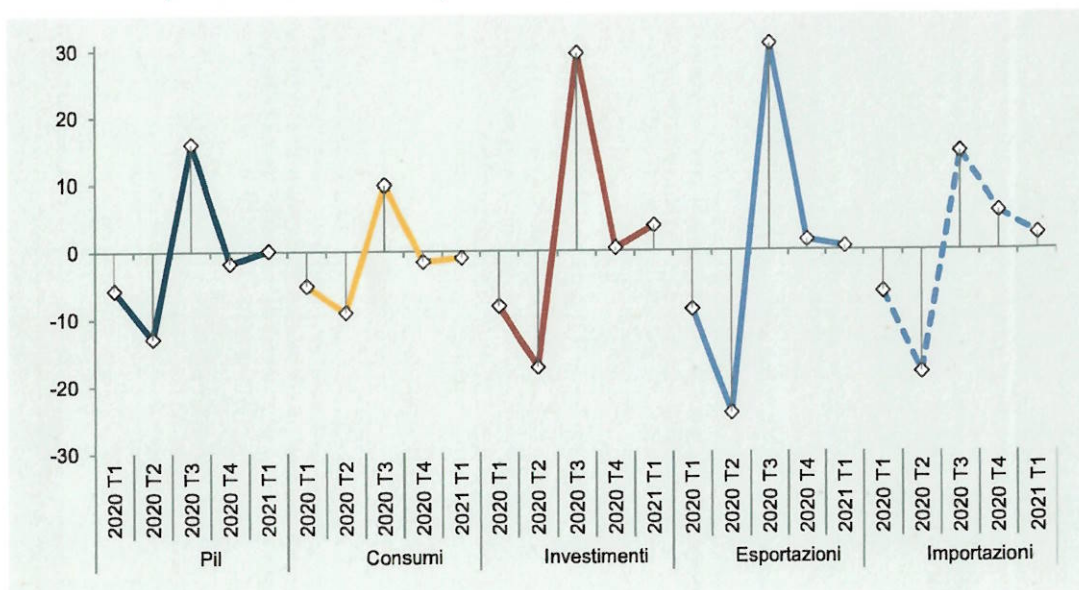
Idoneità Inglese:

Amici

traccia	domanda 1 - amm/ord	domanda 2 - lavoro	domanda 3 - contabilità	domanda 4 - stat
33	8. Elementi essenziali e accidentali del provvedimento amministrativo	12. Modalità attuative del Percorso 3 nel Piano attuativo del Programma nazionale per la garanzia di occupabilità dei lavoratori (GOL) della regione Friuli Venezia Giulia.	**Le fasi del procedimento di spesa e, in particolare, l'ordinazione e il pagamento	9

9. Cosa si intende per diagramma temporale? Cosa indica l'asse orizzontale e quello verticale? Si commenti la figura sotto riportata.

Figura 1.5 Pil e sue componenti in Italia. 1° trimestre 2020-1° trimestre 2021 (variazioni percentuali sul trimestre precedente)



Fonte: Istat, Conti nazionali

Idoneità Informatica (id 6):

A cosa serve il programma Microsoft Excel?
 Che cos'è una "cartella di lavoro" in Microsoft excel?

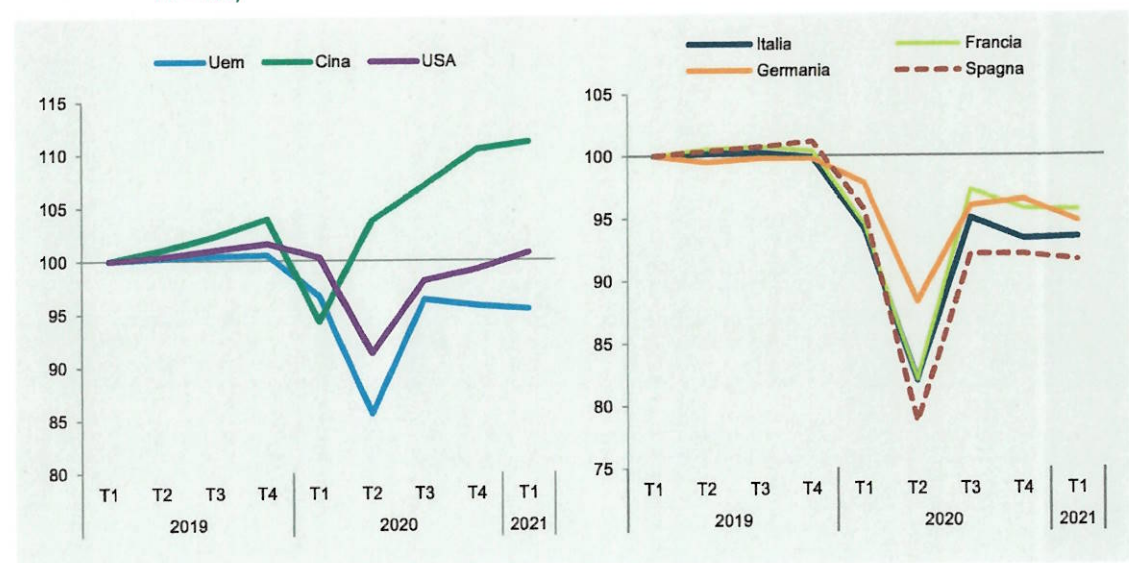
Idoneità Inglese:

Viaggi

traccia	domanda 1 - amm/ord	domanda 2 - lavoro	domanda 3 - contabilità	domanda 4 - stat
63	10. La competenza	7. La funzione dei Piani attuativi regionali nell'ambito del Programma nazionale per la garanzia di occupabilità dei lavoratori (GOL).	Le fasi del procedimento di spesa e, in particolare, l'impegno	8

8. Cosa si intende per diagramma temporale? Cosa indica l'asse orizzontale e quello verticale? Si commenti la figura sotto riportata.

Figura 1.2 Prodotto interno lordo. 1° trimestre 2019-1° trimestre 2021 (valori destagionalizzati trimestrali 2019 T1 = 100)



Fonte: OCSE ed Eurostat

Idoneità Informatica (id 7):

Si apra una nuova cartella di lavoro Excel e si attribuisca il nome "mia tabella" al primo foglio di lavoro, si inserisca la seguente tabella:

Nome	Punteggio
Mario	22
Sonia	30
Anna	18
Luigi	24

Idoneità Inglese:

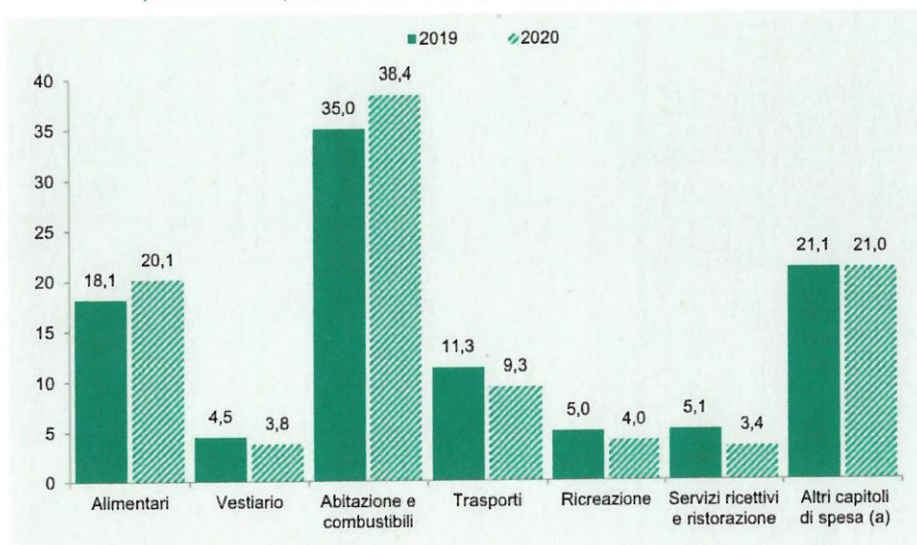
Moda/vestiti

<i>traccia</i>	<i>domanda 1 - amm/ord</i>	<i>domanda 2 - lavoro</i>	<i>domanda 3 - contabilità</i>	<i>domanda 4 - stat</i>
48	4. Organi e uffici in diritto amministrativo	11. Modalità attuative del Percorso 2 nel Piano attuativo del Programma nazionale per la garanzia di occupabilità dei lavoratori (GOL) della regione Friuli Venezia-Giulia.	9. Il bilancio pubblico: stanziamento della spesa e previsione dell'entrata	4

4. Nell'analisi esplorativa dei dati si utilizzano i diagrammi a torta.

- Come viene anche chiamato e cos'è?
- Cosa possiamo rappresentare con un diagramma a torta?
- I dati riportati sotto possono essere rappresentati da uno o più diagrammi a torta?

Figura 1.20 Spesa media mensile per capitolo di spesa. Anni 2019-2020 (composizione percentuale rispetto al totale della spesa media mensile)



Fonte: Istat, Indagine sulle spese delle famiglie
(a) Bevande alcoliche e tabacchi; Mobili, articoli e servizi per la casa; Servizi sanitari e spese per la salute; Comunicazioni; Istruzione; Altri beni e servizi.

Idoneità Informatica:

Si consideri il testo del documento del file "word_3":

- Si inserisca il testo in colore nero in tutte le sue parti e il titolo in colore rosso
- Si cambino i punti elenco con numeri

Idoneità Inglese:

Presenta te stesso

<i>traccia</i>	<i>domanda 1 - amm/ord</i>	<i>domanda 2 - lavoro</i>	<i>domanda 3 - contabilità</i>	<i>domanda 4 - stat</i>
62	I provvedimenti di autorizzazione e concessione	2. Quali sono i beneficiari del Programma nazionale per la garanzia di occupabilità dei lavoratori (GOL)?	14. Il principio dell'equilibrio di bilancio nel decreto legislativo 118/2011	10

10. Nella descrizione statistica della distribuzione di una variabile/caratteristica si valuta innanzitutto il centro della distribuzione; quali misure del centro si possono utilizzare?

Idoneità Informatica:

Si consideri la tabella nel foglio "tabella 6":

- si crei una tabella con i totali di laureati per dipartimento

Idoneità Inglese:

Musica

<i>traccia</i>	<i>domanda 1 - amm/ord</i>	<i>domanda 2 - lavoro</i>	<i>domanda 3 - contabilità</i>	<i>domanda 4 - stat</i>
76	La motivazione del provvedimento amministrativo	12. Modalità attuative del Percorso 3 nel Piano attuativo del Programma nazionale per la garanzia di occupabilità dei lavoratori (GOL) della regione Friuli Venezia Giulia.	**Le fasi del procedimento di spesa e, in particolare, la liquidazione	10

10. Si parli della media, della mediana e della moda nelle variabili qualitative e quantitative.

Idoneità Informatica (id 4):

Si consideri il testo del file "word_1":

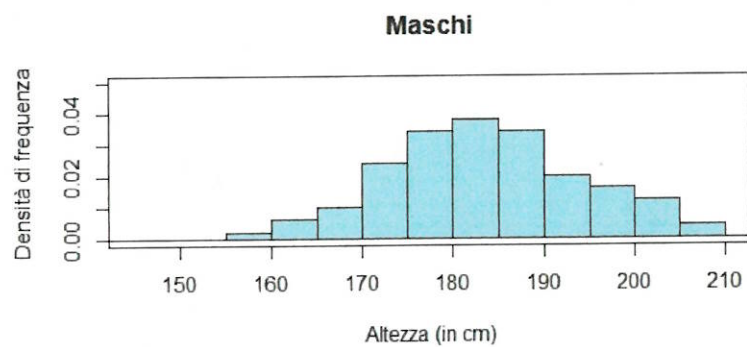
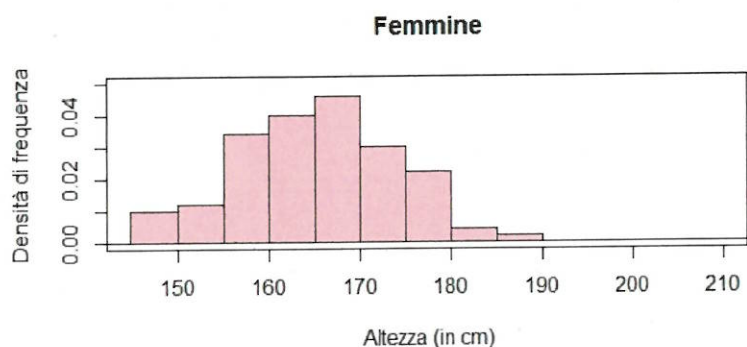
- a. Si può inserire una tabella nel documento word? In che modo?
- b. Si divida il testo in paragrafi inserendo dei titoli in corsivo.

Idoneità Inglese:

Famiglia

<i>traccia</i>	<i>domanda 1 - amm/ord</i>	<i>domanda 2 - lavoro</i>	<i>domanda 3 - contabilità</i>	<i>domanda 4 - stat</i>
78	Avvio e conclusione del procedimento amministrativo	9. Le azioni per la compatibilità del Programma nazionale per la garanzia di occupabilità dei lavoratori (GOL) e le misure regionali o nazionali a valere sul FSE + nel Piano attuativo della regione Friuli Venezia Giulia.	^^Le fasi del procedimento di entrata e, in particolare, la riscossione	6

6. L'istogramma, utilizzato per variabili quantitative, cosa rappresenta? In un istogramma l'altezza delle barre a cosa corrisponde? Commentare i seguenti istogrammi



Idoneità Informatica:

Si consideri la tabella nel foglio "tabella 6":

- si calcolino le somme totali, i valori medi e massimi delle tre colonne riportate

Idoneità Inglese:

Il meteo

<i>traccia</i>	<i>domanda 1 - amm/ord</i>	<i>domanda 2 - lavoro</i>	<i>domanda 3 - contabilità</i>	<i>domanda 4 - stat</i>
69	L'interesse legittimo	Il principio di condizionalità nel rapporto tra politiche attive e passive del lavoro	15. Il principio della competenza finanziaria nel decreto legislativo 118/2011	18

18. Commentare la tabella

Tavola 1.1 Retribuzioni *pro capite*, Ula dipendenti. 1° trimestre 2020-1° trimestre 2021 (variazioni tendenziali percentuali)

	Retribuzioni <i>pro capite</i>					Unità di lavoro equivalente				
	T1-2020	T2-2020	T3-2020	T4-2020	T1-2021	T1-2020	T2-2020	T3-2020	T4-2020	T1-2021
A - Agricoltura, silvicoltura e pesca	1,6	2,2	-2,1	1,1	-1,5	-2,5	-7,9	1,1	-3,8	3,0
B-E - Industria in senso stretto	2,0	1,2	-1,6	1,3	1,8	-7,5	-20,0	-4,3	-6,2	4,7
F - Costruzioni	-2,2	-4,6	0,8	2,5	1,7	-6,2	-19,0	1,3	-0,8	14,1
G-T - Totale servizi	2,4	4,5	1,9	1,4	1,1	-6,0	-16,8	-8,1	-7,5	-3,2
Totale attività economiche	2,0	3,0	1,0	1,4	1,4	-6,2	-17,3	-6,6	-6,8	-0,7

Fonte: Istat, Conti nazionali

Idoneità Informatica:

Si consideri il testo del documento del file "word_3" e si modifichi il testo:

- Inserendo il carattere corsivo
- Evidenziando parti di testo in diversi modi

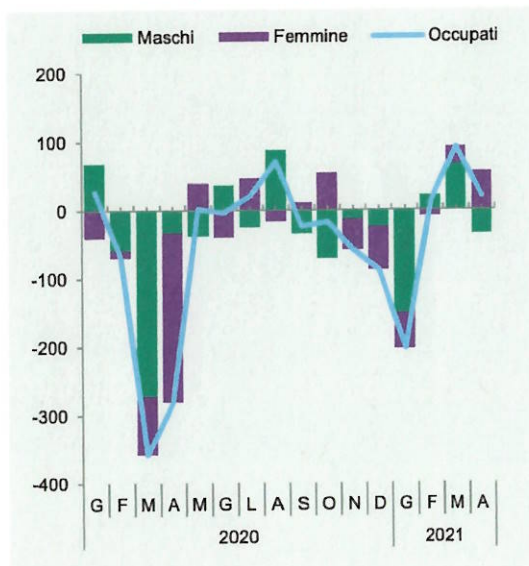
Idoneità Inglese:

Arte

traccia	domanda 1 - amm/ord	domanda 2 - lavoro	domanda 3 - contabilità	domanda 4 - stat
81	Nullità e annullabilità del provvedimento amministrativo	15. Modalità di attuazione dell'assessment nel Piano attuativo del Programma nazionale per la garanzia di occupabilità dei lavoratori (GOL) della regione Friuli Venezia Giulia.	I principi di annualità, unità e universalità nel decreto legislativo 118/2011	16

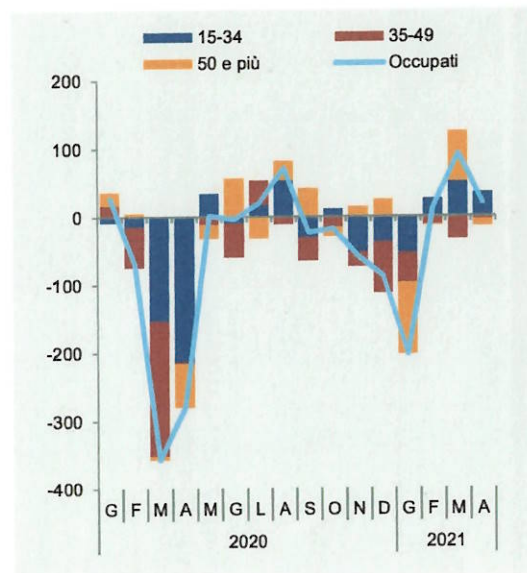
16. Commentare il grafico

Figura 1.11a Occupati per genere. Gennaio 2020-Aprile 2021 (variazioni congiunturali assolute, dati destagionalizzati) (a)



Fonte: Istat, Rilevazione sulle forze di lavoro
(a) Dati provvisori.

Figura 1.11b Occupati per classe di età. Gennaio 2020-Aprile 2021 (variazioni congiunturali assolute, dati destagionalizzati) (a)



Fonte: Istat, Rilevazione sulle forze di lavoro
(a) Dati provvisori.

Idoneità Informatica (id 4):

Si consideri il testo del file "word_1":

- Si può inserire una tabella nel documento word? In che modo?
- Si divida il testo in paragrafi inserendo dei titoli in corsivo.

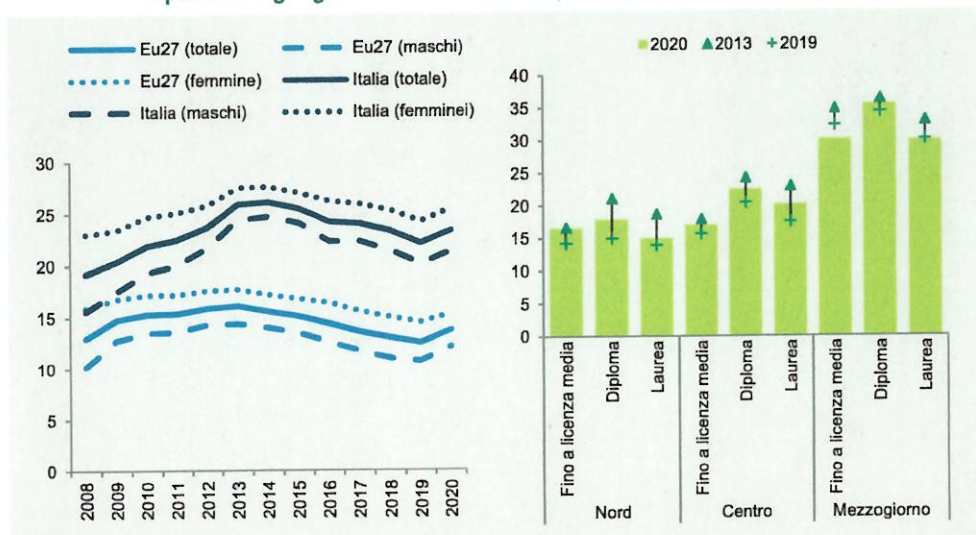
Idoneità Inglese:

Computer e tecnologia

<i>traccia</i>	<i>domanda 1 - amm/ord</i>	<i>domanda 2 - lavoro</i>	<i>domanda 3 - contabilità</i>	<i>domanda 4 - stat</i>
85	La tutela giurisdizionale contro gli atti della pubblica amministrazione	10. Modalità attuative del Percorso 1 nel Piano attuativo del Programma nazionale per la garanzia di occupabilità dei lavoratori (GOL) della regione Friuli Venezia Giulia.	Principi costituzionali in materia di bilancio	9

9*. Cosa si intende per diagramma temporale? Cosa indica l'asse orizzontale e quello verticale nella figura a sinistra? Che tipo di grafico invece è quello a destra?

Figura 3.11 Giovani di 15-29 anni che risultano non occupati né inseriti in un percorso di istruzione o formazione (NEET) in Italia e nell'Ue27, per sesso (sinistra) e per ripartizione geografica e titolo di studio (destra). Anni 2008-2020 (valori percentuali)



Fonte: Eurostat, Labour Force Survey; Istat, Rilevazione sulle forze di lavoro, vecchia serie

Idoneità Informatica:

Si consideri la tabella nel foglio "tabella3" nel file "tabA", e si facciano le seguenti aggiunte:

- si calcolino le somme di riga e di colonna
- si calcolino le percentuali dei maschi e delle femmine

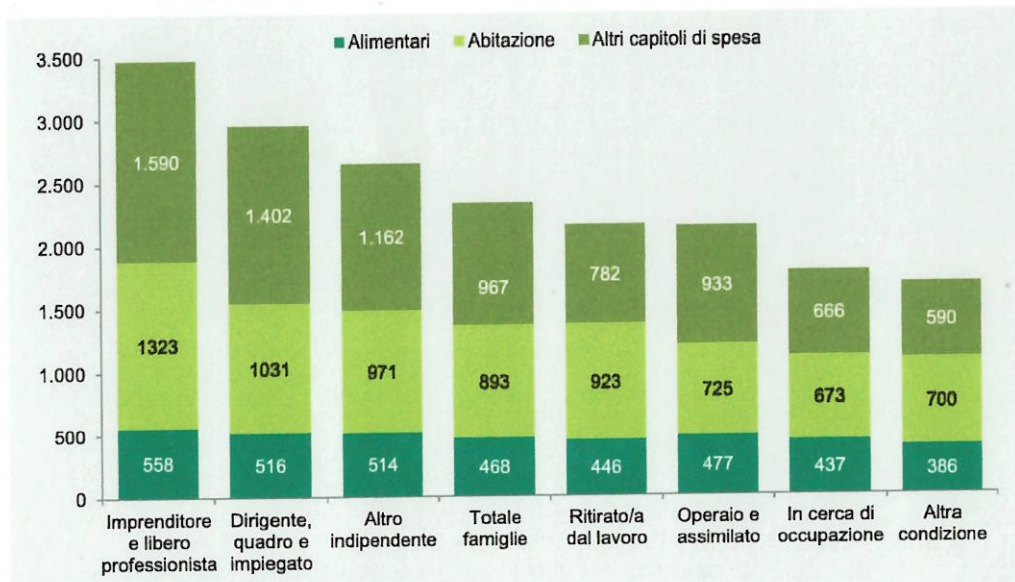
Idoneità Inglese:

Attualità

<i>traccia</i>	<i>domanda 1 - amm/ord</i>	<i>domanda 2 - lavoro</i>	<i>domanda 3 - contabilità</i>	<i>domanda 4 - stat</i>
74	13. Il procedimento amministrativo	1. Quali sono gli obiettivi del Programma nazionale per la garanzia di occupabilità dei lavoratori (GOL)?	I residui passivi	14

14. Il grafico successivo cosa rappresenta? Come potremmo rappresentare gli stessi dati in modo alternativo

Figura 1.21 Spesa media mensile totale, per alimentari, per abitazione e per altri capitoli di spesa per condizione professionale della persona di riferimento. Anno 2020 (valori in euro)



Fonte: Istat, Indagine sulle spese delle famiglie

Idoneità Informatica:

Si consideri il testo del file "word_1":

- In che modo si possono aumentare i margini aumentandoli del documento
- Si inserisca l'intestazione con il proprio nome in corsivo e il numero di pagine

Idoneità Inglese:

Teatro e spettacoli